



This is a digital copy of a book that was preserved for generations on library shelves before it was carefully scanned by Google as part of a project to make the world's books discoverable online.

It has survived long enough for the copyright to expire and the book to enter the public domain. A public domain book is one that was never subject to copyright or whose legal copyright term has expired. Whether a book is in the public domain may vary country to country. Public domain books are our gateways to the past, representing a wealth of history, culture and knowledge that's often difficult to discover.

Marks, notations and other marginalia present in the original volume will appear in this file - a reminder of this book's long journey from the publisher to a library and finally to you.

Usage guidelines

Google is proud to partner with libraries to digitize public domain materials and make them widely accessible. Public domain books belong to the public and we are merely their custodians. Nevertheless, this work is expensive, so in order to keep providing this resource, we have taken steps to prevent abuse by commercial parties, including placing technical restrictions on automated querying.

We also ask that you:

- + *Make non-commercial use of the files* We designed Google Book Search for use by individuals, and we request that you use these files for personal, non-commercial purposes.
- + *Refrain from automated querying* Do not send automated queries of any sort to Google's system: If you are conducting research on machine translation, optical character recognition or other areas where access to a large amount of text is helpful, please contact us. We encourage the use of public domain materials for these purposes and may be able to help.
- + *Maintain attribution* The Google "watermark" you see on each file is essential for informing people about this project and helping them find additional materials through Google Book Search. Please do not remove it.
- + *Keep it legal* Whatever your use, remember that you are responsible for ensuring that what you are doing is legal. Do not assume that just because we believe a book is in the public domain for users in the United States, that the work is also in the public domain for users in other countries. Whether a book is still in copyright varies from country to country, and we can't offer guidance on whether any specific use of any specific book is allowed. Please do not assume that a book's appearance in Google Book Search means it can be used in any manner anywhere in the world. Copyright infringement liability can be quite severe.

About Google Book Search

Google's mission is to organize the world's information and to make it universally accessible and useful. Google Book Search helps readers discover the world's books while helping authors and publishers reach new audiences. You can search through the full text of this book on the web at <http://books.google.com/>



Informazioni su questo libro

Si tratta della copia digitale di un libro che per generazioni è stato conservata negli scaffali di una biblioteca prima di essere digitalizzato da Google nell'ambito del progetto volto a rendere disponibili online i libri di tutto il mondo.

Ha sopravvissuto abbastanza per non essere più protetto dai diritti di copyright e diventare di pubblico dominio. Un libro di pubblico dominio è un libro che non è mai stato protetto dal copyright o i cui termini legali di copyright sono scaduti. La classificazione di un libro come di pubblico dominio può variare da paese a paese. I libri di pubblico dominio sono l'anello di congiunzione con il passato, rappresentano un patrimonio storico, culturale e di conoscenza spesso difficile da scoprire.

Commenti, note e altre annotazioni a margine presenti nel volume originale compariranno in questo file, come testimonianza del lungo viaggio percorso dal libro, dall'editore originale alla biblioteca, per giungere fino a te.

Linee guide per l'utilizzo


Google è orgoglioso di essere il partner delle biblioteche per digitalizzare i materiali di pubblico dominio e renderli universalmente disponibili. I libri di pubblico dominio appartengono al pubblico e noi ne siamo solamente i custodi. Tuttavia questo lavoro è oneroso, pertanto, per poter continuare ad offrire questo servizio abbiamo preso alcune iniziative per impedire l'utilizzo illecito da parte di soggetti commerciali, compresa l'imposizione di restrizioni sull'invio di query automatizzate.


Inoltre ti chiediamo di:

- + *Non fare un uso commerciale di questi file* Abbiamo concepito Google Ricerca Libri per l'uso da parte dei singoli utenti privati e ti chiediamo di utilizzare questi file per uso personale e non a fini commerciali.
- + *Non inviare query automatizzate* Non inviare a Google query automatizzate di alcun tipo. Se stai effettuando delle ricerche nel campo della traduzione automatica, del riconoscimento ottico dei caratteri (OCR) o in altri campi dove necessiti di utilizzare grandi quantità di testo, ti invitiamo a contattarci. Incoraggiamo l'uso dei materiali di pubblico dominio per questi scopi e potremmo esserti di aiuto.
- + *Conserva la filigrana* La "filigrana" (watermark) di Google che compare in ciascun file è essenziale per informare gli utenti su questo progetto e aiutarli a trovare materiali aggiuntivi tramite Google Ricerca Libri. Non rimuoverla.
- + *Fanne un uso legale* Indipendentemente dall'utilizzo che ne farai, ricordati che è tua responsabilità accertarti di farne un uso legale. Non dare per scontato che, poiché un libro è di pubblico dominio per gli utenti degli Stati Uniti, sia di pubblico dominio anche per gli utenti di altri paesi. I criteri che stabiliscono se un libro è protetto da copyright variano da Paese a Paese e non possiamo offrire indicazioni se un determinato uso del libro è consentito. Non dare per scontato che poiché un libro compare in Google Ricerca Libri ciò significhi che può essere utilizzato in qualsiasi modo e in qualsiasi Paese del mondo. Le sanzioni per le violazioni del copyright possono essere molto severe.

Informazioni su Google Ricerca Libri

La missione di Google è organizzare le informazioni a livello mondiale e renderle universalmente accessibili e fruibili. Google Ricerca Libri aiuta i lettori a scoprire i libri di tutto il mondo e consente ad autori ed editori di raggiungere un pubblico più ampio. Puoi effettuare una ricerca sul Web nell'intero testo di questo libro da <http://books.google.com>





ELEMENTI
DI GEOGRAFIA

AD USO DELLA GIOVENTU'.

ELEMENTI

Geography - di Text-books (Italian)
(2c) 1804

GEOGRAFIA

AD USO DELLA GIOVENTÙ

*Giusta le più recenti Osservazioni
de' migliori Geografi,
e le attuali Divisioni Politiche:*

SECONDA EDIZIONE

Notabilmente migliorata, ed accresciuta
dall' Autore.



IN BERGAMO

PRESSO VINCENZO ANTOINE
MDCCCIV.

Per assicurare la proprietà, e togliere i Contraffattori, e Spacciatori di edizioni contraffatte, si pone la presente Edizione sotto la salvaguardia della Legge 19. Fiorile anno 9. riguardante le produzioni d'ingegno.

Bergamo li 2. Novembre 1804. anno III. Rep. Ital.

I due esemplari richiesti dalla Legge sono stati consegnati alla Biblioteca Nazionale.

NOY WEN
DLEN
VAAU

L' EDITORE.



Il rapido smercio che ha avuto la prima edizione di questi Elementi di Geografia; la ristampa fattane in Venezia, annunciata per altro con poca lealtà per la prima edizione, sebbene non sia stata che malamente imitata; l'aver essa in più luoghi servito di norma a chi per la decimaquinta volta ha riprodotta la rinomata Geografia del P. Buffier, bastar deve a dimostrare quanto applauditi

e ben accetti dal Pubblico sieno stati questi Elementi .

Questa Seconda Edizione (non contando la Veneta) si presenta al Pubblico più corretta , riordinata , e notabilmente accresciuta , dietro i lumi specialmente della celebre , e stimata Geografia Matematica , Fisica , Politica , pubblicata di recente in Parigi da Edmondo Mentelle .
 Membro dell' Istituto Nazionale , e da Malte Brun Geografo Danese , e di quella pure data alla luce dal dotto Inglese Geografo Pinckerton .

Il solo confronto di alcune pagine tra la prima e questa seconda edizione dimostrerà apertamente con quanta verità si

an-

annunci per migliorata . E se la prima edizione ha avuto un esito oltre modo felice , giova sperare che questa seconda sarà dal Pubblico maggiormente aggradita , e proposta per norma all'istruzione della Gioventù , per cui vien essa riprodotta .





PREFAZIONE.

La Geografia è certamente una scienza su' di cui vantaggi e necessità non vi sarà chi ardisca muovere dubbio. La Storia, il Commercio, l'Arte Militare, e la Politica se da lei non vengono illustrate, sono o cieche, ó mal veggenti. Dotti Scrittori in ogni secolo, e specialmente a' giorni nostri hanno procurato di ridurla a quel lustro, ed a quella esattezza che recarle poteano i lumi dell'Astronomia, e le filosofiche osservazioni de' Viaggiatori. Ma in mezzo ad opere voluminose e dotte si desiderava dal Pubblico un' operetta elementare che utile la renda e facile alla capacità della

stu-

studiosa Gioventù. Siffatte produzioni sono ordinariamente o insufficienti per troppa brevità, o meno esatte e interessanti per mancanza delle nuove scoperte, e de' recenti cangiamenti apportati dalle ultime politiche e guerresche vicende. Si ha procurato adunque che questa edizione soddisfacendo al pubblico desiderio scevra fosse dell' uno e dell' altro di tali difetti.

I Confini, l' antica e talvolta l' attuale Divisione degli Stati, le Isole, i Mari, gli Stretti, i Capi, i Monti e Fiumi principali, il Governo, la Religione, i Prodotti, e l' Estensione delle Provincie, la Popolazione delle primarie Regioni, e di molte Città Capitali, le istesse più recenti Scoperte, sono tutte cose descritte con chiara ed esatta precisione, ed esposte con un ordine interessante pel punto di vista sotto cui vengono presentate.

Acciocchè nulla mancasse all' esattezza dell' opera, non si sono risparmiati accurati confronti col-

colle ultime edizioni de' più moderni, ed accreditati oltremontani Scrittori, come dei *La-Croix*, *Mentelle*, *La-Marche*, *Comeiras*, *Guthrie*, e de' migliori tra' nostri, come *Alberti*, *Riccioli*, *Magini*, ed altri, che pure non meritano l'ingiustizia dell'oblio, specialmente per quanto s'aspetta all'interessante nostra Italia. Le carte inoltre più stimate dei *De-Vaugondy*, e dei *d'Anville* sono state con diligenza esaminate.

Sebbene questi non sieno che Elementi di Geografia, pure si ha giudicato conveniente, non senza l'esempio di dotti Geografi, l'estendersi parzialmente sull'Italia, Francia, Alemagna, e Svizzera con dettagli più minuti che sulle altre Regioni, siccome quelle che devono maggiormente interessarci pei rapporti immediati di Commercio, e di Politica, e per la soddisfazione di vedere quali cangiamenti hanno avuto luogo nelle vicende di questi ultimi anni.

Si

Si ha pure creduto ben fatto, parlando di uno Stato, l'indicare i Possedimenti ad esso attenenti, benchè posti in diverse parti del Globo, per rappresentare in un solo punto tutto ciò che può formare la forza, la ricchezza, e la potenza di un Governo.

Si lusinga per tanto l'Editore, che senza essere inutile ai Dotti, sarà senza dubbio di molta utilità alla studiosa Gioventù, a cui particolarmente è dedicata, e a quelli ancora, i quali non avendo il tempo o la volontà di svolgere grossi volumi, hanno nulladimeno il bisogno ó il desiderio di conoscere ciò che chiamasi Mondo.

ELEMENTI DI GEOGRAFIA

PARTE PRIMA

DEL GLOBO TERRAQUEO, E DELLE SUE PARTI IN GENERALE.

LEZIONE I.

Alcune Nozioni Generali.

Cosa è Geografia?

La Descrizione della Terra, o sia del Globo Terraqueo.
Che si considera prima di tutto in questo Globo rapporto alla sua situazione?

Quattro punti detti Cardinali, cioè:

- Levante, che dicesi anche Oriente, o Est.
- Ponente Occidente, o Ovest.
- Settentrione Polo Artico, o Nord
- Mezzodì Polo Antartico, o Sud.

Dov' è il Levante?

Dalla parte ove leva il Sole.

Il Ponente?

E' quella parte dove tramonta.

Il Settentrione?

E' la parte al di sopra dell' Oriente, e dell' Occidente:

A

Il

Il Mezzodì?

E' la parte al di sotto dell' Oriente, e dell' Occidente ed opposta al Settentrione.

Dove si trovano questi punti sulle Carte?

Guardando la Carta, si trova

L' Oriente, l' Est, o Levante a destra.

L' Occidente, l' Ovest, o Ponente a sinistra.

Il Settentrione, o Nord in alto.

Il Mezzodì, o Sud al basso.

I Punti Intermedj o Collaterali quali sono?

Nord-Est tra il Nord e l' Est.

Nord-Ovest tra il Nord e l' Ovest.

Sud-Est tra il Sud e l' Est.

Sud-Ovest tra il Sud e l' Ovest.

Che si concepisce ne' due punti del Nord, e del Sud?

Due Poli, quasi che la Terra giri sopra di essi come sopra due perni, e chiamansi:

Polo Artico quello del Nord.

Polo Antartico quello del Sud.

Come si divide questo Globo rapporto al Cielo, per conoscere dove sia ogni Paese rispetto agli altri?

I. In quattro Circoli massimi, cioè:

Orizzonte	} che dividono la terra in Emisferi o sia parti eguali	} Superiore ed Inferiore. Orientale ed Occident. Settentrionale e Merid.
Meridiano		
Equatore		

Zodiaco, che dividendo obliquamente la Terra mostra le Costellazioni, sotto le quali passa il Sole nel corso dell' anno.

II. In quattro Circoli minori, che distinguono le Zone, cioè:

Due Tropici	} del Cancro al Nord..	} del Capricorno al Sud.

Due Polari	} Artico al Nord,	} Antartico al Sud.

Che significa Zona?

Spazio di terra dove il caldo, o il freddo è notabilmente diverso in paragone d'altre terre.

Quon-

Quante sono le Zone?

Cinque, cioè:

Una Torrida tra i due Tropici.

Due Temperate tra i Tropici, ed i Polari.

Due Fredde tra i Polari, ed i Poli.

LEZIONE II.

Del GLOBO TERRAQUEO.

Cosa è il Globo Terraqueo?

E' un composto di Terra e di Acqua, di cui la superficie presenta come una gran Palla elevata però alquanto sotto l'Equatore, e schiacciata ai Poli.

Come chiamansi le parti componenti la Terra?

Chiamasi *Continente* o *Terra-ferma* un gran tratto di terra unita.

Isola quando una parte di terra è circondata d'acqua.

Penisola se circondata sì, ma congiunta però al Continente con una lingua di terra.

Istmo la lingua di terra che unisce la *Penisola* al Continente.

Capo, o *Promontorio* un' eminenza, che si sporge nel Mare, la cui estremità chiamasi *Punta*, o *Lingua*.

Costa quell' estremità che vien bagnata dal Mare.

Monte un' elevazione di terra, che s'innalza al di sopra di tutto ciò che le è vicino, e che chiamasi

Collina se quest' elevazione è mediocre.

Vulcano un Monte che frequentemente manda fuoco.

Valle è un gran spazio di terra rinserrato fra monti.

Pianura un' estensione di terra senza monti, e senza boschi.

Co-

4 GLOBO TERRAQUEO.

Come si distinguono le Acque?

Chiamasi *Mare*, o piuttosto *Oceano* l'acqua che circonda un Continente.

Mare propriamente dicesi quella porzione d'Oceano che trovasi in faccia a qualche Regno o Provincia.

Mare interiore, o *Mediterraneo* entrando fra terra.

Golfo se è più ristretto.

Baja se un picciol Golfo è più stretto all'imboccatura che all'interno.

Arcipelago se è ripieno d'Isole.

Stretto, *Passo* o *Faro*, la comunicazione di due Mari per picciol passaggio.

Porto, o *Rada* una situazione di Mare ove le Navi si metton al sicuro dai Venti.

Seno è porzione di Mare che s'insinua per qualche tratto dentro terra.

Fiume una quantità d'acqua dolce ristretta, che scorre una grande estensione di paese e gettasi nel Mare.

Riviera se l'acqua è in minor quantità, e perdesi in un Fiume od in un Lago.

Stagno un'acqua che deriva da una Riviera o da una sorgente che si ritiene con qualche argine, od in altra guisa.

Torrente una specie di fiume formato dalle pioggie, o dallo scioglimento delle névi, e che non si mantiene lungo tempo.

Lago un ammasso d'acqua più, o meno grande circondato da terra.

Palude è un tratto di terra inzuppato di acqua.

Che significa *Imboccatura* o *Foce* di un Fiume?

Quel luogo dove il fiume si scarica.

Che vuol dire *Confluente*?

Quel sito ove il fiume entra in un altro.

Cosa significa l'*Alto*, e l'*Basso* d'un medesimo Paese?

Alto, si chiama quel tratto di paese che più si accosta alla sorgente di un fiume.

Basso, quello che più si avvicina alla sua imboccatura, come *Alta*, e *Bassa* Ungheria ecc.

Come si divide la Terra?

In due gran parti, o sia Emisferi:

Uno Superiore, o Continente Antico.

L'altro Inferiore, o Nuovo Continente, detto anche Nuovo Mondo per esser stato scoperto solo nel 1492. da Cristoforo Colombo Genovese.

Questi due Continenti come dividonsi?

In quattro parti, cioè:

EUROPA la più bella

ASIA la più ricca

AFRICA la più calda

AMERICA la più grande

} nell' Emisfero Superiore
o Vecchio Continente.

} nell' Emisfero Inferiore
o Nuovo Continente.

Aggiungansi le Isole appartenenti a ciascuna delle suddette quattro Parti.

E le Terre Polari incognite, cioè le Artiche e l'Antartiche.

Come dividesi l'Oceano?

Rapporto a' quattro punti Cardinali si divide:

In Settentrionale o Glaciale al Nord d'Europa.

Orientale, o Indico all'Est dell'Asia.

Occidentale, o Atlantico all'Ov. dell'Europa, e dell'Africa.

Meridionale, o Etiopico al Sud dell'Asia, e dell'Africa.

Pacifico o sia del Sud all'Ovest dell'America.

Quali sono i più alti Monti della Terra?

Il Pico d'Adamo nell'Isola di Ceylan.

Il Pico di Tenerif nell'Isola Tenerif, una delle Canarie.

La Montagna di Cambora nella Catena delle Cordigliere, che ha 3380. tese, o sia quattro miglia e mezzo d'altezza perpendicolare.

Quanti Fiumi vi sono nell'antico Continente?

Circa 430. Fiumi, i quali cadono immediatamente nell'Oceano, nel Mediterraneo, e nel Mar Nero, che vi comunica.

Quanti Fiumi vi sono nel Nuovo?

Non vi si contano che 180. Fiumi, i quali si rendono immediatamente nel Mare.

Quant'

6: **GLOBO TERRAQUEO.**

Quant'è la circonferenza, e la superficie del Globo?

La Circonferenza è di circa 27. mila miglia italiane.

La Superficie di 75. milioni di miglia quadrate.

Le Terrè non occupano che 24. milioni di miglia, sic-
talchè più di due terzi di superficie è occupata
dall'acqua.

Qual è il suo volume?

Secondo *Mentel* il volume della Terra è di circa 32. milio-
ni e 500 mila miglia cubiche. Ella è 49. volte il
volume della Luna; ma non è che la mille quat-
trocentesima parte del volume del Sole.

**Quante miglia quadrate occupa ciascuna delle Parti prin-
cipali del Globo?**

L'Europa 2. milioni e 500. mila miglia, neppure un
ottavo del continente.

L'Asia 7. milioni e 600. mila miglia, cioè più di
un quarto.

L'Africa 3. milioni e 500. mila miglia, cioè un quarto.

L'America 8. milioni e 400. mila miglia, cioè più
di un terzo.

Qual varietà si trova fra i diversi. Abitanti della terra?

Si rimarca:

Che sono piccoli e brutti nelle Zone Glaciali.

Meglio proporzionati nelle Zone Temperate, ed i più
bianchi nella nostra Europa.

Che nell'Africa sono nerissimi, e nell'Asia e nell'
America alla medesima latitudine sono di un colore
di bronzo, altri di un colore di rame rosso.

A qual numero ammontano gli Abitanti del Globo?

Si fa conto che 3. mila milioni d'Abitanti per lo meno,
viver potrebbero sopra la Terra; ma secondo i più
esatti Calcolatori dell'umana popolazione, non se ne
trova che un terzo, cioè mille e 80. milioni.

LEZIONE III.

Dell' EUROPA in Generale.

Dove confina questa parte del Mondo da noi abitata?

Confina al Nord col Mar Glaciale.

All' Est con l' Asia, e col Mar Nero.

Al Sud col Mar Mediterraneo.

All' Ovest con l'Oceano Atlantico, che la separa dall' America.

Quante sono le parti principali dell' Europa?

Sedici, cioè:

Gran Bretagna, o Isole Britanniche

Stati di Danimarca

Svezia

} già dette Scandinavia

} al Nord.

Russia, o Moscovia

Francia, ossia Impero Francese

Repubblica Batava, o Prov. Unite

Svizzera, o Repubblica Elvetica

Alessmania, o Germania }

Boemia

} in mezzo.

Ungheria

Polonia

Prussia

Portogallo

Spagna

Italia

Turchia Europea

} al Sud.

Qua-

Quali sono le Isole principali?

Islanda	} Gran Bretagna	} nell' Oceano .
Inghilterra		
Irlanda		
Seeland	} nel Baltico .	
Fionia		
Majorica	} Baleari	} nel Mediterraneo .
Minorica		
Malta		
Corsica		
Sardegna		
Sicilia		
Corfù	} nel Golfo di Venezia .	
Cefalonia		
Zante ecc.		
Candia	} Arcipelago, e Mari del Levante .	
Negroponte		
Scio		

Quali le Penisole?

Il Jutland in Danimarca .

La Morea al Sud della Turchia Europea .

La Crimea al Sud della picciola Tartaria .

Quali sono i Monti più considerabili?

I Dofrini tra la Norvegia e la Svezia .

I Pirenei tra la Francia e la Spagna .

Le Alpi tra la Francia, l' Alemagna e l' Italia .

Gli Appennini che traversano l' Italia dal Nord-Ovest al Sud-Est .

I Krapack tra la Polonia e l' Ungheria .

L' Ekla in Islanda

L' Etna in Sicilia

Il Vesuvio nel Regno di Napoli

} Vulcani .

Quali gl' Istmi?

L' Istmo di Corinto al Sud della Turchia Europea tra l' Arcipelago, ed il Mediterraneo .

L' Istmo di Precop nella picciola Tartaria tra il Mare d' Azof, ed il Mar Nero .

Qua-

Quali i Capi principali?

Il Capo Nord al Nord della Laponia .

— Finisterre al Nord-Ovest della Spagna .

— S. Vincenzo al Sud-Ovest del Portogallo .

— Matapan al Sud della Morea .

Quali sono

le Città Capitali, le Popolazioni, le Regioni in cui trovansi?

Londra	865. mila	nell' Inghilterra .
Edimburgo	85. m.	Scozia .
Dublino	150. m.	Irlanda .
Berghen	18. m.	Norvegia .
Copenaghen	90. m.	Danimarca .
Stokolma	76. m.	Svezia .
Pietroburgo	212. m.	Russia .
Parigi	640. m.	Francia .
Amsterdam	212. m.	Olanda .
Brusselles	80. m.	Fiandre .
Berna	12. m.	Svizzera .
Vienna	254. m.	Alemagna .
Praga	80. m.	Boemia .
Buda	20. m.	Ungheria .
Varsovia	66. m.	Polonia .
Berlino	164. m.	Prussia .
Lisbona	180. m.	Portogallo .
Mardrid	147. m.	Spagna .
Roma	162. m.	} Italia .
Milano	132. m.	
Napoli	400. m.	
Venezia	150. m.	
Genova	80. m.	
Torino	78. m.	
Firenze	82. m.	
Bologna	80. m.	
Modena	20. m.	
Parma	25. m.	
Costantinopoli	600. m.	Turchia Europea .

Quali sono le Città Capitali delle principali Isole?

Skalholt		nell' Islanda.	
Odensea	6. m.	Fionia.	
Palma	10. m.	Majorica	} Baleari.
Cittadella		Minorica	
La Valetta	20. m.	Malta.	
Bastia	10. m.	Corsica.	
Cagliari	35. m.	Sardegna.	
Palermo	130. m.	Sicilia.	
Corfù	47. m.	Corfù.	
Cefalonia	9. m.	Cefalonia.	
Zante	2. m.	Zante.	
Candia	12. m.	Candia.	
Negroponte		Negroponte.	

Quali sono i Mari Esteriori?

Il Mar Britannico.

— di Norvegia.

— di Russia, o di Moscovia.

— di Alemagna, o Germanico.

— di Francia.

— di Portogallo.

— di Spagna.

Quali sono i Mari Interiori?

Il Mar Baltico

— Bianco

— Mediterraneo

— Nero, o Pont-Euxino.

— di Marmara già Propontide.

— delle Zabache o d' Azof.

L' Arcipelago.

Quali sono i Golfi principali?

Il Golfo di Boemia

— di Finlandia

— di Murray

— di Biscaja

— di Lione

— di Venezia

— di Lepanto

} nel Baltico.

} nell' Oceano.

} nel Mediterraneo.

Quali

Quali gli Stretti?

- Del Sund nel Baltico tra la Danimarca e la Svezia .
- Il Passo di Calais tra la Francia e l'Inghilterra .
- Di Gibilterra tra la Spagna e l'Africa , largo circa 20 miglia .
- Di Bonifacio tra l'Isola di Corsica e di Sardegna .
- Di Messina tra la Sicilia ed il Regno di Napoli .
- De' Dardanelli tra la Turchia Europea e quella d'Asia .
- Di Costantinopoli , similmente tra le suddette Turchie .
- Di Caffa tra la piccola Tartaria e l'Asia .

I Laghi principali quali sono?

- Il Lago Ladoga } in Russia .
- di Onega } in Russia .
- di Veteř . } in Svezia .
- di Melo } in Svezia .
- di Ginevra tra la Svizzera , e la Savoia .
- di Costanza in Alemagna .
- Maggiore } in Italia .
- di Como } in Italia .
- di Garda } in Italia .

Quali sono i Fiumi principali , e dove sboccano?

Dwina	}	in Russia	nel Mar Bianco .
Don , o Tanai			nelle Zabache .
Volga			nel Mar Caspio .
Vistola	}	in Polonia	nel Mar Baltico .
Boristene			nel Mar Nero .
Danubio	}	in Alemagna	nell'Oceano Occid.
Reno			
Elba	}	in Italia	nel Golfo di Ven.
Po			nel Mediterraneo .
Rodano	}	in Francia	nella Baja di Biscaja .
Garonna			nell'Oceano Occid.
Loira	}	in Spagna	nella Manica .
Senna			nel Mediterraneo .
Ebro	}	in Spagna	nell'Oceano Occid.
Tago			nel Mar del Nord .
Tamigi		in Inghilterra	

Di che abbonda?

Di tutto ciò che è necessario alla vita, cioè di grano, vino, frutti, bestiame, lane, e sete. Vi sono miniere di molte sorta: il di più poi alla natura supplisce l'arte; alla fertilità della terra il commercio.

Sotto qual Zona o clima trovasi l'Europa?

Sotto la Temperata la maggior parte, ma si estende anche al Polo Freddo.

Quanto estendesi?

In lunghezza 3450. miglia italiane dal Capo S. Vincenza all'Ovest sino a' Monti Poyas al Nord-Est.

In larghezza 2700. miglia dal Nord al Sud dal Capo Nord di Norvegia, al Capo Matapan in Morea.

Questa parte, in proporzione alle altre del Globo, è un terzo dell'Africa, meno di un quarto dell'Asia, un quinto dell'America, cioè 2. milioni e 500. mila miglia quadrate.

La sua Popolazione?

E' valutata circa 150. milioni.

LEZIONE IV.

Dell' ASIA in Generale.

Dove confina l'Asia?

Confina al Nord coll'Oceano Settentrionale o Mar Glaciale, all'Est con l'Oceano Orientale o Mar del Sud.

al Sud col Mare Meridionale o Indico.

all'Ovest col Mar Rosso, l'Istmo di Suez, il Mediterraneo, l'Arcipelago, il Mar Nero, e l'Europa.

Ca

Come dividesi l' Asia?

In sette gran parti, cioè:

Turchia Asiatica.

Russia Asiatica.

Arabia.

Tartaria.

China.

India e Mogol.

Persia.

Quali sono le Isole principali?

Del Giappone

Formosa

Hay-Nan

Marianne, o de' Ladroni

Filippine

Molucche

Della Sonde

Ceylan

Maldive

Cipro

Rodi

} nell' Oceano Orientale o Pa-
cifico.

} nell' Oceano Meridionale
o Indiano.

} nel Mediterraneo.

Quali sono le Penisole?

La Natolia }
L' Arabia . } nella Turchia Asiatica,

Il Guzarate.

Indo al di là del Gange, od Orientale.

Indo al di quà del Gange, od Occidentale.

Malaca : }
Camboja . } nell' India.

Croea nella China.

Kamschatka nella Tartaria Russa.

Quali i Monti?

Il Monte Tauro che attraversa da Ovest a Est tutta
Natolia, e la Persia.

I Monti Poyas, o Stolp, già Refei al Nord-Est. d' Europa
tra la Moscovia, e la Tartaria.

I Mon-

14 *ASIA in Generale.*

Il Monte Caucaso ora Elbours, tra la Tartaria e la Turchia.

I Monti di Gatain o sia le Gatte, che s' estendono dal Nord al Sud nella Penisola di quà dal Gange.

Quali sono gl' Istmi?

Di Suez, che unisce l' Asia all' Africa per 150. miglia italiane.

Di Tanaserim, che unisce il Regno di Siam alla Penisola di Malaca.

Quali sono i principali Capi?

Basalgate al Sud-Est dell' Arabia.

Comorin al Sud dell' Indo al di quà del Gange.

Romania al Sud della Penisola di Malaca.

Swatoipno al Nord dell' Asia.

Capo Nord il più Settentrionale

Capo Est il più Orientale

} Nuove Scoperte.

Quali sono i Mari, o Golfi?

Il Mar Nero.

— Caspio.

— del Cang o Golfo di Nanquin.

— Rosso.

Il Seno Persico o Golfo di Balsora.

Dite gli Stretti principali?

Di Ormus all' ingresso del Seno o Golfo Persico.

Di Malaca tra la Penisola di questo nome, e l' Isola di Sumatra.

De la Sonde tra l' Isola di Sumatra e quella di Java.

I Laghi principali?

Oltre il Mar Caspio, che non è che un gran Lago,

Vi è Lago Baikal in Siberia.

Il Lago Aral al' Est del Mar Caspio.

Quali li Fiumi principali?

L' Oby o sia Kem

Amur o Gamma

Koang o Giallo

Kian o Bianco

Gange

Indo

} nella Tartaria Russa.

} nella China.

} nell' India.

Tigri } nell' Armenia.
 Eufrate }

Le principali Città, e le Regioni in cui trovansi?

Smirne	nella <i>Natolia</i> .
Meca	} <i>Arabia</i> .
Medina	
Ispahan	<i>Persia</i> .
Agra	<i>Mogol</i> .
Goa	<i>India Occidentale</i> .
Pegù	<i>Pegù</i> .
Siam	<i>Siam</i> .
Pekia	<i>China</i> .
Yedo	<i>Giappone</i> .
Tobolsk	<i>Tartaria Russa</i> .
Samarcand . . .	<i>Tartaria Indipendente</i> .
Delhi	<i>Indostan o Mogol</i> .

Le Città Capitali delle Isole principali quali sono?

Tay-Ovan-Fou . .	<i>Formosa</i> .
Kunt-Cheou . . .	<i>Hay-Nan</i> .
Agadua	<i>Marianne o de' Ladroni</i> .
Manilla	<i>Filippine</i> .
Macascar	<i>Molucche</i> .
Batavia	<i>Sonda</i> .
Candy	<i>Ceylan</i> .
Malé	<i>Maldiva</i> .
Nicosia	<i>Cipro</i> .
Rodi	<i>Rodi</i> .

Di che abbonda questa ricca parte?

Di biade, vini, risi, e frutti eccellenti. Vi si trovano droghe, aromi, spezierie, ed il miglior rabarbaro. Produce quantità d'oro, d'argento, di perle, e pietre preziose. Fornisce molta seta, cotone, tele dipinte, e porcellana finissima. Oltre gli animali, che

abbiamo in Europa, ne ha varj a noi sconosciuti, come i Lioni, i Leopardi, le Tigri, i Rinoceronti, i Camelli, gli Elefanti ecc.

Sotto qual Zona è l'Asia?

È sotto alla Temperata, ma verso il Nord alla Fredda, verso il sud alla Torrida.

Quanto estendesi?

In lunghezza 7200. miglia italiane da' Dardanelli nella parte occidentale sino all'estremità orientale della Tartaria.

In larghezza 5700. mila dalla parte più meridionale di Malaca, al capo più settentrionale della Nuova Zembla.

La superficie di questa parte del Globo ha 5. milioni, 519. mila, e 163. miglia quadrate Italiane.

La sua Popolazione?

Vengono dati all'Asia 500. milioni d'abitanti (*).

LE-

(*) I celebri moderni Geografi *Mentel*, e *Malte Bran*, dicono, che non si ha più ragione di dare all'Asia 500. milioni, che di dargliene 250.

Fra le diverse relazioni sulla China, come indovinare la vera?

Sonneral gli dà 27 milioni d'abitanti.

L'Estretto della Gazzetta Officiale di Pechin 55. milioni.

I Russi 70. milioni.

Il saggio De Guignes 100. milioni.

M. Busching 149. milioni 662. mila.

I Missionarj 200. milioni.

Finalmente come un Mandarino Chiese assicurò a Milord Macartney 333. milioni.

La Persia ha ella 50. milioni d'abitanti, o 19.?

La Turchia d'Asia si deve sostenere a 36. milioni con gli Antichi Geografi, o ridarla a 9. milioni con M. Edon?

Tali esempj (soggiungono i suddetti *Mentel* e *Bran*) bastano per far conoscere a' Lettori giudizi, che tutto questo sfoggio di cifre non è fondato che sopra de' ragionamenti vaghi. Noi abbiamo cercato di calcolare la Popolazione dell'Asia secondo le relazioni paragonate de' moderni Viaggiatori; nulla affermiamo di certo, ma ci sembra che non si possa dare all'Asia che 320. a 340. milioni d'abitanti.

LEZIONE V.

Dell' AFRICA in Generale.

Dove confina l' Africa ?

Confina al Nord col Mediterraneo, che la separa dall' Europa.

all' Est col Mar Rosso, Istmo di Suez, e Mar dell' Indie, che la separan dall' Asia.

al Sud coll' Oceano Meridionale.

all' Ovest coll' Oceano Atlantico, che la separa dall' America.

Come dividesi l' Africa ?

Rappresenta l' Africa quasi un triangolo, cioè:

L' Egitto	}	nell' Angolo Orient.
La Nubia		
L' Abissinia, o Alta Etiopia		
Il Congo	}	nell' Angolo Merid. o Inferiore.
La Caffreria		
Le Coste di Zanguebar .		
Il Monomotapa		
La Barbarta	}	nell' Angolo Occid.
Il Biledulgerid		
Il Deserto di Saara		
La Nigrizia		
La Guinea		

Quali sono le Isole principali ?

Madagascar, o S. Lorenzo

Comorre

Borbon, o della Riunione

} nell' Oceano Indiano

B

Cas

Capo Verde
 Canarie . . . } nell' Oceano Atlantico.
 Madera . . . }

Quali i Monti?

Atlante, tra la Barbaria e il Biledulgerid, che gli antichi crederono il confine del Mondo.

Sierra-Leona (o sia la montagna de' Leoni), che separa la Nigrizia dalla Guinea, e si estende sino nell' Etiopia.

Il Pico di Teneriffe sull' Isola dello stesso nome, che può dire il più alto monte che vi sia sopra la terra.

Le Montagne della Luna, che circondano il Monomotapa.

Quali sono i Capi principali?

Il Capo Bon al Nord sul Mediterraneo.

— Verde, il più occidentale dell' Africa.

— di Buona Speranza, dall' estremità meridionale de l' Africa, nel paese degli Ottentoti.

— Guardafui, o Gardefah.

Quali sono i Mari interiori?

Il Mediterraneo al Nord.

Il Mar Rosso all' Est.

Li Golfi principali?

Della Sidra nella Barbaria.

Di Guinea nella Guinea.

Di Sofala in faccia di Madagascar nella Cafreria.

Gli Stretti quali sono?

Uno solo, ed è Babel-Mandel, che unisce il Mar Rosso all' Oceano Indiano.

Quali i Fiumi?

Il Nilo, che separa l' Egitto in due e si perde nel Mediterraneo.

Il Negro nella Nigrizia, che perdesi nell' Oceano Atlantico.

Il Senegal pure nella Nigrizia.

Il Zaira nel Congo.

Il Zambese o Cumana } nella Cafreria

Il Manica o Riviera dello Spirito Santo }

Li La-

Li Laghi principali?

- Di Maravi nella Cafreria.
- Di Dambea nell' Abissinia.

Le principali Città, e le Regioni in cui trovansi?

Cairo	nell' Egitto.
Sennar	Nubia.
Condar	Abissinia.
S. Salvador	Congo.
Capo Buona Speranza	Cafreria.
Mozambico	Zanguebar.
Monomotapa	Monomotapa.
Tunesi	} Barbaria.
Algeri	
Marocco	} Nigrizia.
Tomhut	
Benin	Guinea.

Di che abbonda ?

Di grano, frutti eccellenti, cassia, e sena. Vi si trova bestiame d' una grossezza straordinaria, e cavalli rinomatissimi; quantità d' animali ignoti a' nostri climi, struzzi, camaleonti, cocodrilli, ippopotami, e de' serpenti d' una prodigiosa grossezza.

Sotto qual Zona è l' Africa?

Sotto la Torrida, ma nelle estremità verso i Poli è sotto la Temperata.

Quanto estendesi?

Nella sua maggior lunghezza 5100. miglia ital. dal Nord al Sud, cioè dal Capo Bon nel Mediterraneo sino al Capo di Buona Speranza.

Nella sua maggior larghezza 4950. miglia dall' Est all' Ovest, cioè dal Capo Verde sino al Capo Gardesfan.

La sua superficie è di 8. milioni, 400. mila miglia quadrate italiane.

La Popolazione?

Gli si computano 100. milionj d' Abitanti.

LE

LEZIONE VI.

Dell' AMERICA in Generale .

Dove confina l' America?

Confina al Nord con le Terre Polari Incognite .

all' Est col Mare Atlantico , o del Nord .

al Sud con l' Oceano , o Mar di Magellano .

all' Ovest col gran Mare del Sud , o Pacifico .

Come si divide?

In due gran Continenti , cioè :

America Settentrionale

America Meridionale

} uniti dall' Istmò di Panama .

Che comprende l' AMERICA SETTENTRIONALE?

	<i>Appartenenza</i>
La Nuova Brettagna	} alla Gran Brett.
Il Canada	
La Nuova Scozia	} a' Stati Uniti .
Gli Stati Uniti , e La Lovisiana	
La Florida	} alla Spagna .
Il Nuovo Messico , e La California	
Il Messico Vecch. o Nuova Spagna	
Le Indie Occidentali . Isole .	} alla Gran Brett. } alla Spagna . } alla Francia . } alla Rep. Bat. } alla Danimarca .

Li

Come si distinguono queste Isole chiamate anche Indie Occidentali?

Azore, o Tercere, le quali sono in numero di nove, che alcuni Geografi fanno annesse all' Africa .

Terra Nuova, scoperta nel 1495.

Bermude, scoperte nel 1527. dallo Spagnuolo Bermudo .

Antille, già *Caribi* dai primi loro abitatori di tal nome .

Lucajè, o di Bahama, ove Colombo approdò nel 1492.

Le Penisole?

Acadia, o Nuova Scozia; i Francesi farono i primi a stabilirvisi .

Florida, nome datogli dal Portoghese Soto, che conquistò il Perù .

Yucatan, ricca di miniere d' oro, e d' argento .

California, scoperta da' Spagnuoli nel 1535.

Quali le Montagne, ed i Vulcani principali?

Le Aplanchi tra la Florida ed il Canada .

Li Vulcani di Popatabech, e di Guatimala nel Messico .

Quali i Capi principali?

Capo Breton } nell' Isola Reale .

— Nord . }

— Corriente nel Messico .

Quali sono i Mari interiori, ed i Golfi?

Il Golfo di S. Lorenzo .

— del Messico .

Il Mar Vermiglio .

— Cristiano .

Quali gli Stretti?

D' Udson tra la nuova Brettagna e le Terre Polari .

Di Bell' Isola tra Terra Nuova e Nuova Brettagna .

Il Canal di Bahama tra la Florida e le Antille .

Li Fiumi?

S. Lorenzo nel Canada .

Mississipi nella Florida .

Quali i Laghi?

Camplain, Michigan, Huron, } nel Canada :

Eriè, Oneario }

Le

Le principali Città, e le Regioni in cui trovansi?

- Quebec . . . nel *Canada.*
 Halifax . . . *Nuova Scozia.*
 Shelburne . . . *Nuova Brunswick.*
 Filadelfia . . . *Stati Uniti.*
 S. Agostino . . . *Florida Orientale.*
 Pensacola . . . *Florida Occidentale.*
 Nuova Orleans . *Louisiana*
 Santa-Fè . . . *Nuovo Messico.*
 S. Giovanni . . . *California.*
 Messico . . . *Vecchio Messico, o Nuova Spagna*

Sotto qual Zona è l'America Settentrionale?

- Parte sotto la *Torrída.*
 Parte sotto la *Temperata.*

DELL' AMERICA MERIDIONALE.

Come si divide l'America Meridionale?

Dividesi in otto parti, cioè:

Terra Ferma . . .	}	<i>Appartenenza</i> <u>alla Spagna.</u>
Perù		
Paraguai o la Plata		
Chili		
Brasile	}	al <i>Portogallo.</i>
Amazonia.		
Gujana	}	alla <i>Francia.</i>
Terra Magellanica .		

Quali sono le Isole principali?

- Galape, o delle Lumache all'Ovest del Perù.
 Noronha all'Est del Brasile.
 Falkland all'Est dello Stretto di Magellan.

Le Penisole?

La Terra Magellanica, abitata da' Selvaggi Patagoni, assai più grandi degli Europei.

Quali sono le Montagne, e li Vulcani?

Le Ande, o sia la Cordigliera, catena che attraversa da Sud a Nord Chill e Perù, la cui lunghezza è di 4500. miglia italiane.

Le Cordigliere del Brasile, che attraversano la parte settentrionale di questo vasto paese.

Li Vulcani di Finta, e d'Arequipa nel Perù.

Li Capi?

Horn nella Terra del Fuoco.

S. Agostino sulla Costa del Brasile.

Quali i Golfi, o Baje?

Golfo di Venezuela.

Golfo di Darien o Uraba.

Baja di Panama.

Gli Stretti?

Di Magellano tra la Terra Magellanica, e quella del Fuoco.

Del Maire tra la Terra del Fuoco e la Australi.

Li Fiumi, o le Riviere?

Orenocco nella Terra Ferma.

Delle Amazoni nel Perù.

De' Tocantini nel Brasile.

Della Plata, o del Paraguai.

Quali i Laghi?

Amacu coperto di giunchi }
Parima } nella Gujana.

Le principali Città, e le Regioni in cui trovansi?

Panama nella Terra Ferma.

Lima Perù.

Buenos-Aries Paraguai, o la Plata.

S. Jago Chill.

S. Salvador Brasile.

Para Amazonia.

Surinan }
Cajenna } Gujana.

24 AMERICA in Generale.

Di che abbonda?

Di frutti a noi stranieri, oltre tutti quelli dell' Europa che vi han riuscito; di biade, grano d' India, canne da zucchero, cacao, tabacco, cedri; balsamo eccellente nel Perù, quinquina, coccioniglia, cuoj, indico, ebano, smeraldi, perle, e cristalli. Vi sono molte miniere d' oro, d' argento, di ferro, e d' allume. Abbonda di bestiame. I lions, le tigri, ed i serpenti vi sono comunissimi, e pericolosissimi.

Sotto quäl Zona è l' America Meridionale?

Sotto la Torrida la parte del Nord.

Sotto la Temperata quella del Sud.

Quanto estendesi l' America Settentrionale e Meridionale?

In lunghezza dagli 8. a' 9. mila miglia italiane.

La sua larghezza maggiore è di 3690. miglia.

La Popolazione di questi due Continenti?

E' un problema presso gli Storici stessi di questo vasto paese.

Varj Scrittori contavano nell' America 50. milioni d' abitanti all' arrivo degli Europei.

Dapper pretese, che sorpassasse quella d' Europa, ed eguagliasse quella dell' Asia.

Alcuni Aritmetici politici l' hanno ridotta a 100. milioni d' abitanti.

Comunemente glie ne vengono dati 160. milioni.

Com' è stata popolata l' America?

Si suppone assai verosimilmente, che i Popoli del Nord-Est dell' Asia v' abbian potuto passare, sia sopra sciate nell' Estate, sia sopra il ghiaccio nell' Inverno, per lo Stretto di Behrings, che la divide dall' Asia, il quale non è che di pochi miglia di larghezza, e questa interrotta da varie Isole.

LEZIONE VII.

Delle TERRE POLARI INCOGNITE.

Come distinguonsi le Terre Polari Incognite?

Viene dato il nome di Terre Polari Incognite a varie regioni scoperte dopo l'America, e che non sono comprese ne' due Continenti.

Come dividonsi?

In Polari, o Artiche quelle verso Settentrione.

In Australi, o Antartiche quelle verso Mezzodì.

Quali sono le Polari, o Artiche?

Spitzberg nel Mar Glaciale.

Groenlandia al Nord dell'Islanda.

Nuova Zembla, grand' Isola nell'Oceano Settentrionale, scoperta dagli Olandesi nel 1594.

Nuova Danimarca } al Nord Ovest del Canadà ov'è la
Nuova Galles } Baja Repulsea scoperta dagli In-
glesì nel 1742.

Cumberland Isola al Nord della Nuova Bretagna.

Sagalina, o Isola d'Amur all'Est della Tartaria.

Terra di Jesso . . . } al Nord Est del Giappone :
— della Compagnia.

Quali sono le Australi, o Antartiche?

Nuova Guinea . } al Sud delle Marianne.

Terra di Quir . }

— de' Papous } al Sud delle Filippine.

Carpentaria . . }

Nuova Olanda al Sud delle Isole della Sonde.

Terra di Diemens all'Est della Nuova Olanda.

Nuova Zelanda all'Est di Diemens, ed all'Ovest della

Magellanica, L' Ise-

26 TERRE POLARI INCOGNITE.

L'Isola di Salomone all'Ovest del Perù.

Staterland, o Isola degli Stati, al Sud-Est dell'Isola del Fuoco.

Capo della Circoncisione al Sud dell'Africa, scoperto nel 1739.

LEZIONE VIII.

Delle NUOVE SCOPERTE.

Quali sono le Scoperte che hanno ingrandito per noi la conoscenza del Globo?

L'Arcipelago del Nord consistente in varj gruppi d'Isole, tra la costa orientale del Kamtschatka, e la costa occidentale dell'America.

Le quali sono state divise da M. Muller in quattro gruppi principali, cioè:

Isole Aleuziane, i primi due gruppi.

Isola Copper-Island, o sia Isola del rame, per la quantità di rame che il mare vi getta sulle coste.

Isole delle Volpi, così chiamate pel gran numero di volpi nere, grigie e rosse che vi si trovano.

Le Isole Palaos, o Pelew scoperte dal Cap. Wilson nel 1783. allorchè naufragò sopra una di esse.

L'Otahi, o Isola del Re Giorgio scoperta dal Cap. Wallis nel 1767. consistente in due Penisole popolate di 204. mila abitanti.

Le Isole Marchesi, le quali sono 5., scoperte nel 1595. da Quiros, ma meglio disegnate dal Cap. Cook nel

1774.

1774., delle quali S. Domingo è la più grande, avendo 48. miglia di circonferenza.

Le Isole della Società scoperte dal Cap. Cook nel 1769. vicine alle Isole d'Oraiti, le primarie delle quali sono: Huaheine, Alitea, Otaha, Bolabola, e Marua.

L'Isola Oheteroa situata al 22. gr. 27. min. di latit. ad Sud, ed al 153. gr. 47. min. di long. all'Ovest.

Le Isole degli Amici, così chiamate da Cook, che le scoprì nel 1773. le principali sono: Annamooka, Tongatabao, ed Eooa.

La Nuova Zelanda scoperta dall'Olandese Tasman nel 1642., il quale la faceva parte dell'America Settentrionale; ma Cook l'ha posteriormente riconosciuta per due grand'Isole separate da quel continente.

Le Nuove Ebridi, gruppo d'Isole scoperte nel 1606. dallo Spagnuolo Quiros, che chiamolle Isole dello Spirito Santo.

La Nuova Caledonia, Isola scoperta da Cook poco distante dalle suddette Ebridi.

Le piccole Isole a Pins, e Botany.

La Nuova Olanda, Isola la più grande del Mondo, avendo altrettanta estensione quanta ne ha l'Europa intera. Il Cap. Cook quando s'impossessò della costa orientale chiamolla *Nuova Galles Meridionale*.

La Nuova Guinea, creduta in addietro costa settentrionale d'un vasto continente, e riunita alla Nuova Olanda; Cook scoprì uno Stretto che la separava al Nord Est, e s'accertò essere una lung^a Isola assai stretta.

La Nuova Bretagna, Isola al Nord della Nuova Guinea; scoperta per tale dal Capitano Dampier.

La Nuova Irlanda, altr'Isla scoperta dal Cap. Carteret.

Le Isole di Sandwich scoperte da' Capitani Cook, e Clerke nel 1776. 77. 78., e 79. in una di queste, che sono 12., cioè nell'Isola d'O' why'hee, fu dagli Indiani ucciso il suddetto Cook.

L'Isola Necker al Nord Ovest delle Isole di Sandwich, scoperta nel 1786. dal Cap. La-Perouse nel suo viaggio da Macao nella China.

L'Isola Dagelet scoperta dallo stesso nel 1787. in poca distanza dalla Corea.

Le Isole Opoun, Leone	} scoperte dal sudd. La-Perouse.
— Tanfové, Maouna	
— Oyolava, Calinassée, e Polca.	
L'Isola di Favao al Nord dell' Arcipelago degli Amici	

Parte della Costa Sud della Nuova Olanda, e

Le Isole Chatam, ed Oparo scoperte dal Capitano Inglese Vancouver nel 1792. 93. e 94., ed ha riconosciuto una parte dell' Arcipelago de' Gallapagos.

Le Scoperte fatte da Mungo Parck nel suo viaggio nell' interno dell' Africa Occidentale, il quale ha scorso mille, e cento miglia Inglesi, che è quanto dire uno spazio più grande, che se avesse visitato tutto il mezzodì dell' Europa.

Finalmente tra le scoperte interessanti che han fatto in Africa nel 1802. il Dott. Somerville e Sig. Danleze si può annoverare la *Città di Liketow* Capitale de' *Baitznarias* nella quale si contano 1500. case, e 7. mila abitanti. Indipendentemente delle diverse specie di Rinoceronti, essi hanno scoperti e descritto quattro specie di quadrupedi, che partecipano di quella della gazella, e delle quali i naturalisti non hanno fatto ancora menzione.

ELE-

ELEMENTI DI GEOGRAFIA

PARTE SECONDA

DELLE PARTI DELL'EUROPA SEPARATAMENTE.

LEZIONE I.

Della GRAN BRETTAGNA OVVERO ISOLE BRITANNICHE O REGNO UNITO.

Dove confina la Gran Bretagna, o Regno Unito?
 Confina al Nord coll'Oceano Settentrionale.
 all'Est col Mar d'Alemagna.
 al Sud col Canal della Manica.
 all'Ovest col Mare Occidentale.

Come dividesi?

In tre gran parti, un tempo Regni, cioè:

	Capitali	Abitanti
Inghilterra	LONDRA	800. mila
Scozia	Edimburgo	80. m.
Irlanda	Dublino	120. m.

Co

30 *EUROPA Gran Brettagna.*

Come si divide l'Inghilterra?

In Inghilterra propria, la qual contiene 6. Circondarj che comprendono 38. Contee ..

Oltre le due di Middlesex ov' è Londra, e di Cheshire, le quali non sono comprese ne' suddetti Circondarj.

In Paese di Galles, che contiene 4. Circondarj, i quali comprendono 12. Contee.

Come si divide la Scozia?

In Settentrionale }
E Meridionale } e queste in 33. Contee, o Provincie.

Come si divide l'Irlanda?

Comunemente in quest' Isola si contano quattro Provincie, cioè:

Capitali

Ulster, o Ultonia che comprende 9. Contee . . .	<i>Armagh.</i>
Connaught, o Connacia . . . 5. Contee . . .	<i>Galloway.</i>
Leinster, o Lagenia . . . 12. Contee . . .	<i>Dublino.</i>
Munster, o Momonia . . . 6. Contee . . .	<i>Cashel.</i>

Quali sono le Isole principali incominciando dalle adiacenti all'Inghilterra?

L'Isola di Man	<i>Castletown.</i>
— Anglesey	<i>Beaumaris.</i>
— Sorlinghe, che sono 142.	
— Wight che conta 18. mila abitanti . . .	<i>Newport.</i>

E sulle Coste dell' Antica Normandia la Gran Brettagna possiede:

L'Isola Jersey, che ha 20. mila abitanti . . .	<i>S. Ilario.</i>
— Guernesey, la più grande	<i>S. Pietro.</i>
— Alderney, che ha 1000. abitanti	
— Sark, che ne ha 300.	

Le Isole adiacenti alla Scozia?

Le Westernne, che si dicono anche Ebridi od Occidentali, le quali sono circa 300. Ilay è la più grande, e conta 7. mila abitanti.

Le Orcadi, che sono 30.	} Settentrionali	<i>Kirkwall.</i>
Le Schetland . . . 46.		<i>Larwick.</i>

EUROPA Gran Bretagna. 31

Quali sono i Possedimenti degli Inglesi fuori dell'Europa?

In America }
 Il Canada.
 La Nuova Scozia.
 La Baja d'Udson.
 Varie Isole fra le Antille, le più importanti delle quali sono:
 La Terra Nuova, celebre per la pesca de' Merluzzi.
 Le Bermude o Isole Summer.
 La Giamaica.

Governo di Calcutta, o Bengala.
 — di Madras.
 — di Bombai.

In Asia }
 Li quali 3. Governi contengono 89. mila 124. miglia quadrate italiano, oltre i Distretti ceduti da Tippo-Saib nell'ultimo Trattato firmato a Seringapatam li 18. Marzo 1792. cioè:

Calicut, e Palichautcherry.
 Dindigul, Pyalny, e Verapachry.
 Salem, Koosh, Namcool, e Sungagherry.
 Ahtour, Purmutty, Shadmungul, e Vaylour.
 Barra - Mahal, Raycotta, Darampoury.
 Parte dell'Isola di Ceylan.

Le principali Montagne quali sono?

Il Pico in Derbysire	}	nell'Inghilterra.
L'Endle in Lancashire		
Li Wolds nel Yorkshire	}	nel Paese di Galles.
Il Snowdon		
Il Plinlimmon		
Le Coste di Gramplan		
— di Pentland		
— di Lamme-Muirr	}	nella Scozia.
Mowure		
Iveagh		
Galties	}	nell'Irlanda.

I Fiumi principali?

Tamigi, Saverna, e Humber, nell'Inghilterra. Il

32 EUROPA Gran Bretagna.

Il Forth, e il Tay, in Scozia.

Shannon, Ban, e Boyne, nell'Irlanda.

I Laghi più considerabili?

Soham-mere, e Wittlesea-mere, in Inghilterra.

Il Lago Fyn, e Spinie, in Scozia.

Neagh, e Killarney, in Irlanda.

Qual è il Governo?

Reale Aristo-democratico, cioè vi comanda il Re, ma dipendentemente dal Parlamento formato da' Signori che si dicono Camera alta, e da' Comuni, che si dicono Camera bassa.

Qual è la Religione?

Nell'Inghilterra la dominante è l'Episcopale detta anche Anglicana, o Calvinista.

Nell'Irlanda la maggior parte degli abitanti professano la Cattolica.

E nella Scozia la Presbiteriana.

Di che abbonda?

Di Carbon di terra, piombo, stagno il miglior del mondo, bovi, pecore, e castrati; vi si fa gran traffico di pesce salato, e di manifatture di lana, e d'acciaro.

Quant' è l'estensione in miglia italiane?

L'Inghilterra estendesi in lunghezza 381. miglia.

in larghezza 300.

La Superficie è di 18. mila, 900. miglia quadrate.

La Scozia estendesi in lunghezza 300. miglia.

in larghezza 150.

La Superficie è di 11. mila, e 700. miglia quadrate.

L'Irlanda estendesi in lunghezza 300. miglia.

in larghezza 180.

Quant' è la Popolazione?

L'Inghilterra col Paese di Galles 8. milioni, e 400. mila.

La Scozia conta 1. milione. e 600. mila abitanti.

L'Irlanda secondo Guthrie 2. milioni.

E secondo Arthur Jounq 2. milioni e mezzo.

Non manca chi afferma, che la popolazione totale di questo Regno Unito ecceda li 15. milioni d'abitanti.

La

LEZIONE II.

De' STATI DI DANIMARCA.

Dove confinano gli Stati di Danimarca?

Confinano al Nord con l'Oceano Settentrionale.

all'Est con la Russia.

al Sud con l'Alemagna.

all'Ovest col Mar Britannico.

Come dividonsi?

In quattro gran parti, cioè:

Capitali

Abitanti

		Capitali	Abitanti
Danimarca che comprende	Jutland Nord . . .	Wiburg . . .	9. mila .
	Jutland Sud . . .	Steswik . . .	6. m.
	Isola Seeland . . .	COPENAGHEN	90. m.
	— Fionia . . .	Odensea . . .	6. m.
Norvegia	Aggero, o Cristiania	Cristiania . . .	10. m.
	Christiansand . . .	Christiansand	4. m.
	Berghen	Berghen . . .	18. m.
	Drontheim	Drontheim . . .	8. m.
	Wardus, o Lapponia Norvegese	Wardus . . .	
Islanda	In quattro parti secondo li 4. punti cardinali .	Skalholt . . .	
Territorj di Alemagna	Duc. d' Holstein Sig. di Pinnenberg: Contea di Ranzau .	Sluckstad . . .	4. m.

C

Qua

34 *EUROPA Stati di Danimarca.*

Quali sono le Colonie del Nord?

Oltre l'Islanda sopraddetta :

Le Isole di Feroé , che sono 24. con 5. mila abitanti :

La Lapponia Danese , popolata di . 4. mila.

La Groenlandia cognita , con . . . 10. mila.

Quali sono le Colonie nell'Asia, nell'Africa, e nell'America?

Nell'Asia .	}	La Città, e Distretto di Traalquebar .
		Le Fattorie di Frédriksnagor ecc.
		Le Isole Nicobar, trascurate .
Nell'Africa	}	Un distretto di 240. miglia Italiane di lunghezza nella Guinea, ma trascurato ed occupato da' Negri .
Nell'America		}
	— S. Tommaso .	
	— S. Giovanni .	

Quali altre Isole vi sono?

Falster, la cui Capitale è . . . *Nikoping.*

Lalande che ha 46. mila abitanti *Naxkow.*

Alsen *Sonderbourg.*

Femerén *Bourg.*

Mose, che ha 8. mila abitanti . *Steke.*

Bornholm, che ne ha 33. mila . *Rodno.*

Quali gli Stretti?

Di Skager-Rak tra Skagen e la costa di Svezia.

Di Categat al Sud tra il Jutland e la Svezia.

Del Sund tra l'Isola Seeland e la Scania.

Del Grand-Belt tra Seeland e l'Isola Fionia.

Del Picciol-Belt tra la Fionia ed il Jutland.

Quali sono i Capi?

Capo Nord, il più settentrionale nella Lapponia Norveg.

Lindes-Ness, il più meridionale nella Norvegia.

Capo Skagen nella Danimarca.

Li Monti più considerabili?

Eckla .

Ocraife .

Kotlegau

Dofrini .

Langfield

} Vulcani nell'Islanda.

} nella Norvegia.

EUROPA Stati di Danimarca. 35

Le Riviere, o Fiumi principali?

Glammer nell' Aggero in Norvegia.

L' Eyder, che separa la Danimarca dall' Alemagna.

Qual' è il Governo?

Totalmente Monarchico, ed è ereditario anche alle Figlie.

La Religione?

Luterana, sotto la direzione di Soprintendenti eletti dal Re, che fanno le funzioni Vescovili.

Di che abbonda?

Di una quantità prodigiosa di buoi, e di cavalli che si trasportano in Olanda, e in Alemagna. La cacciagione, e la pesca v'apportano grandi vantaggi. Vi sono ancora alcune miniere. I boschi poi formano la principal ricchezza della Norvegia.

Quant' è la sua estensione in miglia italiane?

La Danimarca estendesì in lunghezza 240. miglia.
in larghezza 180.

La superficie è di 4,953. miglia quadrate.

La Norvegia in lunghezza 735. miglia.
in larghezza 225.

La superficie è di 23,802. miglia qu.

L' Islanda in lunghezza 360. miglia
in larghezza 225.

La superficie è di 15,333. miglia qu.

La Popolazione?

La Danimarca conta un milione, e 400. mila abitanti.

La Norvegia 850. mila.

L' Islanda 50. mila.

I Territorj d' Alemagna . 314. mila, e 800.

del Nord . 19. mila, e 500.

Le Colonie } dell' Asia . 35. mila.

dell' Africa

dell' America 36. mila, e 700.

In tutto 2. milioni, e 706. mila.

LEZIONE III.

Della SVEZIA.

*D*ove confina la Svezia?

Confina al Nord con la Lapponia Danese.
 all' Est con la Russia.
 al Sud col Mar Baltico.
 all' Ovest coi Monti Dofrini.

Come si divide?

In cinque parti, cioè:

	<i>Abitanti</i>
Svezia propria la cui Capitale è STOKOLMA	76. mila.
Gozia, o Gotland	Calmar . 3. m.
Finlandia Svezese	Abo . . 9. m.
Lapponia Svezese	Tornea.
Isole Svezesi	
La Carelia	} ora appartengono alla Russia.
L' Inghria	
La Livonia	

Come si suddividono queste parti?

La Svezia propria in 10. Prov., che hanno 545. m. abit.
 La Gozia in 9. . . 1. milione e 179. m.
 La Lapponia Svez. in 5. 150. m.
 La Finlandia Svez. in 6. 144. m.

Quali sono le Isole?

Gotland, che ha 30. mila abit. Wisby 4. m.
 Oeland 8. mila Borkolm.
 Alland 9. mila Warweng.

Ha

Ha degli altri possedimenti il Re di Svezia fuori del suo territorio?

Possiede nell' Alemagna :

- La Pomerania Occidentale, o Svezzeze
 - L' Isola di Rugen
 - La Città di Wismar
- } contano 110.
mila abitanti.
- E L' Isola di S. Bartolommeo nelle Indie Occidentali cedutagli dalla Francia nel 1785.

Quali sono i Golfi e gli Stretti?

Il Golfo di Boemia tra la Norlandia e la Finlandia.

— di Finlandia sulle coste meridionali.

Lo Stretto di Calmar sull' Isola di Oeland.

Vi sono Monti?

Ne è quasi ripiena, li principali però sono :

Li Dofriai, che la separano dalla Norvegia.

Li Fiumi?

Kimì } nella Lapponia Svezzeze.
Torno }

Quali sono i Laghi?

Ve ne sono in gran numero, tra i quali si contano :

Il Lago di Wener, nella Gozia.

— di Weter, profundissimo in certi luoghi.

— di Meler, a cui è vicina Stokolma.

Qual' è il Governo?

Dopo molti avvenimenti è divenuto di nuovo Monarchico sotto Gustavo III. nel 1772.

La Religione?

E' la Luterana, ma vi si trovano de' Cattolici e de' Calvinisti.

Di che abbonda?

Di cristalli, amatiste, topazzi, porfiri, lapis-lazzuli; ha miniere d'argento, di rame, di stagno, di ferro, ed una d'oro. Vi si trova un numero prodigioso d'animali, i quali somministrano delle superbe pelli. Il terreno vi è assai fertile quantunque l'aria sia fredda, non essendovi che due stagioni, cioè, un inverno di nove mesi, ed un' estate di tre.

Quanti

Quanto estendesi?

In lunghezza 330. miglia italiane.

In larghezza 480.

La superficie è di 76. mila 339. miglia quadrate.

La Popolazione?

E' stimata 2. milioni, e 700. mila abitanti.

LEZIONE IV.

Della RUSSIA o MOSCOVIA.

Dove confina la Russia Europea?

Confina al Nord con l'Oceano Settentrionale.

all'Est con la Russia d'Asia.

al Sud con il Don, o Tanai.

all'Ovest con la Polonia, e la Svezia.

Come si divide?

Si può dividere al presente

in sette parti, cioè:

	Capitali	Abitanti
Russia	MOSCA	277. mila
Lapponia Russa	Kola	
Finlandia Russa	Wiborg	5. m.
o Carelia	Riga	37. m.
Livonia	PIETROBURGO	212. m.
Ingria	Mohilow	12. m.
Lituania Setten. già della Polonia	Soffa	4. m.
Crimea già del Turco,	Co-	

Cosa possiede nell' Asia?

Quattro Regni, cioè:

Regno di Kazan	} nella Tartaria	<i>Kazan</i>	14. m.
— di Bulgaria		<i>Bulgar</i>	
— di Astracan		<i>Astracan</i>	30. m.
La Siberia		<i>Tobolsk</i>	20. m.

Com' è stato suddiviso quest' Impero?

In sedeci Governi, e se ne trovano

- Sei al Nord } nell' Europa .
- Sei al Sud } nell' Europa .
- Quattro . . . nell' Asia .

Indi fu diviso da Caterina II. in 41. Governi, cioè:

- Otto al Nord, } nell' Europa ,
- Ventidue al Sud } nell' Europa ,
- Undici nell' Asia .

Quali sono le Isole?

La Nuova Zembla nell' Oceano Settentrionale .

Candanoès nel Mar Glaciale .

Dago, } nel Baltico sulla costa della Livonia .

Oesel } nel Baltico sulla costa della Livonia .

Retusari nel Golfo di Finlandia con 30. mila abitanti .

Quali sono i Monti?

Li Monti Pojas al Nord, creduti i famosi Rifei degli an-

tichi, ora chiamati *Cintura della Terra* .

Li Fiumi considerabili?

Il Volga, il maggiore dell' Europa, comincia al Sud Est

del Lago di Biel-Osero, e sbocca nel Mar Caspio .

Il Nieper, già Boristene, che sbocca nel Mar Nero .

Il Don, già Tanai, che sbocca nel Mar d' Azof .

La Dwina, due riviere } una gettasi nel Baltico ,

} l' altra nel Mar Bianco .

Quali i Laghi principali?

Il Lago di Ladoga, il più grande che sia in Europa .

— d' Onega all' Est del suddetto con cui comunica .

— di Ezuko, o Peipus al Sud del Golfo di Finlandia .

— d' Ilmen alla medesima latitudine, ma più all' Est .

— di Biel-Ozero, o sia Lago Bianco .

Quo-

Qual' è il Governo?

Assoluto, e Monarchico, ereditario anche all' Figlie dal 1713. in poi. Il Sovrano chiamasi Czar, o sia Imperatore.

La Religione?

Greco - Scismatica.

Di che abbonda?

Di formento, segala, lino, canape, cera, miele, tabacco, sapone, pece, colla di pesce, e pesce salato. Vi si trovano in quantità gli orsi, le volpi, i lupi, i caprioli, i daini, gli armellini, i zibellini; e vi si fa gran traffico di cuoi, e di pelliccie.

Quant' è la sua estensione nell' Europa, e in tutto l' Impero?

In lunghezza	1,950. miglia	5,100. miglia;
Larghezza	1,500. .	2,025.
Superficie miglia quadrate	406,644. .	2,400,000.
compresavi la Polonia.		

La Popolazione?

Variano gli Autori nel fissare la Popolazione alla Russia: Alcuni valutano la Popolazione de' 30. Governi che ha la Russia in Europa 24. milioni di abitanti.

E quella degli 11. Governi d' Asia 4. milioni.

Coméiras dà alla Russia Europea 26. milioni e mezzo; e all' Impero intiero 36. milioni.

Guthrie, e Mentel gli danno soli 30. milioni di abitanti per tutto questo vasto Impero.



LEZIONE V.

Della FRANCIA o IMPERO FRANCESE.

Dove confina presentemente la Francia?

Confina al Nord con la Manica, Passo di Calais, e Rep. Basi;
all' Est col Reno, e le Alpi.
al Sud col Mediterraneo, ed i Pirenei.
all' Ovest con l' Oceano Atlantico.

Come si divide?

La prima divisione fu in due parti, cioè:

Francia Propria, e
Paesi di Conquista.

La Francia Propria si suddivise in dodici Provincie, le
quali furono già Governi Sovrani, e sono:

Picardia. la cui Capitale era	<i>Amiens.</i>
Normandia	<i>Rouen.</i>
Bretagna	<i>Rennes.</i>
Gujenna	<i>Bordeaux.</i>
Linguadoca	<i>Tolosa.</i>
Provenza	<i>Aix.</i>
Delfinato	<i>Grenoble.</i>
Borgogna	<i>Dijon.</i>
Sciampagna	<i>Trojes.</i>
Isola di Francia	<i>PARIGI.</i>
Orleanese	<i>Orleans.</i>
Lionese	<i>Lione.</i>

Li

Li Paesi di Conquista erano composti di altre 4. Provincie o Governi, cioè :

- Lorena Metz.
- Alsazia Strasburgo o Argentina.
- Franca-Contea . . Besanzone.
- Fiandre Francesi . Douay.

Com' è stata divisa posteriormente ?

In trentadue Governi Militari, ed ultimamente in 108. Dipartimenti, compresi i Paesi acquistati con gli ultimi Trattati di Pace, come si può vedere chiaramente nel seguente Quadro :

Province	Governi	Dipartimenti	Capi-Luoghi	Abitanti
Fiandre	Artois	Pas-de-Calais	Arras *	20. m.
		Nord . .	Lilla . .	49. m.
Picardia	Fiandre	Somme . .	Amiens . .	30. m.
		Picardia	Seine-Infer. .	Rouen . .
Normandia	Normand.	Calvados . .	Caen . .	31. m.
		Manche . .	Saint-Lò . .	7. m.
		Orne . . .	Alençon . .	12. m.
		Eure . . .	Evreux . .	12. m.
Isola di Francia	Isola di Franc.	Seine . . .	PARIGI . .	600. m.
		Seine-et-Oise	Versaglies	37. m.
		Oise . . .	Beauvais	13. m.
		Aisne . . .	Laon . . .	8. m.
		Seine-et-Marne	Melun . . .	6. m.
Sciampagna	Sciamp.	Aube . . .	Troyes . .	24. m.
		Marne . . .	Chalons . .	11. m.
		Ardenneſ . .	Mezières . .	4. m.
		Haute-Marne	Chaumont . .	6. m.

* Li Capi-Luoghi in carattere tondo erano le Capitali degli antichi Governi.

EUROPA Francia.

43

<i>Provincie</i>	<i>Governi</i>	<i>Dipartimenti</i>	<i>Capi-Luoghi</i>	<i>Abitanti</i>
Lorena	Lorena	Meurthe . . .	Nancy . . .	30. m.
		Meuse . . .	Bar-Sur-Ornain	9. m.
		Moselle . . .	Metz . . .	32. m.
		Vosges . . .	Epinal . . .	7. m.
Alsazia	Alsazia	Bas-Rhin . . .	Strasburgo	49. m.
		Haut-Rhin . . .	Colmar . . .	13. m.
Brettagna	Brettagna	Ille-et Vilaine	Rennes . . .	40. m.
		Côtes du Nord	S. Brioux	9. m.
		Finisterre . . .	Quimper	6. m.
		Morbihan . . .	Vannes . . .	9. m.
		Loire-Inférieure	Nantes . . .	74. m.
Orleanese	Maine . . .	Sarthe . . .	Le Mans	17. m.
		Mayenne . . .	Laval . . .	8. m.
	Anjou . . .	Orne . . .	Alençon	12. m.
		Maine-et-Loire	Angers . . .	33. m.
	Touraine	Indre-et-Loire	Tours . . .	22. m.
		Loiret . . .	Orleans . . .	36. m.
	Orleanese	Eure-et-Loir . . .	Chartres	14. m.
		Loir-et-Cher . . .	Blois . . .	13. m.
	Berri . . .	Cher . . .	Bourges	15. m.
		Indre . . .	ChateauxRoux	8. m.
	Nivernese	Nièvre . . .	Nevers . . .	12. m.
		Vienne . . .	Poitiers . . .	18. m.
Poitou . . .	Deux-Sèvres . . .	Niort . . .	15. m.	
	Vendée . . .	Fonteney	6. m.	
Borgogna	Borgogna	Côte-d'Or . . .	Dijon . . .	21. m.
		Yonne . . .	Auxerre	12. m.
		Saône-et-Loire	Macon . . .	6. m.
		Ain . . .	Bourg . . .	7. m.
Franca Contea	Franca-Contea	Doubs . . .	Besangon	30. m.
		Haute-Saône . . .	Vesoul . . .	5. m.
		Jura . . .	Lons-le-Saunier	6. m.

110-

Provincie	Governi	Dipartimenti	Capi-Luoghi	Abitanti
Lionese	Lionese	Rhône . . .	Lione . . .	110. m.
		Loire . . .	Monbrisson	5. m.
	Auvergne	Puy-de-Dôme.	Clermont	25. m.
		Cantal . . .	Aurillac . . .	10. m.
	Marche	Creuse . . .	Gueret . . .	3. m.
	Limosin	Haute-Vienne	Limoges . . .	23. m.
	Borbonese	Corrèze . . .	Tulles . . .	10. m.
Allier . . .		Moulins . . .	13. m.	
Delfinato	Delfinato	Isère . . .	Grenoble . . .	23. m.
		Drôme . . .	Valenza . . .	7. m.
		Hautes-Alpes .	Gap . . .	8. m.
Gujenna	Saintonge	Charente Infer.	Saintes . . .	11. m.
	Aunis	Charente . . .	Angouleme	15. m.
		Gironde . . .	Bordeaux	90. m.
	Gujenna	Dordogne . . .	Perigueux	6. m.
		Lot-et-Garonne	Agen . . .	11. m.
		Lot . . .	Cahors . . .	12. m.
	Guascogna	Aveyron . . .	Rodez . . .	6. m.
		Landes . . .	Mont-Marsan	4. m.
	Bearn	Gers . . .	Auch . . .	8. m.
		Hautes-Pyrénées	Tarbes . . .	7. m.
Linguadoca	C. di Foix	Basses-Pyrénées	Pau . . .	8. m.
		Arriège . . .	Foix . . .	4. m.
	Linguad.	Haute-Garonne	Tolosa . . .	50. m.
		Tarn . . .	Albi . . .	10. m.
		Aude . . .	Carcellona	15. m.
		Hérault . . .	Montpellier	34. m.
		Gard . . .	Nimes . . .	39. m.
		Lozère . . .	Mende . . .	5. m.
		Ardèche . . .	Privas . . .	3. m.
		Haute-Loire .	Le Puy . . .	16. m.
Roussillon	Pyrénées Orient.	Perpignan	11. m.	

Pro-

Province	Governi	Dipartimenti	Capi-Luoghi	Abitanti
Provenza	Provenza	Basses-Alpes .	Digne .	3. m.
		Bouch. du Rhône	Marsiglia	111. m.
		Var	Draguignan	6. m.
Corsica / Elba . } Capraja }	Isole nel Medit.	Golo	Bastia .	11. m.
		Liamone . . .	Ajaccio .	6. m.

Qual è il Territorio Francese accresciuto con gli ultimi Trattati di Pace?

Duc. di Bouillon	} in parte.	Ardennes	
Rep. di Mulhausen		Forêts	
Pr. di Montbeliard	} in parte.	Haut-Rhin	
Cont. Venaissin .		Haute-Saône	
Princ. d'Orange	}	Vaucluse . .	Avignon . 10. m.
Cantone d'Apt .			
Savoja		Mont-Blanc .	Chambery 10. m.
Contea di Nizza .		Alpes Marit. .	Nizza . 18. m.

Il Piemonte, cioè:

Ducato d'Aosta, e Provincia d'Ivrea .	}	Dora	Ivrea	2. m.
Signoria di Vercelli e Princ. di Masserano		Sesia	Vercelli .	20. m.
Monferrato, Tortonese Pavese ecc.	}	Marengo . . .	Alessandria	12. m.
Co. d'Asti e Provincia d'Asti		Tanaro	Asti	11. m.
Piemonte proprio, e Marchesato di Susa .	}	Po	Torino .	78. m.
Marchesato di Saluzzo e di Ceva		Stura	Cuneo .	8. m. Beira

Regioni	Stati e Prov.	Dipartimenti	Capi-Luoghi	Abitanti
Belgio o Paesi Bassi	Duc. Brabante	Dyle . .	Bruxelles .	66. m.
		Deux-Nethes	Anversa .	61. m.
	Co. di Fiandre	Escaut . .	Gand . .	56. m.
		Lys . .	Bruges . .	41. m.
	Co. d' Hainaut	Jemmape .	Mons . .	18. m.
	Co. di Namur	Sambra e Mossa	Namur . .	18. m.
	Luxemburghese	Forêts . .	Luxemburg	10. m.
	Limburgo . .	Ourthe . .	Liegi . .	50. m.
	Liegese . .			
	Gueldria . .	Meuse-Infer.	Mastricht	18. m.
Parte dell'				
Riva sinistra del Reno	Elet. di Colonia	Roer .	Aix-la-Chapelle	23. m.
	Duc. di Juliers			
	Gueldria Pruss.			
	Cleves ecc.			
Parte dell'				
Riva sinistra del Reno	Elet. di Treveri	Rhin et Moselle	Coblentz	10. m.
	Elet. di Colonia			
Parte dell'				
Riva sinistra del Reno	Elet. di Treveri	Sarre . . .	Treveri .	8. m.
	Duc. di 2. Ponti			
Parte dell'				
Riva sinistra del Reno	Elet. di Magonza	Mont-Tonnerre	Magonza	22. m.
	Duc. di 2. Ponti			
	Vesc. di Basilea			
Riva sinistra del Reno	Rep. di Ginevra	Leman . .	Ginevra	26. m.
	Cantone di Gex			
	Carouge, Thonon			

Qua-

Quali sono i Possedimenti o Colonie, che la Francia ha fuori dell' Europa?

Se ne trovano nell' Asia, nell' Africa, e nell' America; divisi anch' essi in Dipartimenti, come si vede qui sotto:

Regioni	Possedimenti	Dipartimenti	Capi-Luoghè
Asia . .	<i>Indie Orientali</i>	Indie Orientali	<i>Pondichery</i> .
	Pondichery . Karical, Mahè Chandernagor.		
Africa .	Isola di Francia o sia Maurizia <i>nella Guinea</i>	Isole di Francia	<i>Port-Louis</i> .
	Isola di Senegal — — Gorea	Senegal . . .	<i>S. Louis</i> .
	<i>nell' Oc. Etiop.</i>		
	Is. della Riun. o Bourbon ecc.	Isola della Riunione	<i>S. Denis</i> .
America	<i>Isole Antille</i>	Sud . . .	<i>Les Cayes</i> .
	Isola di S. Domingo	Ovest . . .	<i>Porto Repubbl.</i>
	Guadalupa ecc. .	Nord . . .	<i>Capo Francese</i> .
	Gujana e Cajenna	Samana . . .	<i>S. Yago</i> .
	Martinica . . .	Inganne . . .	<i>S. Domingo</i> .
	S. Lucia e Tabago .	Guadalupa .	<i>Port de la Libertè</i>
	Grenade . . .	Gujana .	<i>Cajenna</i> .
	Miquelon . . .	Martinica .	<i>Forte Reale</i> .
S. Pietro . . .	S. Lucia e Tabago .	<i>Carenage</i> .	
	Grenade . . .	<i>Port-Lewis</i> .	

Qua-

Quali sono le Isole adjacenti alla Francia?

D'Ouessant .

Bell-Isle . .

Noirmoutier

Dieu

Oleron . . .

Ré

Hières . . .

Lerins . . .

Corsica . . .

Elba

Capraja . . .

} dell'Oceano Atlantico.

} del Mediterraneo.

} sulle coste della Toscana.

Le principali Montagne?

I Pirenei, che la separano dalla Spagna .

Le Alpi, che la separano dall'Italia .

Le Vosgi, che separano la Lorena dalla Borgogna e dall'Alsazia .

Le Cevenne nella Linguadoca .

Il Monte Jura, che separa la Franca-Contea dalla Svizzera .

Il Mont d'Or . . .

Il Cantal

Il Puy-de-Dôme .

Il Côte-d'Or nella Borgogna .

Il Monte Terrible, presso Basilea .

Il Mont Tonnerre, che dà il suo nome ad un Dipartimento della riva sinistra del Reno .

Quali i Golfi?

Il Golfo di Guascogna, ovvero Gran Baja di Francia .

— di Lione .

Li Capi?

Il Capo Hague in Normandia .

— Frchel in Brettagna .

— Breton in Guascogna .

— Croisette . . .

— Scie

— Tagliato . . .

} in Provenza .

Qua

Quali sono i Fiumi, e le Riviere?

	a destra	a sinistra	si perd.
La Senna, che sorge nella Borgogna e riceve	L' Aube . . . La Marna . . . L' Oise . . .	L' Yonne . . . L' Eure . . . La Rille . . .	nella Manica
La Loira, che sorge nel Vivarese in Linguadoca e riceve	L' Arroux . . . La Nièvre . . . La Mayenna	L' Allier . . . Il Loiret . . . Il Cher . . . L' Indre . . . La Vienna . . . La Sèvre Nant.	nell' Oceano Occidentale
La Garonna, che sorge nella Gujenna e riceve	Arriege . . . Il Tarno . . . Il Lor . . . La Dordogne . . .	Il Gers	nel Golfo di Biscaja
Il Rodano, che sorge nella Svizzera e riceve	L' Ain . . . La Saona . . . L' Ardeche . . . Il Gard . . .	L' Isère . . . La Drôme . . . La Durance	nel Mediterraneo
Il Reno, che sorge nella Svizzera e riceve	L' Ill . . . La Mosella . . . La Mosa . . .	Mar del N.
La Mosa, che sorge nella Bassa Sclampagna e riceve	L' Ourthe . . . La Roer . . .	La Sambra	Oceano Occ.
Il Po, che sorge nel Piemonte e riceve	La Maira . . . La Stura . . . Il Tanaro . . .	La Dora . . . La Sesia	Golfo di Venezia

L' Escaut . }
 La Somma } che sorgono nella Alta Picardia
 La Charente nel Limosino . . .
 Il Varo nelle Alpi . . .
 L' Adour nella Gujenna . . .
 L' Aude nel Roussillon . . .
 L' Orne nella Bassa Norman . . .
 La Vilaine nel Maine . . .

Altri più piccioli Fiumi, che si portano al Mare in più breve spazio.

D

Quan

Quali sono i Laghi principali?

Il Lago di Bierre o sia Martigues nella Provenza .

— di Grandlieu . . . nell' Bretagna .

— des Rousses . . . nella Franca Contea .

— di Sarlie . . .

— di Daven . . . } nell' Auvergne .

— di Gregul . . .

— di Ginevra . . . } nella Svizzera .

— di Joux . . . } unite alla Francia .

— du-Bourget . . . } nella Savoia .

— d'Annecy . . . }

Qual è il Governo?

Il Governo della Francia è affidato ad un Imperatore, che prende il titolo d'Imperatore de' Francesi. La dignità Imperiale è ereditaria.

La Giustizia si amministra in nome dell' Imperatore dagli Ufficiali, ch'egli instituisce.

L' Autorità Legislativa è distribuita in tre gran corpi, che portano il nome 1. di Senato Conservatore. 2. Di Corpo Legislativo: 3. Di Tribunato.

Le Leggi politiche emanano dal Senato, le Civili sono discusse dal Tribunato, e sanzionate dal Corpo Legislativo.

La Religione?

La Cattolica; la Protestante però e le altre vi hanno un libero esercizio.

Di che abbonda?

Di grani, vini, frutta d'ogni sorta, zaffarano, canapè, e del miglior sale; vi si fa grande traffico di acquavita, drappi di seta ecc. Il valore solo che si cava da' vini annualmente è di 360. milioni di Franchi. Non manca di miniere d'oro, d'argento, di ferro, di rame e di stagno. Vi si trovano pure de' marmi, dell'alabastro, del diaspro ec. ec.

Quan-

Quanto estendesi la Francia?

	<u>Estensione Antica</u>	<u>Estensione Attuale</u>
In lunghezza	660. miglia.	720. miglia.
la larghezza	645.	660.
Superficie miglia quadrate	80,100.	93,000.

La Popolazione?

Secondo i più giusti calcoli la Francia conteneva prima de' suoi ingrandimenti 25. milioni e mezzo d'abitanti. Con le sue nuove conquiste si porta la sua popolazione a 33. milioni.

La Popolazione delle Colonie, che si fa entrare nel suddetto totale, viene di recente valutata come segue:

Nell' Asia.	{	Candernagor	} 30. mila abitanti.
		Pondichery	
		Mahé	
Nell' Africa	{	Isola di Francia.	92. m.
		Senegal	10. m.
		Isola della Riunione	89. m.
Nell' Amer.	{	— di S. Domingo	575. m.
		Piccole Antille	874. m.
		Gujana e Caienna	14. m.
		S. Pietro, Miquelon	6. m.



LE

Nota. Anche il Ducato di Parma, Piacenza, e Guastalla, in Italia, dopo la morte del Duca è passato sotto il dominio della Francia.

LEZIONE VI.

De' PAESI BASSI O BELGIO.

Dove confinavano i Paesi Bassi?

Confinavano al Nord col Mar d'Alemagna.

all' Est con l' Alemagna.

al Sud con la Francia.

all' Ovest con la Manica, o Canal d'Inghilterra.

Come si dividevano?

In Paesi Bassi { Austriaci, e
 } Francesi.

In Provincie Unite o Repubblica Batava.

Quante e quali sono le Provincie conosciute sotto il nome di Paesi Bassi o Belgio, e qual' è la loro appartenenza?

Sono diciassette, cioè:

	<i>Antica</i>	<i>Attuale</i>
Il Ducato di Brabante	{ all' Austria Rep. d'Oland. }	alla Francia
March. d'Anversa . Signoria di Malines }	{ all' Austria	alla Francia
Duc. di Limburgo .	all' Austria	{ alla Rep. Bat. alla Francia
— di Luxemburgo }	{ alla Francia all' Austria	{ alla Francia Con-

Contea di Fiandra . . .	}	alla Francia	}	alla Francia
— d'Artois . . .		all' Austria		e
— d'Hainaut . . .	}	Rep. d'Oland.	}	alla Rep. Bat.
— di Namur . . .		alla Francia		alla Francia
Ducato di Gueldria . . .	}	all' Austria	}	alla Francia
e		alla Francia		alla Francia
Contea di Zutfen . . .	}	all' Austria	}	
Contea d'Olanda . . .		alla Rep. d'Ol.		
— di Zelanda . . .	}		}	alla Rep. Bat.
Signoria di Frisia . . .		alla Rep. d'Ol.		
— d'Utrecht . . .				
— d'Ower-Yssel . . .				
— di Groninga . . .				

veggasi
la *Lezione*
seguinte.

Quant' era l'estensione?

In larghezza 300. miglia italiane .

In lunghezza 210.

La popolazione?

La Popolazione de' Paesi Bassi un tempo Austriaci è considerabilissima, ma gli Scrittori, dice *Comeiras*, non s'accordano sul numero; si potrebbe ciononostante, prendendo un termine medio, fissare gli abitanti ad 1, milione, e 500. mila.

LEZIONE VII.

Delle PROVINCE UNITE,
o REPUBBLICA BATAVA.

Dove confina la Repubblica Batava, o sia le Provincie Unite?

Confina al Nord col Mare d'Alemagna .

all' Est con la Vefalia .

al Sud col Belgio o Paesi Bassi .

all' Ovest col Mare d'Alemagna .

Quante e quali sono le Provincie componenti questa Repubblica?

Sette, scorporate dalle già diciasette Provincie de' Paesi Bassi, alle quali si deve aggiungere il Brabante Olandese, e le Isole, cioè:

	<i>Capitali</i>	<i>Abitanti</i>
	~~~~~	~~~~~
Groninga . . . . .	Groninga . . . . .	30. m.
Frisia . . . . .	Lewenter . . . . .	
Over-Yssel . . . . .	Deventer . . . . .	
Gueldria e Zutfen . . . . .	Nimega . . . . .	22. m.
	Zutfen . . . . .	
Utrecht . . . . .	Utrecht . . . . .	32. m.
Olanda . . . . .	AMSTERDAM . . . . .	230. m.
Zelanda . . . . .	Middelburgo . . . . .	24. m.
Brabante Olandese . . . . .	Bois-le-Duc . . . . .	12. m.
Isole del Zuidersee . . . . .		
		<i>Com'</i>

Com' è divisa al presente?

In otto Dipartimenti, cioè:

Dipartimenti

Capi-Luoghi

<b>Emis</b> che comprende .	{ Groninga e . . . . . Frisia . . . . . }	{ <b>Lewarden.</b>
<b>Vecchio Yssel</b> .	{ Gueldria e { in parte. Zutfen . . . . . } Over-Yssel . . . . . }	{ <b>Zwoi.</b>
<b>Reno</b> . . . . .	{ Il restante della Gueldria e Zutfen . . . . . } Parte d' Utrecht . . . . . }	{ <b>Arnheim.</b>
<b>Amstel</b> . . . . .	{ Parte d'Olanda ove tro- vasi Amsterdam . . . . . }	{ <b>Amsterdam.</b>
<b>Texel</b> . . . . .	{ La parte Sett. d'Olanda e la parte Meridionale sino a Leyda inclus. }	{ <b>Alkmar.</b>
<b>Delft</b> . . . . .	{ Il restante della Parte Me- ridionale d'Olanda, ed il restante d' Utrecht. }	{ <b>Delft.</b>
<b>Dommel</b> . . . . .	Brabante Oland. parte Or.	<b>Bois-le-Due.</b>
<b>Escaut e Mosa</b> .	{ Brabante Oland parte Oc.) e la Prov. di Zelanda. }	{ <b>Middelburgo.</b>

Quali sono le Isole del Golfo Zuidersee?

Texel, la più grande, compresa l' Isola d' Eierland,  
Schelling.

Wieringen.

Marken.

Urk e Schokland.

Vi sono altre Isole oltre le sopraddette?

Ve ne sono altre sei, le quali compongono la Provincia  
di Zelanda, cioè:

Wale

# 56 EUROPA Repubblica Batava :

	Capitali	Abitanti
Walcheren, la più abitata . . .	Middeburgo	24. m.
Scowen . . . . .	Zitriczée . . .	10. m.
Sud-Beveland . . . . .	Goes.	
Tolen . . . . .	Tolen . . . . .	
Nord-Beveland Duveland	} queste non hanno che de' Borghi e Villaggi.	

## Quali sono i Possedimenti fuori dell' Europa ?

- In Asia . . . . .
  - Una parte dell' Isola Java nell' Indie Orientali, ov' è *Batavia* capitale dell' Isola.
  - Varj Forti dell' Isola Sumatra, una delle tre della Sonde.
  - Una considerabil Parte delle Molucche.
  - Malaca, nella Penisola di questo nome.
  - Paliacate, Mazulipatam ec. nella Penisola Occ. dell' India, sulla costa di Coromandel.
  - Cochin, Cananor, e Coula, Città situate sulla costa di Malabar.
- In Africa . . . . .
  - La Mina ecc. sulla costa di Guinea.
  - Il Capo di Buona Speranza, nella Cafreria.
- In America Meridionale . . . . .
  - Varie Isole vicine alla Terra Ferma, la principale delle quali è Curaçao.
  - Il Territorio di Surinam, nella Terra Ferma all' Oriente.

## Quali sono i Fiumi principali, ed i Laghi ?

- Il Reno, che è il più grande.
- La Mosa,
- La Schelda.
- La Vecht, che viene d' Utrecht e si perde nel Zuidersee.
- Il Lago di Harlem,

## Qual' è il Governo ?

Democratico Rappresentativo.

## Quale la Religione ?

Calvinista, ma vi sono però tollerate quasi tutte le altre.

Di che abbonda?

Il Paese in sè produce assai poco, toltine il butirro, ed il formaggio; ciononostante è fra i più ricchi dell' Europa per l'attività, e l'industria de' suoi abitanti, e pel commercio soprattutto, che questi fanno nell' Indie.

Quanto estendesi?

In lunghezza 150. miglia italiane.

In larghezza 135.

La Superficie è di 2976. miglia quadrate.

La Popolazione?

Relativamente alla estensione è forse il paese più popolato dell'universo: *Mentel* gli dà circa 2. milioni e 633. mila abitanti.

LEZIONE VIII.

Della SVIZZERA

ovvero

Della REPUBBLICA ELVETICA.

**D**ove confina la Svizzera?

Confina al Nord con l'Alemagna, e colla Francia.

all' Est con l'Alemagna.

al Sud con l'Italia.

all'Ovest con la Francia.

Come dividesi?

In quattro parti, cioè:

Svizzera Propria, li 13. Cantoni

Sudditi Svizzeri . . . . .

Alleati Sveizzeri . . . . .

Sudditi degli Alleati Svizzeri . . . . .

} ora Repubblica Elvetica.

} ora uniti alla Repub. Italiana.

Come /

Come si suddividono queste quattro Parti?

	Cantoni	Capitali	Abit.	Religione
La Svizzera propria che comprende li Cantoni	Di Basilea .	Basilea .	15. m.	Protestante
	Di Berna .	BERNA .	13. m.	
	Di Zurigo .	Zurigo .	10. m.	Calvinista
	Di Scaffusa .	Scaffusa .	7. m.	Protest. e Catt. Rom.
	Di Glaris .	Glaris .	.	
	D' Appenzel	Appenzel .	.	
	Di Solura .	Solura .	5. m.	Catt. Rom.
	Di Friburgo	Friburgo .	6 m.	
	Di Lucerna	Lucerna .	6. m.	
	Di Zug .	Zug .	2. m.	
Di Schwitz	Schwitz .	5. m.		
Di Uri .	Altorf .	3. m.		
Unterwalden	Stanz .	4. m.		

Paesi

Li Sudditi Svizzeri	Co. di Baden	Baden . . . .	5. m.	Protestante e Catt. Rom.
	Prov. Libere	Bremgarten		
		Mellingen	5. m.	
	Turgovia	Frauenfeld . . . .		
	Rheintal .	Reineck . . . .		
	Sarganz . .	Sarganz . . . .		
	Val-Magia .	Magia . . . .		
	Locarno . .	Locarno . . . .		
Lugano . . .	Lugano . . . .			
Mendrisio .	Mendrisio . . . .			
Gli Alleati Svizzeri	Neuchatel .	Neuchatel . . . .	6. m.	Protestante e Catt. Rom.
	Tokenburg .	Liechtenstein . . . .		
	Vallesia . .	Sion . . . .		
	Grigioni . .	Coira . . . .	4. m.	
	Abbaz.S.Gallo	S. Gallo . . . .	7. m.	
Rep.di Ginevra	Ginevra . . . .	25. m.	idem ora uniti alla Franc.	
di Mulhausen	Mulhausen . . . .	4. m.		

Sud-

	<b>Paesi</b>	<b>Capitali</b>	<b>Abit.</b>	<b>Religione</b>
<b>Sudditi</b>	Co. Chiavenna	Chiavenna	3. m.	} ora uniti } alla } Repub. Ital.
<b>degli Alleati</b>	Valtellina	Sondrio	2. m.	
<b>Svizzeri</b>	Co. di Bormio	Bormio	1. m.	

**Com' è stata divisa la Svizzera ultimamente?**

In diciotto Dipartimenti, col nome di **Repubblica Elvetica**, i quali sono :

<b>Dipartimenti</b>	<b>Capi-Luoghi</b>
Argovia . . . .	<b>Arau .</b>
Baden . . . .	<b>Baden .</b>
Basilea . . . .	<b>Basilea .</b>
Berna . . . .	<b>BERNA .</b>
Lemano . . . .	<b>Losanna .</b>
Linth . . . .	<b>Glaris .</b>
Lucerna . . . .	<b>Lucerna .</b>
Lugano . . . .	<b>Lugano .</b>
Oberland . . . .	<b>Thoun .</b>
Sarne e Broye . . . .	<b>Friburgo .</b>
Scaffusa . . . .	<b>Scaffusa .</b>
Sentis . . . .	<b>S. Gallo .</b>
Solura . . . .	<b>Solura .</b>
Tesino . . . .	<b>Bellinzona .</b>
Turgovia . . . .	<b>Frawenfeld .</b>
Waldstetten . . . .	<b>Schwitz .</b>
Valese . . . .	<b>Sion .</b>
Zurigo . . . .	<b>Zurigo .</b>

**Quali sono le Montagne?**

La Svizzera n'è tutta ripiena, ed ha le Alpi, le quali sono le più considerabili dell' Europa.

**Lo**

Le due più alte però sono:

- Il Gran S. Bernardo, tra il Valeso e la Val d'Aosta.
- Il S. Gottardo nel Cantone d'Uri.

**Quali sono i Fiumi?**

Il Reno, che sorge presso al S. Gottardo.

Il Rodano presso al Monte Forca.

L'Aar .

- Il Russ . } sorgono presso le suddette montagne.

Il Tesino }

L'Inn, che scorre al Nord-Est e s'unisce al Danubio.

**Quali i Laghi?**

Di Ginevra.

Di Neuchatel, detto anche d'Yverdun.

Di Zurigo.

Di Lucerna.

Di Bienna.

Di Vallenstat.

Di Costanza.

**Qual è il Governo?**

Repubblicano.

**La Religione?**

In alcuni luoghi la Cattolica Romana è la dominante.

In altri la Calvinista o Protestante.

Finalmente in altri si professa la Cattolica e la Calvinista.

**Le produzioni?**

Vini bianchi, uccellami, bestiami, formaggi; abbonda soprattutto di patate, delle quali ne viene fatto un grande e profittevole uso.

**Quant' è la sua estensione?**

In lunghezza 225. miglia italiane.

In larghezza 174.

La Superficie è di 9. mila miglia quadrate.

**La Popolazione?**

M. Durand, statistico della Svizzera nel 1795. la calcolò 1. milione ed 835. mila abitanti.

Difalcandone 135. mila pei Paesi staccati dalla Svizzera restarebbe 1. milione e 700. mila.

L E-

## LEZIONE IX.

## Dell' ALEMAGNA O GERMANIA.

**D**ove confina l' Alemagna ?

Confina al Nord col Mar Baltico, e d'Alemagna.  
 all' Est colla Polonia e l' Ungheria.  
 al Sud coll' Italia e colla Svizzera.  
 all' Ovest colla Francia, e co' Paesi Bassi.

*Come dividesi?*

La più antica divisione era in due parti, cioè:

Alemagna Propria, la quale comprendeva 10. Circoli  
 compreso quello della Borgogna, che conteneva  
 le 17. Provincie Unite.

Stati Aggiunti, cioè: { Boemia.  
 Ungheria. } delle quali si son fatte  
 Svizzera. } Lezioni a parte.

*Come dividesi al presente?*

In due parti, cioè:

Alemagna Propria, e Regno di Boemia.

*Come si divide l' Alemagna Propria?*

In nove Circoli, e sono:

Il Circolo di Vestfalia. . . . .	}	al Nord.
———— della Bassa Sassonia.		
———— dell' Alta Sassonia . . . . .	}	nel Mezzo.
———— del Basso Reno . . . . .		
———— dell' Alto Reno . . . . .		
———— di Franconia. . . . .	}	al Sud.
———— di Svevia . . . . .		
———— di Baviera . . . . .		
———— dell' Austria . . . . .	}	

Quali



Qual' è la suddivisione de' nove Circoli, quali le Capitali de' Stati compresi, e gli Abitanti di esse?

Circoli	Stati	Capitali	Abitanti
	Stati Secolari		
Vesfalia	Ducato di Vesfalia . . .	Arensburg .	
	— di Cleves . . .	Cleves . . .	2. m.
	Principato di Minden . . .	Minden . . .	2. m.
	Contea di Ravensberg . . .	Ravensberg .	
	Principato di Ostfrisia . . .	Emden . . .	7. m.
	Contea di Lippe . . .	Lipstadt . . .	4. m.
	Ducato di Juliers . . .	Juliers . . .	3. m.
	Contea della Marck . . .	Ham . . .	4. m.
	Ducato di Berg . . .	Dusseldorf .	9. m.
	— di Ferden . . .	Ferden . . .	
Contea di Hoja . . .	Hoja . . .		
Principato di Oldenburg . . .	Oldenburg .	3. m.	
Contea di Delmenhorst . . .	Dalmenhorst .	2. m.	
	Stati in addietro Ecclesiastici		
	Vescovato di Munster . . .	Munster . . .	25. m.
	— d' Osnabruck . . .	Osnabruck . . .	7. m.
	— di Paderbon . . .	Paderborn . . .	12. m.
	— di Liegi . . .	Liegi . . .	50. m.
	Abbadia di Corbey . . .	Corbey . . .	
	— di Stoblo . . .	Stoblo . . .	
	Città in addietro Libere	Aquisgrana . . .	} 24. m.
	Imperiali . . . . .	Aix-la-Chapella . . .	
		Dortmund . . .	
			Bassa

N. B. Le Città che si trovano distinte in carattere tondo e segnate con * sono ancora Libere Imperiali.

Circoli

Stati

Capitali

Abitanti

Stati Secolari

Bassa Sassonia	}	Il Ducato d' Hannover .	Hannover .	16 m.
		----- di Luneburg .	Luneburg .	9. m.
		----- di Brema . .	Brema * .	40. m.
		----- di Lawemburg	Lawemburg	2. m.
		----- di Brunswich	Brunswich .	22. m.
		----- di Magdeburg	Magdeburg	30. m.
		----- di Mecklemburg	Schwern .	10. m.
		----- d' Holstein .	Gluckstadt .	4. m.
		Principato d' Halberstadt	Halberstadt	13. m.
Stati in addietro Ecclesiastici				

		Il Vescovato d' Hildesheim	Hildesheim .	12. m.
		----- di Lubeck .	Lubeck * .	12. m.
	}		Goslär . .	6. m.
		Città in addietro Imperiali	Hamburg .	95. m.
			Mulhausen .	5. m.

Alta Sassonia	}	Marchesato di Misnia .	Dresda . .	50. m.
		----- di Lusazia .	Gorlitz . .	8. m.
		Ducato di Sassonia . .	Wirtemberg	8. m.
		Principato di Anhalt .	Dessau . . .	7. m.
		Langraviato di Turingia	Erfurt . . .	15. m.
		Marchesato di Brandeburg	Berlino . . .	164. m.
		Pomerania Occ. o Svezese	Stralsunda .	10 m.
		Pemerania Orient. o Prussa	Stettin . . .	17. m.
		Città in addietro Imperiale	Nordhausen	10. m.

Stato Secolare

Basso Reno	}	Palat. Infer. o sia del Reno	Heidelberg .	10. m.	
		Stati in addietro Ecclesiastici			
			Elettorato di Magonza .	Magonza . .	27. m.
			----- di Treveri .	Treveri . . .	8. m.
		----- di Colonia .	Colonia * .	47. m.	

Circoli

Stati

Capitali

Abitanti

## Stati Secolari

Alto  
Reno

Langraviato di Hassia .	Cassel . . .	18. m.
La Veteravia . . . . .	Hanau . . .	11. m.
Territorio di Francfort.	Francfort *	36. m.
Ducato de' due Ponti . .	Due-Ponti .	5. m.
— — di Simmeren . . .	Simmeren .	
Principato di Birkenfeld	Birkenfeld .	
Contea di Nassau . . .	Nassau . . .	2. m.

Stati in addietro Ecclesiastici

Vescov. e Abbaz. di Fulda	Fulda .	
Vescovato di Basilea . .	Porentrui . .	2. m.
— — di Worms . . . . .	Worms . . . .	6. m.
— — di Spira . . . . .	Spira . . . . .	3. m.
Città in addietro Imperiali . .	Friedberg . . .	3. m.
	Vetzlar . . . . .	6. m.
	Gelnhausen .	

## Stati Secolari

Franco-  
nia

Principato di Culembac .	Culembac . .	3. m.
Marchesato di Anspach .	Anspach . . .	15. m.
Principato di Coburg . .	Coburg . . . .	5. m.
Contea di Henneberg ecc.	Henneberg .	

Stati in addietro Ecclesiastici

Vescovato di Wurtzburg	Wurtzburg .	21. m.
— — di Bamberg . . . . .	Bamberg . . .	17. m.
— — di Aichstadt . . . .	Aichstadt . .	
Città in addietro Imperiali . .	Norimberga *	30. m.
	Rotenburg . . . . .	8. m.
	Windsheim . . . . .	4. m.
	Schweinfurt . . . . .	7. m.
	Weissenburg .	6. m.
	Ba-	

Circoli

Stati

Capitali

Abitanti

Stati Secolari

}	Ducato di Baviera . . .	Monaco . . .	38. m.
	Palatinato di Baviera . . .	Amberg . . .	5. m.
	Ducato di Neoburg . . .	Neoburg . . .	3. m.
	Principato du Sulzbach . . .	Sulzbach . . .	3. m.

Stati in addietro Ecclesiastici

Baviera

}	Arcivescov. di Salisburgo	Salisburgo . . .	18. m.
	Vescovato di Frisinga . . .	Frisinga . . .	
	———— di Passavia . . .	Passavia . . .	9. m.
	———— di Ratisbona . . .	Regensburg . . .	
	Città in addietro Imperiale	essio Ratisbona . . .	21. m.

Stati Secolari

}	Ducato di Wirtemberg . . .	Stutgard . . .	18. m.
	Marchesato di Baden . . .	Baden . . .	
	Brigovia . . . . .	Friburgo . . .	8. m.
	Principato di Furstemberg	Furstemberg . . .	
	———— di Mindelheim	Mindelheim . . .	
	———— di Oettingen . . .	Oettingen . . .	4. m.
———— di Hoen-zollern	Hoen-zollern . . .		
Territorio di Ulma . . .	Ulma * . . .	15. m.	

Stati in addietro Ecclesiastici

Svevia

}	Vescovato d' Augusta . . .	Augusta * . . .	38. m.
	Prepositura di Elwangen	Elwangen . . .	5. m.
	Vescovato di Costanza	Costanza . . .	4. m.
	Abbadia di Kempten	Kempten . . .	5. m.
		Halla . . .	5. m.
		Hailborn . . .	7. m.
	Città principali in addietro Libere . . . . .	Nordlingen . . .	7. m.
		Donavert . . .	4. m.
		Memmingen . . .	9. m.
	Lindau . . .	5. m.	
	Rotoeil . . .	4. m.	

E

Circoli	Stati	Capitali	Abitanti	
Austria	Austria	Superiore . . . . .	Lintz . . . . . 16. m.	
		Inferiore . . . . .	VIENNA . . . . . 254. m.	
	Stiria .	Superiore . . . . .	Judenburg . . . . .	
		Inferiore . . . . .	Gratz . . . . .	30. m.
		Co. di Cilley . . . . .	Cilley . . . . .	
	Carinzia	Superiore . . . . .	Orlenburg . . . . .	
		Inferiore . . . . .	Clagenfurt . . . . .	10. m.
	Carniola	Carniola Propria . . . . .	Lubiana . . . . .	14. m.
		Mar. di Windsmark . . . . .	Metling . . . . .	
		Friuli Austriaco . . . . .	Gradisca . . . . .	
	Tirolo	Istria Austriaca . . . . .	Trieste . . . . .	21. m.
		Tirolo Proprio . . . . .	Inspruck . . . . .	9. m.
Vesc. di Bressanone . . . . .		Bressanone . . . . .		
	— di Trento . . . . .	Trento . . . . .	8. m.	

**Quali sono i Monti principali?**

Le Alpi, che separano l' Alemagna dall' Italia.

Le Montagne dell' Hartz, che sono tra l' Alta e Bassa Sassonia.

**Quali sono i Fiumi?**

Il Danubio o Istro, il più gran fiume dell' Europa, il quale sorge nella Svevia e sbocca nel Mar Nero.

Il Meno, che sorge nella Franconia e perdesi nel Reno vicino a Magonza.

Il Weser, che sorge parimente nella Franconia e sbocca nel Mar Germanico.

Il Reno, di cui si è parlato nella Svizzera.

**Quali sono i principali Laghi?**

Il Lago di Costanza o di Bregentz nella Svevia.

— di Walchensee, il Wurm-see ecc. nella Baviera.

— di Czirnitz nella Carniola.

**Qual' è il Governo?**

Monarchico, Aristo-Democratico. La Monarchia comprende l' Imperatore: l' Aristocrazia nel Collegio degli Elettori e de' Principi. E la Democrazia nelle Città Libere.

*Qual è la Religione?*

La Cattolica, la Luterana, e la Calvinista; ciascuna delle quali è dominante in alcuni Stati d'Alemagna.

Gli Ebrei, ed alcune altre Sette vi sono tollerate.

*Quali sono le principali produzioni?*

Consistono generalmente in miniere d'argento, piombo, ferro, rame, sale mercurio, zolfo, allume, marmi, pietre preziose, biade, lino, zaffarano; e vi si fa gran commercio di cavalli assai stimati, e di squisiti vini.

*Quanto estendesi?*

In lunghezza 710. miglia italiane.

In larghezza 527.

La sua Superficie è di 74. mila e 580. miglia quadrate.

*La Popolazione?*

La Popolazione dell'Alemagna, non compresa la Boemia e senza la Prussia, ed il Reno presi per confini è valutata 23. milioni circa d'abitanti.

---

## LEZIONE X.

### Del REGNO DI BOEMIA.

---

*Dove confina il Regno di Boemia?*

Confina, unito alle sue adjacenze, al Nord colla Sassonia ed il Brandeburgo.

all'Est colla Polonia e l'Ungheria.

al Sud coll'Austria e la Baviera.

all'Ovest col Palatinato di Baviera e la Franconia.

Co-

## 68 *EUROPA Alemagna Boemia* :

*Come si divide?*

In quattro parti,  
cioè :

	<i>Capitali</i>	<i>Abitanti</i>
Boemia Propria . . . .	<i>PRAGA</i> . .	74. m.
Moravia Marchesato . .	<i>Olmuz</i> . .	11. m.
Slesia Ducato . . . . .	<i>Breslavia</i> .	51. m.
Lusazia Marchesato, ora unito all'Alta Sassonia.		

*Quali sono i Monti della Boemia?*

E' circondata da una catena di Montagne e ne ha molte nell' interno, le principali però sono:

Le Montagne de' Giganti, che sono tra la Boemia e la Slesia.

*Li Fiumi principali quali sono?*

L' Elba, che ha la sua origine nelle parti settentrionali della Boemia, e perdesi nel Mar Germanico.

L' Oder, che ha il suo principio nella Moravia e sbocca nel Mar Baltico.

Il Moldava, e l' Eger.

*Qual è il Governo?*

Monarchico. Gli Stati del Paese composti da' Vescovi, Principi, Cavalieri, e Deputati delle Città si radunano una volta all'anno. Il Re è il primo Elettor Secolare dell' Impero. Il Regno è ereditario nella Casa d' Austria.

*La Religione?*

La Cattolica è la dominante, ma vi sono tollerati i Protestanti senza avere però il libero esercizio della lor Religione.

*Le Produzioni?*

Stagno, rame, ferro, piombo, mercurio, zolfo, allume, marmo, pietre preziose, biade, lino, e zaffarano.

*Qual è la sua estensione?*

In lunghezza 477. miglia italiane.

In larghezza 311.

*La*

*La Popolazione?*

Vengono dati alla *Boemia*, alla *Moravia*, alla *Slèsia*,

Secondo <i>Schloezer</i>	2,266,000.	1,137,000.	200. mila.
— <i>Hoeck</i>	2,806,000.	1,256,240.	250. mila.
— <i>Guthrie</i>	2,922,000.	1,260,000.	270. mila.

LEZIONE XI.

Dell' **UNGHERIA**,  
e degli **STATI DELL' AUSTRIA**  
SITUATI ALL' EST.

**D**ove confina l' *Ungheria* con gli *Stati dell' Austria* situati all' *Est*?

Confinano al Nord con la *Polonia*.

all' *Est* con la *Turchia Europea*.

al Sud col *Golfo di Venezia* e la *Turchia*.

all' *Ovest* con l' *Alemagna*.

Come si divide?

In due parti, cioè.

	Capitali	Abitanti
Ungheria suddivisa in		
Alta.	<i>Presburgo</i>	27. m.
Bassa	<i>BUDA</i>	20. m.
Stati Annessi, cioè:		
<i>Transilvania</i>	<i>Hermanstadt</i>	17. m.
<i>Schiavonia</i>	<i>Possega</i>	
<i>Croazia</i>	<i>Zagrab.</i>	
<i>Dalmazia</i> } <i>Austriaca</i>	<i>Segna</i>	
} <i>ex-Veneta</i>	<i>Zara</i>	6. m.
<i>Bukowina</i>	<i>Czerbowicz</i>	
<i>Gallizja</i> } <i>Orientale</i>	porzione <i>Lemberg</i>	25. m.
} <i>Occidentale</i>	della <i>Polonia Cracovia</i>	16. m.



## 70 EUROPA Ungheria ecc.

*Quali sono i Monti?*

I principali sono i Krapack, i quali verso il Nord separano l'Ungheria dalla Polonia.

*Quali i Fiumi principali?*

Danubio, che la divide in due parti.

Morava, Wag }  
Gran, Teisse } che vi scorrono dal Nord al Sud.

Drava }  
Sava . } rinchiudono la Schiavonia, e si perdono nel Danubio.

*Vi sono de' Laghi?*

Quattro ne' Monti Krapack, fra' quali si distinguono:

Il Lago Palaton }  
—— Felso . } nell'Ungheria.

*Qual'è il Governo?*

Monarchico. Gli Stati del Paese non hanno più l'autorità di cui godeano anticamente, quantunque abbiano conservati diversi privilegi, come quello di dare il lor consenso per stabilire le imposizioni.

*Qual'è la Religione?*

La dominante è la Cattolica; vi è con tutto ciò un gran numero di Protestanti e di Cristiani Greci.

*Le sue produzioni?*

Miniere d'oro e d'argento; biade, pascoli, cavalli e sopra tutto vini delicati, fra' quali trovasi il rinomato vino di Tokai.

*L'estensione?*

In lunghezza 600. miglia italiane.

In larghezza 540.

*La Popolazione?*

L'Ungheria fa 7. milioni d'abitanti col Bannato di Temisvar, che ne contiene 450. mila.

L'Illirio . . . 1. milione e 285. mila.

La Transilvania 1. milione e 445. mila.

Le Gallizie . . . 3. milioni e 225. mila.

La Monarchia Austriaca ha una superficie di 150. mila miglia quadrate, col partaggio definitivo della Polonia del 1795.

Ed ha una Popolazione di 25. milioni d'abitanti.

## LEZIONE XII.

### Della POLONIA.

**D**ove confinava la Polonia?

Confinava al Nord colla Livonia, la Russia e Baltico.

all' Est colla Russia.

al Sud coll' Ungheria, colla piccola Tartaria, e colla Turchia Europea.

all'Ovest con l' Alemagna.

Come dividevasi?

In due gran parti, cioè:

Regno di Polonia, e

Gran Ducato di Lituania.

Qual è la suddivisione di queste due parti?

In otto altre, quattro il Regno di Polonia e quattro la Lituania, cioè:

#### Il Regno di Polonia

	Capitali	Abitanti	Appartenenza
In Gran Polonia . . .	Varsovia . . .	66. m.	alla Prussia .
Piccola Polonia . . .	CRACOVIA . . .	16. m.	} all'Austria .
Russia Rossa o Nera . . .	Leopoli . . .	. . .	
Prussia {	Reale e . . .	Danzica . . .	} alla Prussia .
	Ducate . . .	Konigsberg . . .	

#### La Lituania

In Lituania Propria . . .	Wilna . . .	20. m.	} alla Russia eccettuata la parte meridionale del Palat. di Troki che spetta alla Prussia .
Picc. Russia Bianca . . .	Novogrodeck . . .	. . .	
Samogizia . . .	Rosienno . . .	. . .	
Curlandia in Livonia . . .	Mittau . . .	18. m.	

**Quali sono i Fiumi principali?**

La Vistola, che sorge nella Slesia, e perdesi nel Baltico.

Il Niester al Sud, che separa la Podolia dalla Moldavia, e gettasi nel Mar Nero.

Il Nieper o Boristene, che sorge in Russia nel Governo di Smolensko, e perdesi nel Mar Nero.

Il Bog, sorge nella Podolia, e perdesi nel suddetto Mare.

Il Niemen, che bagna la Lituania e la Prussia, e si getta nel Golfo di Danzica.

**Quali sono i Laghi?**

Gopto nel Palatinato di Brzescie.

Birals o Lago Bianco.

**Qual è il Governo?**

Prima del partaggio definitivo del 1795. era Regio, ma elettivo e dipendente dal Senato.

**La Religione?**

Cattolica.

**Di che abbonda?**

Di mele, cera, cervi e capriuoli, ed ha miniere di vitriolo, di sale, e di ambra.

**L'estensione?**

In lunghezza 720. miglia

In larghezza 645.

La Superficie è di 53. mila e 598, miglia quadrate.

**La Popolazione?**

Si ha stimato, dice Guthrie, che la Polonia, e la Lituania contenessero 14. milioni d'abitanti; di fatto, se si considera, che questa nazione non ha colonie; che di tratto in tratto ella è stata lungamente in pace, forse non si troverà questo calcolo esagerato. Ma dopo la divisione e lo smembramento di questo Paese nel 1772., si crede, che il numero degli abitanti della Polonia non sorpassi li 9. milioni, fra' quali si contano 600. mila Ebrei.

Questa parte d' Europa è stata in tre partaggi divisa tra le Potenze confinanti. Le provincie di cui la Russia s'è impadronita, sono le più estese; l'Austria s'è appropriata le più popolate; e la Prussia le più commercianti.

## LEZIONE XV.

### Degli STATI DI PRUSSIA.

**D**ove confina la Prussia?

Confina al Nord col Baltico e colla Polonia.  
 al Sud co' Possedimenti della Casa d'Austria.  
 all'Est con la Russia.  
 all'Ovest coll'Alemagna e col Baltico.

Come divideasi?

In Prussia Ducale, o Regno di Prussia, od Orientale.  
 In Prussia Polacca, o Reale, od Occidentale.

Quali sono le parti della Prussia Ducale?

	<i>Capitali</i>	<i>Abitanti</i>
	~~~~~	~~~~~
Il Circolo di Samland . . .	<i>Konigsberg</i> . . .	53. m.
———— di Natangen . . .	<i>Brandeburgo</i> . . .	7. m.
———— di Hokerland . . .	<i>Holland</i> . . .	3. m.

Quali le parti della Prussia Polacca?

La Piccola Pomerania . . .	<i>Danzica</i> . . .	4. m.
Il Territorio di Culm . . .	<i>Culm</i> . . .	4. m.
———— di Marienburgo	<i>Marienburgo</i>	5. m.
———— di Notez.		

Com'è stata divisa posteriormente?

Conforme il Trattato de' confini del 1797. la nuova Divisione * è in nove Dipartimenti, cioè:

Prus-

* Riportata da *Guthrie* appoggiato a *Sorjmann* Geografo dell'Accademia delle Scienze di Berlino e Segretario privato.

Regioni	Dipartimenti	Capitali	Abitanti
Prussia Orientale	Aleman . . .	Konigsberg	53. m.
	Lituania . . .	Gumbianen	5. m.
Prussia Occident.	Prussia Occident.	Marien Werden	3. m.
	Distr. della Netze	Bromberg	4. m.
Prussia Meridion.	Posnanja . . .	Posen . . .	10. m.
	Kalisk . . .	Kalisk . . .	2. m.
Nuova Prussia Or.	Varsovia . . .	Varsovia . . .	88. m.
	Bialistock . . .	Bialistock . . .	
	Ploczko . . .	Plocz . . .	

Quali sono gli Stati che questo Re possiede fuori della Prussia?

	Capitali	Abitanti	
La Pomerania Orientale.	Stettin .	17. m.	} nell'Alta Sassonia.
La Nuova Marca . . .	Custrin .	3. m.	
La Marca Elettorale . .	BERLINO	164. m.	
Parte della Bassa Lusazia .	Cotbus .	5. m.	
Il Territorio di Erfort e tutti gli altri Possedimenti Magonzesi nella Turingia	Erfort .	16. m.	
L'Abbadia di Quedlinburgo			
La Città di	Nordhausen	10. m.	
Il Ducato di Magdeburgo	Magdeburgo	30. m.	
Il Princip. di Halberstadt	Halberstadt	13. m.	
Il Vescov. d'Hildesheim	Hildesheim	12. m.	
L'Eichsfeld			} nella Bassa Sassa.
La Città di	Mulhausen	5. m.	
La Città di	Goslar .	6. m.	
La parte Magonzese soggetta alla Città di	Tresfort		nell'Alto Reno .

Capitali Abitanti



La Contea di Glatz . . .	Glatz . . .	6. m.	nella Boemia.
Il Ducato di Slesia . . .	Breslavia	57. m.	nella Slesia.
La Provincia di Minden	Minden . . .	2. m.	} nella Vestfalia.
La Contea Ravensberg .	Ravensberg	4. m.	
— di Lingen	Lingen . . .	2. m.	
— di Teklemburg . . .	Teklemburgo	2. m.	
Parte del Ducato di Cleves	Cleves . . .	1. m.	
Contea della Märck . . .	Ham	2. m.	
L'Ost-Frisia	Embden . . .	7. m.	
Il Vescov. di Paderborn	Paderborn	12. m.	
L'Abbadia di Hervoeden			
— di Elten			
— di Essen			
— di Werden			
— di Coppenberg . . .			
Parte del Vesc. di Munster con la Città	Munster . . .	25. m.	
Il Margraviato di Bareuth	Bareuth . . .	9. m.	} nell'a Franconia.
— di Anspach	Anspach . . .	15. m.	
Il Principato di Neuchatel e Valengin	Neuchatel	6. m.	nella Svizzera.

Quali sono i Fiumi principali?

La Vistola, che si getta nel Golfo di Danzica.

Il Pregel alla cui imboccatura è Königsberg.

Il Niemen, che si getta nel mare suddetto.

Quali i Laghi?

Di Spirding .

D' Angerburg.

Di Rein .

Di Drausen, ed a'tri molti.

Qua-

Qual è il Governo?

Monarchico e Militare.

La Religione?

Le dominanti sono la Luterana, e la Calvinista, ma vi si tollerano gli Anabattisti e molte altre Sette, come pure i Cattolici.

Di che abbonda?

Di legne, grani, lane, canape e lino. Vi si trovano cavalli, capre, cervi, daini, volpi e dell'altre bestie selvagge. I fiumi ed i laghi danno molti pesci; e trovasi l'ambra gialla sulle coste del Baltico.

La Popolazione?

Viene valutata la sua Popolazione a 9. milioni e 500. mila, senza le divisioni della Polonia del 1793. e 1795. colle quali ha acquistato altri 2. milioni d'abitanti.

Secondo *Mentel* e *Malte Brun* la Popolazione attuale di questa Monarchia è di 8. milioni e 980. mila abitanti. E li sembra che all'epoca di Maggio 1803. si possa con qualche verosimiglianza fissare a 9. milioni e 100. mila abitanti.

LEZIONE XIV.

Del PORTOGALLO.

Dove confina il Regno del Portogallo?

Confina al Nord ed all' Est con la Spagna.

al Sud ed all' Ovest con l' Oceano Atlantico.

Come dividesi?

In sei Provincie,
cioè:

	<i>Capitali</i>	<i>Abitanti</i>	
Entro Minho e Douro	Braga . .	12. m.	}
Tra-los-Montes . . .	Braganza	3. m.	
Beira	Coimbra .	12. m.	}
Estremadura Portoghese	LISBONA .	180. m.	
Alentejo	Evora . .	12. m.	}
Regno d' Algarvia .	Tavira . .	5. m.	

Quali sono le Isole, e quali i Capi?

Ie quattro Isole Barlinghe, vicine all' Estremadura.

la Capo Rocca al Nord del Tage.

— Espichel al Sud dello stesso Fiume.

— S. Vincenzo } nell' Algarvia .

— S. Marta . }

Quali sono i Possedimenti fuori dell' Europa?

Nell' America Meridionale } Il Brasile, che conta 30. mila abitanti,
Parte del Paraguai .

Nell' Africa	}	Il Regno di Sofala . .	}	sulla costa Or.
		----- di Melinde . .		
		----- di Mapungo . .		
		Le Isole Azore		
		L' Isola di Madera, e. Mozambico		
		----- del Capo-Verde ----- di S. Tommaso		
Cacongo } Loanda }	nel Congo .			
Nell' Asia	}	Goa , Diu , e Macao	}	vi si contano 50. mila abit.

Quali le Baje o Golfi principali?

La Baja di Setubal .

----- di Lagos .

Quali sono le Montagne?

La Sierra di Caldetraon tra l' Alentejo e l' Algarvia .

----- d' Amarao nella Proviacia di Tra-los-Montes .

Quali sono i Fiumi?

Il Minho, il Douro }
Il Tago, la Guadiana } che nascono nella Spagna .

Qual è il Governo?

Monarchico, ed Ereditario .

La Religione?

La Cattolica Romana è la sola dominante; a titolo però di commercio vi sono tollerati gli Ebrei .

Di che abbonda?

Di frutti squisiti; fra gli altri gli aranci, ed i vini sono delicatissimi . Abbonda di sale, di cavalli assai stimati, e vi si trovano miniere di ferro e di stagno .

Quanto estendesi?

In lunghezza 375. miglia italiane .

In larghezza 171 .

La Superficie è di 10. mila 665. miglia quadrate .

La Popolazione?

Secondo i calcoli più esatti vi si contano 2. milioni 980. mila abitanti .

E quella delle Colonie 791. mila .

LE-

LEZIONE XV.

Della SPAGNA.

Dove confina la Spagna?

Confina al Nord con l'Oceano Occident. e colla Francia:
 all' Est } col Mediterraneo.
 al Sud }
 all' Ovest col Portogallo. e coll' Oceano Occident.

Come dividesi?

In quattordici parti oltre le Isole, cioè:

	Capitali	Abitanti	
Galizia	Compostella .		} Settentrionale.
Asturia	Oviedo	7. m.	
Leon	Leon		
Biscaglia	Bilbao	13. m.	
Navarra	Pamplona	11. m.	
Castiglia Vecchia	Burgos	10. m.	
Aragona	Sarragosa	36. m.	
Catalogna	Barcellona	94. m.	} Meridionale.
Castiglia Nuova .	MADRID	147. m.	
Estremadura . . .	Badajoz		
Valenza	Valenza	60. m.	
Murcia	Murcia	44. m.	
Granata	Granata	52. m.	
Andalusia	Siviglia	120. m.	

Qua-

80 EUROPA Spagna.

Quali sono le Isole?

Capitali

Le Baleari	}	Majorica, che ha 135. m. abit.	Palma.
		Minorica. 28. m.	Cittadella.
Le Pitiusè	}	Ivica 13. m.	Ivica.
		Formentèra.	

Quali sono i Possedimenti fuori dell' Europa?

La Spagna possiede la migliore e più gran parte dell' America, cioè:

Il Messico	}	al Nord.
Le Isole di Cuba, Porto Ricco ecc.		
La maggior parte della Terra Ferma		
Il Perù	}	al Sud.
Il Chili		
Parte del Paraguai		
Varie Piazze nell' Africa.		
Le Isole Filippine	}	all' estremità dell' Asia.
——— Marianne		

Quali le Montagne?

1 Pirenei, che separano la Spagna dalla Francia.

Le Montagne di Santillano, che si estendono in lungo al Nord della Spagna.

La Sierra Molina sui confini dell' Andalusia.

——— d' Urbion, ch' è presso a poco nel mezzo della Spagna.

La Sierra Nevada, che s' estende lungo i confini di Granata.

Quali sono i Fiumi?

L' Ebro, che sbocca nel Mediterraneo.

Il Minho	}	che sboccano nel Mare Occidentale.
Il Douro		
Il Tago		
La Guadiana		
Il Guadalquivir		

Qua

Quali sono i Golfi, o Baje?

- Quel di Biscaglia.
- di Cadice.
- d' Alicante.
- di Cartagena .

Quali i Capi?

- | | | |
|----------------|---|----------------------------|
| Capo di Pusson | } | nell' Oceano Occidentale . |
| — Ortegal | | |
| — Finisterre | | |
| — di Gatta | | |
| — di Palos | } | nel Mediterraneo . |
| — Martino | | |
| — di Creus | | |

Qual è il Governo?

Monarchio, ed è formato di dodici Consigli tra i quali si dividono i differenti rami dell' amministrazione . La Corona è ereditaria anche alle Figlie in mancanza di Figli maschj .

Qual è la Religione?

La Cattolica Romana, e tutte le altre vi son proibite .

Di che abbonda?

Di squisiti vini, di frutti d' ogni genere, di lane le più belle dell' Europa, d' olio, e di seta . Questo paese sarebbe assai più fertile, se fosse popolato in proporzione della sua estensione, e se gli abitanti fossero più amici della fatica .

Quanto estendesì?

In lunghezza 720. miglia italiane .

In larghezza 531 .

La superficie è di 50. mila 235. miglia italiane .

La Popolazione?

Da una enumerazione pubblicata per ordine del Governo nel 1787. è portata la popolazione a 10. milioni e 268. mila abitanti .

Mentel e Brun vogliono che al presente arrivi da' 10. agli 11. milioni .

LEZIONE XVI.
Dell' I T A L I A .

Dove confina l'Italia?

Confina al Nord con le Alpi, che la dividono dalla Svizzera e dall'Alemagna.

all' Est col Mare Adriatico o Golfo di Venezia .

al Sud col Mar Jonio e col Mediterraneo .

all' Ovest colla Francia e col Mediterraneo .

Come si divide?

In due gran Parti, cioè :

Terra Ferma, e questa in	}	Settentrionale. di Mezzo, e Meridionale.
Ed Isole nel Mediterraneo.		

Quali Stati abbracciano le tre parti della Terra Ferma secondo l'antica divisione, e qual è la loro Popolazione?

La Savoia	380,000.	}	Settentrionale anticamente <i>Gallia Cisalpina.</i> che divisa per mezzo del Po da Levante a Ponente fu distinta in <i>Cispadana</i> e <i>Traspadana</i> poi in <i>Lombardia</i> .	
Il Piemonte	} 2,250,000.			
Il Monferrato				
La Repubblica di Genova	450,000.			
Il Ducato di Milano	1,104,000.			
— di Mantova	170,000.			
— di Modena	454,000.			
— di Parma, Piac. e Guastalla	420,000.			
Lo Stato Veneto	} da Terra			1,500,000.
	} da Mare			1,000,000.

Sta-

Popolazione

Lo Stato della Chiesa	2,500,000.	} di Mezzo.
Il Gran Ducato di Toscana	900,000.	
La Repubblica di Lucca	120,000.	
— di S. Marino	5,000.	
Il Regno di Napoli	4,000,000.	} Meridionale.

Quali sono le Isole?

L'Isola di Sicilia	1,262,000.	} Meridionale.
Le Isole di Lipari	22,000.	
L'Isola di Malta	160,000.	} nel Mediterr.
— di Sardegna	273,000.	
— di Corsica	120,000.	
— d'Elba	8,000.	
— Capraja	3,000.	
— Procida	4,000.	
— Ischia	} nel Mar di Toscana.
— Capri	

Le piccole Isole	Gorgona	} nel Mar di Toscana.	
	Pianosa		
	Giglio		900.
	Gianuti ecc.

Come si divide ciascuno degli Stati d'Italia, ed a chi appartienè presentemente?

Capitali Abitanti Apparten.

La Savoja dividasi in	Duc. di Savoja .	Chambery	11. m.	} alla Francia
	Co. di Tarantasia	Monstiers	4. m.	
	— di Morienna	S. Gio. di Morien.	.	
	Duc. Ginevrese	Annecy	4. m.	
	— di Chablais	Thonon	7. m.	
	Bar. di Fossigny	Bonneville	1. m.	



Capitali Abitanti Apparten.

	Capitali	Abitanti	Apparten.
Il Piemonte	Piemonte pr.	TORINO	78. m.
	March. di Susa	Susa.	2. m.
	— d' Ivrea.	Ivrea	. . .
	— di Saluzzo	Saluzzo	10. m.
	Co. d' Asti	Asti	2. m.
	Cannavese	Ivrea	. . .
	Ducato d' Aosta	Aosta	. . .
Il Monferrato	Sign. di Vercelli	Vercelli	20. m.
	Co. di Nizza	Nizza	12. m.
	Territ. di Casale	Casale	5. m.
	— di Trino	Trino	. . .
	— di Alba	Alba	6. m.
Il Ducato di Milano	— di Acqui	Acqui	6. m.
	— di Spingo	Spingo	. . .
	<i>Fu del Re Sardo</i>		
	Alessandrino	Alessand.	12. m.
	Tortonese	Tortona	8. m.
Il Ducato di Milano	Pavese Merid.	Voghera	10. m.
	Lomellina	Valenza	. . .
	Vigevanasco	Vigevano	. . .
	Valli di Sesia	Varallo	. . .
	Terr. di Bobbio	Bobbio	. . .
Novarese	Novara	20. m.	
C. d' Anghiera	Anghiera	. . .	
<i>Fu Austriaco</i>			
Il Ducato di Milano	Milanese pr.	MILANO	130. m.
	Pavese Settentr.	Pavia	20. m.
	Comasco	Como	15. m.
	Lodigiano	Lodi	8. m.
	Cremonese	Cremona	22. m.

Uniti
alla Francia
e divisa
co' seguenti
Dipartimenti

Dora .
Po .
Marengo .
Sesia .
Stura .
Tanaro .

alla
Rep. Italiana

	Capitali	Abitanti	Apparten.
Il Geno- vesato	Riviera di Pon.	GENOVA . 80. m.	} alla Rep. Ligure
	— di Levante	Savona . . .	
		Chiavari . . .	
		Sarzana . . .	
Il Ducato di Parma	Duc. di Parma	PARMA 30. m.	} alla Francia
	— di Piacenza	Piacenza 24. m.	
	— di Guastalla	Guastalla 5. m.	
	Stato di Busseto	Busseto . . .	
	Valle di Taro	Borgo-Taro . . .	
Il Ducato di Modena	Duc. di Modena pr.	MODENA 20. m.	} alla Rep. Italiana
	— di Reggio	Reggio . 16. m.	
	— di Mirandola	Mirandola 10. m.	
	Co. di Novellara	Novellara 2. m.	
Il Ducato di Mantova	Duc. di Mantova	Mantova 21. m.	} alla Rep. Italiana
	— di Sabioneta	Sabioneta 2. m.	
	Pr. di Bozzolo	Bozzolo . 3. m.	
	— di Castiglione	Castiglione 5. m.	
	— di Solferino	Solferino . . .	
Lo Stato Veneto	Dogado . . .	VENEZIA 150. m.	} Stati Veneti Imperiali
	Marca Trivigiana	Treviso . 13. m.	
	Friuli	Udine . . 15. m.	
	L' Istria	Capo d' Istria 5. m.	
	Lombardia Veneta, cioè:		
	Padovano . .	Padova . 40. m.	} alla Rep. Italiana
	Vicentino . .	Vicenza 26. m.	
	Veronese . Verona	Or. 20. m.	
		Oc. 38. m.	
	Polesine . .	Rovigo . 9. m.	
	Bresciano . .	Brescia . 30. m.	
	Salodiano . .	Salò . . 5. m.	
	Bergamasco .	Bergamo 29. m.	
	Creмасco . .	Crema . 9. m.	

Gran

	Capitali	Abitanti	Apparten.	
Gr. Duc. di Toscana	Fiorentino	Firenze	80. m.	} al Re d'Etruria } alla Francia } alla Rep. Lucca } alla Rep. Italiana } alla Rep. S. Mar.
	Pisano	Pisa	16. m.	
	Senese	Siena	15. m.	
	Val di Magra	Pontremoli		
	Stato de' Presidj	Telemona		
		Orbitello		
	Princ. di Piombino	Piombino		
	Repubb. di Lucca	Lucca	24. m.	
	Massa e Carrara	Massa	15. m.	
	Stato Pontificio	Ferrarese	Ferrara	
Bolognese		Bologna	70. m.	
Romagna		Ravenna	14. m.	
Rep. di S. Marino		S. Marino		
Ducato d' Urbino		Urbino		
Marca d' Ancona		Ancona	20. m.	
Duc. di Spoleto		Spoleto		
Perugino		Perugia	15. m.	
Orvietano		Orvieto		
Duc. di Castro		Castro		
Il Regno di Napoli	Patrim. di S. Pietro	Viterbo	10. m.	} al Re delle due Sicilie.
	Sabina	Magliano		
	Campagna di Roma	ROMA	163. m.	
	<i>Terra di Lavoro</i>			
	Terra di lavoro pr.	NAPOLI	400. m.	
	Princ. Citeriore	Salerno	20. m.	
	— Ulteriore	Montefusco	10. m.	
	<i>Abruzzo</i>			
	Abruzzo Citeriore	Chieti		
	— Ulteriore	Aquila	16. m.	
Contea di Molise	Isernia			

Capitali Abitanti Apparten.

Puglia

Capitanara . . .	Lucera .	13. m.
Terra di Bari . .	Bari .	
— di Otranto	Lecce .	30. m.

Calabria

Calabria Citeriore	Cosenza	14. m.
— Ulteriore	Catanzero	12. m.
Basilicata . . .	Matera .	12. m.

segue
Il Regno
di Napoli

Isole d' Italia

Sicilia, che si divide in

Val di Noto . .	Noto .	10. m.
— di Mazara .	Palermo	149. m.
— di Demona	Messina .	24. m.

Altre Isole

Isole Liparee, cioè :

Lipari . .	Lipari	
Vulcano . . .		
Stromboli . . .		
Salina . . .		
Alicuri . . .		
Filicuri . . .		
Panaria . . .		
Basiluzza . . .		
Lisca Bianca . .		
Datogli . . .		

tra Napoli
e Sicilia

al suddest
Re delle due
Sicilie .

Ustica o Falconara al Nord di Palermo

Isole Egadi, cioè :

Lavenzo . . .		
Maretimo . . .		
Favagnana . . .		
Pantalasia . . .		
Femine . . .		

all' Ovest
della Sicilia

Apparten.

Ponza	}	nel Golfo di Gaeta.	} al ridotto Re delle due Sicilie .
Palmaria			
S. Maria			
Ventotiene			
Ischia	}	nel Golfo di Napoli.	
Procida			
Capri			
Dino	}	nel Golfo di Policastro.	
Cirella			
Tremiti	}	nell' Adriatico.	
Caprara			
S. Domino			
S. Nicolò			
Corsica , la cui Capitale è <i>Bastia</i>			} alla Francia .
Ciraglia	la più al Nord.		
Centuria	}	sulla costa Occident. di Corsica .	
Rossa			
Spano			
Gargano			
Sanguinare			
Corsi	}	sulla costa Orient.	
Cavalli			
Elba , o Cosmopoli	}	nel Mar Toscano.	
Capraja			
Gorgogna	}	nel Mar Toscano	} al Re d'Etruria .
Pianosa			
Giglio			
Gianuti			

Sar-

Sardegna . Cagliari

Asinara	}	sulla costa Occident. di Sardegna .
S. Pietro		
S. Antioco		
Toro		

Maddalena	}	sulla costa Orient. di Sardegna .	} al Re Sardo
Cabrera			
Tavolaro			
Boscuda			
Ogliastro			
Serpentera			
Cortelazzo			

Malta . La Valetta

Gozo	}	tra la Sicilia . . . } e l' Africa . . . }	} all'Ord. Geros.
Comino			
Folsolo o Falfala			

Quali sono le Montagne più considerabili?

Le Alpi, che dividono l'Italia dalla Francia e dall'Alemagna, la cui lunghezza è di circa 700. miglia; cominciano dalla bocca del Fiume Varo nella Contea di Nizza, e dirigendosi dal Mezzodì al Settentrione con molti giri irregolari, a certo punto si mettono dal Ponente al Levante e vanno a finire presso il Fiume Arsia nell'Istria sul Mare Adriatico.

Queste si succedono nell'ordine seguente:

- Marittime* dal Mare al Monte Viso,
- Cozie* dal Monte Viso al Monte-Cenisio.
- Graje* dal Monte-Cenisio al Gran S. Bernardo.
- Pennine* dal Gran S. Bernardo al S. Gottardo.
- Retiche* dal S. Gottardo alle Sorgenti della Drava.
- Noriche* dalla Drava a Lisonzo.
- Carniche* da Lisonzo al Monte Orca.
- Giulie, o Pannonie, o Venete*, dall'Orca al Mare.

Vi

Vi si distinguono nelle Alpi:

- Il Monte Bianco, o Monte Maledetto in Savoja, nel Fossignè, il quale è il più alto Monte d'Europa.
- Il Monte Cenisio.
- Il Piccolo S. Bernardo.
- Il Gran S. Bernardo.

Gli Appennini si staccano dalle Alpi Marittime nella vicinanza del Monte Appio nel Genovesato, attraversano tutta l'Italia, dividendola quasi in due parti eguali sino all'estremità più meridionale del Regno di Napoli.

Il Monte Vesuvio, o sia Somma, nella Terra di Lavoro, L'Etna, o Mongibello in Sicilia.

Quali sono gli Stretti?

Di Bonifacio tra la Corsica e la Sardegna.

Di Messina tra la Sicilia e l'Italia, presso il quale sono rimarcabili Cariddi e Scilla, luoghi pericolosi per li Naviganti.

Quali i Capi principali?

Il Capo della Minerva tra il Golfo di Napoli e quel di Salerno.

— di Palinuro tra il Golfo di Salerno e quel di Policastro.

— Spartivento . . } tra lo Stretto di Messina ed il
— di Stilo . . } Golfo di Squillace.

— Rizzuto . . } tra il Golfo di Squillace e quel
— delle Colonne } di Taranto.

— di Leuca . . } tra il Golfo di Taranto e quel
— d'Orso . . } di Manfredonia.

— d'Orlando . . }
— di Galio . . } sulle coste della Sicilia.
— Ferro . . . }
— Passaro : . }

Ara-

Il Capo Aragonese

- Valcon . .
 - Tavolaro . .
 - Carbonaro . .
 - Comino . .
- } sulle Coste della Sardegna .

— Corso sulla costa Occidentale della Corsica .

Quali sono i Golfi?

Il Golfo di Venezia .

- di Genova . .
 - di Gaeta . .
 - di Napoli . .
- } all' Ovest del Regno di Napoli .

- di Salerno . .
 - di Policastro . .
 - di S. Eufemia . .
- } all' Ovest del Regno suddetto .

— di Squillace al Sud Est del suddetto .

- di Taranto . .
 - di Manfredonia . .
- } all' Est del suddetto .

- di S. Fiorenzo . .
 - d' Ajaccio . .
- } sulla costa Occid. della Corsica .

- d' Alghieri . .
 - d' Oristagni . .
 - di Palma . .
- } sulla costa Occid. della Sardegna .

Quali sono i Fiumi?

Tutti Fiumi , che bagnano i Paesi dell' Italia hanno origine nelle Alpi e negli Appennini ; i principali sono :

Il Po , che è il maggiore , chiamato dagli Antichi il Re de' Fiumi , nasce al Monte Viso nel Piemonte e dopo aver attraversato una estensione di Paese di 300. miglia , entra per sette bocche nell' Adriatico .

L' Adige , che sorge nel Tirolo e scaricasi nel Golfo di Venezia .

Il Tevere .
 L'Arno . .
 Il Garigliano
 Il Volturno

} sorgono negli Appennini e sboccano nel Mediterraneo .

Il Tanaro ,
 La Trebbia
 Il Parma .
 Il Taro . .
 Il Lenza .
 Il Secchia .
 Il Panaro , e
 Il Reno .

} sono i Fiumi maggiori che mettono poi foce nel Po venendo dagli Appennini.

La Stura .
 L'Orco .
 La Dora .
 La Sesia .
 Il Tesino .
 Il Lambro
 L'Adda ,
 L'Ollio , e
 Il Mincio

} sono altri Fiumi che sboccano pure nel Po scendendo dalle Alpi .

Quali sono i Laghi più notabili?

Il Lago di Como , o *Lario* . } nel Milanese .
 — Maggiore , o *Verbano* . }
 — di Garda , o *Benaco* nel Bresciano .
 — di Perugia o *Trasimeno* nel Perugino .
 — d'Iseo , o *Sebino* nel Bresciano .
 — di Lugano , o *Cerisio* nel Paese Svizzero in Italia .
 — di Bolsena , o *Volsinio* nell'Orvietano .
 — di Bracciano , o *Sabazio* nel Patrimonio di S. Pietro .
 — di Piediluco , o *Velino* nell'Umbria .
 — di Celano , o *Ficino* nell'Abruzzo .
 — d'Agnano , o *Piscina Lucullo* }
 — di Trepergola , o d'*Averno* } nella Terra di Lavoro .

Quasi

Qual è il Governo?

Democratico nelle Repubbliche.

Monarchico negli altri Stati.

La Religione?

La Cattolica; nessun altro culto vi si permette. Gli Ebrei non vi si tollerano che ne' loro Ghetti.

Di che abbonda?

Di tutto ciò che bisogna per la vita. Si fa grande traffico cogli stranieri di vini, biade, olj, frutti, e sette ben lavorate, e finissime.

L'Italia ha ella delle naturali rarità?

Moltissime, ma prima di tutto convien premettere che il suolo almeno della di lei parte meridionale, per osservazione di valentissimi Naturalisti è tutto vulcanico. Difatti il Vesuvio nel Regno di Napoli, e il Vulcano non lungi da Pietramala fra Bologna e Firenze, e le tante chiare vestigia, che ci restano di molti altri Vulcani estinti comprovano ad evidenza siffatta opinione.

La descrizione esatta di questi naturali fenomeni ci fu replicata da varj eccellenti Scrittori; E qui basterà accennare che il Vesuvio è una montagna molto elevata e di forma semiconica, la quale vomita continuamente un denso fumo, e spesse volte fiamme voluminosissime frammiste di materiali ora calcinati, ed ora vetrificati ed ora in istato di fusione scorrenti qual fluido giù per la pendice, consumandone tutto il combustibile, ed arrivando alcuna fiata senza rappigliarsi sino al mare, che ne è ad una osservabile distanza.

Ne' tempi in cui il Vesuvio non dà le sue maggiori eruzioni, trovansi de' tratti trasversali di questa montagna in una continua ridente primavera.

Il Vulcano di Pietramala non dà ordinariamente che del fumo ed una leggier fiamma visibile soltanto di notte, e soltanto a certa elevatura sopra il suo cratere.

Non

Non molto lungi da qui avvi una fonte chiamata *Acquabuia*, sopra le cui acque, commecchè fredde, serpeggia un'aria, la quale in contatto di una scintilla si accende e infiamma.

Le acque del Lago di Piediluco hanno la proprietà singolare, che un pezzo di legno tenuto in esso si ricuopre d'una buccia di pietra in pochi giorni. Quel che fa credibile un tal fenomeno si è, che la pietra per mezzo di cui sgorga questo lago, si accresce talora di volume in guisa, che è necessario diminuirla collo scarpello, per timore che non si chiuda affatto lo sbocco, talchè il lago ed il fiume che vi passano, non inondino le vicine terre.

I confetti di Tivoli, sono piccioli sassuoli, che si trovano in gran quantità nella strada da Tivoli a Roma: sono di figura simile alle confetture d'ogni sorta, in forma tale, da ingannare chi non ne è prevenuto.

Ne' boschi di Nettuno, città della Campagna di Roma, vedesi un piccolo fonte fra grandi ruine di antichi edificj. L'acqua di esso è sì nociva agli uccelli, che appena ne bevono, subito muojono.

Nella Terra di Lavoro, vicino al lago di Agnano nel territorio di Pozzuolo, si vede una grotta infestata da un vapore mofetico mortale. Quando vi si getta qualche animale restà con tal prestezza affascinato dal vapore, che apparisce morto. Se si cava fuori subito per tuffarlo nel vicino lago d'Averno, pare che tutt' in un tratto si ravvivi. Ne è stato fatto sovente l'esperienza con dei cani, il che ha dato motivo di chiamarsi tal grotta la *Grotta de' Cani*. Gli uomini vi resistono maggior tempo che le bestie; essi se si mettono sulla terra, restan subito soffocati: se stanno ritti, si sentono solamente da principio indebolire ne' piedi, e poi mancare affatto, di manierachè non possono più levarsi di là, se non con grandissimo stento.

Vicino a Pozzuolo, nella medesima provincia, v'è un lago la cui acqua è calda e qualche volta quasi bollente.

te. Dicesi che tutto quel che vi si getta di crudo si cavi subito bell' e cotto. Egli è bensì pericoloso l'accostarvisi, a cagione segnatamente delle fognie sulfuree, che attoniano la riva. La terra non sta salda sotto a' piedi di chi si accosta al lago.

A Pozzuolo medesimo, nel giardino del Vescovo, vi è una caverna sì calda, che quando soffia il vento di mezzo giorno, dicesi non potervi entrare senza pericolo della vita, essendo capace la violenza del calore di soffocare un uomo nell'istante.

Nell' Abruzzo il Lago di Celano gonfia talvolta in guisa; che oltre l'escir da' suoi limiti, occupa anche le colline, dalle quali è circondato: Altre volte all'opposto v'ha sì poca acqua, che si può lavorarne il fondo.

Tutte le foglie, e tutt'i rami d'alberi, che cadono nel Sele picciol fiume del Principato, s'impietriscono o sia s'intonacano di una materia gessosa, senza mutar forma, nè colore.

In vicinanza di Viterbo trovasi una Fontana denominata *Bullicame*, la cui acqua molto rassomigliante alla saponata è sì calda, che dicesi cuocervisi ogni vivanda, che vi si metta, e lasciatavi lungamente resta consumata.

Nel Monastero d'Alta-Comba in Savoia, v'è il fonte *Ammirabile*, il qual scaturisce, e si secca due volte per ora; e quando ripiglia il suo corso, esce di sotto terra con uno strepito che sorprende.

Vicino al Lago di Como, la Fontana di Plinio è parimente celebre dal crescer che fa, e scemare tre volte il giorno.

Anche in Vallalta, vicinanza di Bergamo, trovansi le vestigia d'un antichissimo Vesuvio estinto, osservate dal Cittadino Giovanni Maironi da Ponte, che diè anche la descrizione di alcune Fontane intermittenti, che si trovano nella stessa provincia.

Quan-

Quanto estēdasi l'Italia?

Senza comprendervi le Isole, ha 720. miglia di estensione dal Capo Spartivento in Calabria sino in Savoja .

E 240. miglia da Livorno sino a Ponteba Veneta .

La sua circonferenza è di 1860. miglia .

La sua superficie è di 39. mila, e 724. miglia quadrate .

La Popolazione?

Comunemente si danno all'Italia da 17. a 18. e per sino a 20. milioni d'abitanti .

Potrebbe esser molto più popolata attesa la naturale fertilità del suolo, e la sua situazione adattatissima al traffico. Gli Stati del Re di Napoli, e lo Stato Pontificio sono capaci di maggior numero di abitatori. La Sicilia, la Calabria, la Puglia, le regioni ove furono il Sannio, il Lazio, e l'Umbria, sono per così dire, luoghi deserti in confronto di ciò ch'erano anticamente .



LEZIONE XVII.

Della REPUBBLICA ITALIANA.

Dove confina la Repubblica Italiana poc' anzi detta Cisalpina?

Confina al Nord colla Svizzera, ed il Tirolo.

all' Est col Golfo di Venezia e la parte de' Stati Veneti ceduti all' Austria.

al Sud con la Repubblica Ligure, col Ducato di Parma e colla Toscana.

all' Ovest col Piemonte.

Come divideasi questa Repubblica?

In dodici Dipartimenti.

Quali sono questi Dipartimenti, e quali i Capi-Luoghi dove risiedono i Prefetti?

Dipartimenti	Popolazione	Capi-Luoghi
Agogna . . .	346,213.	Novara.
Alto-Po . . .	361,079.	Cremona.
Basso-Po . . .	227,500.	Ferrara.
Crostolo . . .	179,795.	Reggio.
Lario	371,894.	Como.
Mella	333,625.	Brescia.
Mincio	290,329.	Mantova.
Olona	526,234.	MILANO.
Panaro	200,170.	Modena.
Reno	421,841.	Bologna.
Rubicone . . .	269,573.	Forlì.
Serio	288,997.	Bergame.

Co-

98 *EUROPA Italia Repubbl. Ital.*

Come si possono vedere in un quadro le Città comprese in questa Repubblica, i loro Abitanti, Provincia e Dipartimento in cui trovansi?

<i>Città</i>	<i>Abitanti</i>	<i>Province, e Stati</i>	<i>Dipartim.</i>
Adria	6. m.	<i>Polesine</i>	Basso-Po.
Bergamo	29. m.	<i>Bergamasco ex-Ven.</i>	Serio
Bologna	70. m.	<i>Bolognese</i>	Reno
Brescia	30. m.	<i>Bresciano ex-Ven.</i>	Mella
Carpi	4. m.	<i>Ducato di Modena</i>	Panaro
Cento	4. m.	<i>Ferrarese</i>	Reno
Cesena	<i>Romagna</i>	Rubicone
Chiavenna	12. m.	<i>Grigioni</i>	Lario
Comacchio	<i>Ferrarese</i>	Basso-Po.
Como	15. m.	<i>Ducato di Milano</i>	Lario
Crema	9. m.	<i>Creмасco ex-Ven.</i>	} Alto-Po
Cremona	22. m.	<i>Duc. di Milano</i>	
Faenza	18. m.	<i>Romagna</i>	Rubicone
Ferrara	33. m.	<i>Ferrarese</i>	Basso-Po
Forlì	12. m.	} <i>Romagna</i>	Rubicone
Imola		Reno
Lodi	12. m.	<i>Ducato di Milano</i>	Alto-Po
Mantova	16. m.	<i>Duc. di Mantova</i>	Mincio
Massa di Carrara	15. m.	<i>Ducato di Modena</i>	Crostolo
Milano	132. m.	<i>Ducato di Milano</i>	Olon
Mirandola	10. m.	<i>Duc. di Mirandola</i>	} Panaro
Modena	20. m.	<i>Ducato di Modena</i>	
Mortara	8. m.	<i>Lomellina</i> } <i>Milanese</i> }	} Agogna
Novara	12. m.	<i>Novarese</i> } <i>Sardo</i> }	
Pavia	20. m.	<i>Ducato di Milano</i>	Olon
Ravenna	15. m.	<i>Romagna</i>	Rubicone
Reggio	15. m.	<i>Ducato di Modena</i>	Crostolo
Rimini	14. m.	<i>Romagna</i>	Rubicone
Rovigo	9. m.	<i>Polesine</i>	Basso-Po
Sabbioneta	2. m.	<i>Ducato di Mantova</i>	Mincio
Salò	5. m.	<i>Bresciano ex-Ven.</i>	Mella
Verona Occident.	38. m.	<i>Veronese ex-Ven.</i>	Mincio

Quali sono i Fiumi principali?

Oltre i Fiumi che danno il nome a' Dipartimenti vi si distinguono :

Il Tesino.

L'Adda .

L'Adige :

L'Ollio :

Il Lambro :

Il Brembo , ed altri varj che si omettono avendo già nominati nella Lezione dell' Italia .

Quali sono i Laghi più distinti , ed in quali Dipartimenti ?

Il Lago Maggiore o Verbano

— di Orta

— di Como , o Lario

— di Lecco

— di Biandronè

— di Garda , o Benaco

— d' Idro

— d' Iseo , o Sebino

— di Spinone

— di Arno

} nell' Agogna .

} nel Lario .

} nel Mella .

} nel Serio .

Qual è il Governo?

Democratico Rappresentativo .

La Religione?

La Cattolica Romana è la Religione dello Stato .

Di che abbonda?

Di biade , vini , frutti , lini , risi , olj . Vi ha una quantità di bestiame e quindi abbondanza di scelti formaggi , buttiri e di lane . Le Sete formano uno de' principali oggetti di commercio , e moltissime famiglie vi trovano il loro sostentamento nel lavorarle . Vi sono miniere di ferro , di zolfo , di vitriolo , di gesso e di rame . Vi si trovano varie qualità di marmi e delle acque minerali rinomatissime per uso de' Bagni .

La Popolazione di questa Repubblica ?

E' valutata 3. milioni , 822. mila e 405. abitanti .

L. B.

LEZIONE XVIII.

Della TURCHIA EUROPEA.

Dove confina la Turchia Europea?

Confina al Nord con l'Ungheria e colla Russia.

all'Est col Mar di Marmara e col Mar Nero.

al Sud col Mare Mediterraneo.

all'Ovest col Mare Adriatico.

Come divideasi?

In Turchia Settentrionale, e

In Turchia Meridionale, o Grecia.

Quali sono le parti della Turchia Settentrionale?

	Capitali	Abitanti
La Piccola Tartaria	Bénder	60. m.
La Bessarabia	Oczakow	
La Crimea ora della Russia	Bactheserai	25. m.
La Moldavia	Jassi	50. m.
La Valachia	Tergovicsk	
La Bulgaria	Sofia	70. m.
La Servia	Belgrado	30. m.
La Bosnia	Banjaluca	
La Romania	COSTANTINOPOLI	600. m.
La Croazia	Austriaca Carlstad	
	Turca Fihitz	
	Veneta Zara	6. m.
La Dalmazia	Turca Mostar	
	Ragusea Ragusa	18. m.

Qua-

Quali sono le parti della Turchia Meridionale; o Grecia?

	<i>Capitali</i>	<i>Abitanti</i>
	~~~~~	~~~~~
La Macedonia . . . . .	<i>Salonichi</i> . . . . .	60. m
La Tessaglia, o Jannina . . . . .	<i>Larissa</i> . . . . .	10. m.
L'Albania . . . . .	<i>Scutari</i> . . . . .	
L'Epiro . . . . .	<i>Delfino</i> . . . . .	
La Livadia, o Acaja . . . . .	<i>Livadia</i> . . . . .	
La Morea già Peloponneso. . . . .	<i>Tripolizza</i> . . . . .	30. m.

*Quali sono le Isole principali della Grecia?*

Corfù . . . . .	<i>Corfù</i> . . . . .	47. m.	} nel Mar Jonio; o di Grecia.
S. Maura . . . . .	<i>S. Maura</i> . . . . .	6. m.	
Cefalonia . . . . .	<i>Cefalonia</i> . . . . .	9. m.	
Zante . . . . .	<i>Zante</i> . . . . .		
Cerigo . . . . .	<i>Cerigo</i> . . . . .		} nell' Arcipelago.
Candia . . . . .	<i>Candia</i> . . . . .		
Negroponte . . . . .	<i>Negroponte</i> . . . . .		
Le Isole Cicladi	<i>Andro</i> . . . . .		
— Sporadi	<i>Stalimene</i> . . . . .		

*Qual' è la nuova divisione della Grecia?*

E' divisa in 4. Pachalicki, cioè :

Pachalick di Salonick . . . . .	}	La Macedonia, ove trovasi L'Yamboli, e La Vena.
Pachalick di Jannina . . . . .	}	Tessaglia. Epiro. Albania.
Pachalick d'Egrippo . . . . .	}	Focide. Boezia. Livadia.

Pa-



Pachalick di Tripolizza } La Morea, che comprende  
 La Corinzia,  
 L' Argolide.  
 L' Elide.  
 L' Arcadia.  
 La Laconia,

**Le Montagne?**

Il Monte Athos sopra una Penisola.  
 Il Pindo }  
 L' Olimpo } separano la Tessaglia dall' Epirò.  
 Il Parnaso nell' Acaja,

**Quali sono gl' Istmi?**

L' Istmo di Corinto, che unisce la Morea al restante della Grecia.  
 L' Istmo di Precep, tra il Mar Nero ed il Mare d'Azof, che congiunge la piccola Tartaria con la Crimea.

**Quali sono i Golfi?**

Di Patras }  
 Di Lepanto } che si comunicano al Sud della Livadia,  
 Di Larta } nell' Albania.  
 Di Arcadia }  
 Di Corfù }  
 Di Coron } all' Est della suddetta.  
 Di Colochizia }  
 Di Napoli. }  
 D' Engia } al Sud Est.  
 Di Volo }  
 Di Salonichi }  
 Di Aiomama } all' Est della Macedonia.  
 Di Contessa }

**Quali gl' Stretti?**

Di Negroponte, che separa l' Isola di questo nome dalla Livadia,  
 Di Gallipoli, già Ellesponto . . . } tra la Natolia e la Tur-  
 Di Costantinopoli o Bosforo della Tracia } chia Europea.  
 Di Caffa, già Bosforo Cimmerico, che separa la Crimea  
 dalla Circassia, Qua

*Quali i Capi?*

- |                 |   |               |
|-----------------|---|---------------|
| Il Capo Matapan | } | nella Morsa.  |
| —— Mali         |   |               |
| —— Colonna      | } | nella Grecia. |
| —— S. Giorgio   |   |               |
| —— Pailloùri    |   |               |

*Quali sono i Fiumi?*

- |                                            |   |                                                             |
|--------------------------------------------|---|-------------------------------------------------------------|
| Il Danubio . . .                           | } | nella Turchia Settentrionale de' quali<br>se n' ha parlato. |
| La Sava . . .                              |   |                                                             |
| Il Niester . . .                           |   |                                                             |
| Il Pruth viene dalla Gallizia . . . . .    | } | si gettano<br>nel Danubio.                                  |
| Il Serelli viene dalla Buckovina . . . . . |   |                                                             |
| L' Alutha, traversa tutta la Valachia      |   |                                                             |
| L' Hebro o Mariza nella Romania.           |   |                                                             |
| Il Strymon o Vardar nella Macedonia,       |   |                                                             |
| Il Drino nell' Albania.                    |   |                                                             |
| Il Peneo nella Tessaglia.                  |   |                                                             |
| Il Cefisso tra l' Attico e la Bazzia.      |   |                                                             |
| L' Alfeo nella Morea.                      |   |                                                             |

*I Laghi?*

- Di Rosoura nella Moldavia.
- Di Scutari nell' Albania.
- Di Ochirida tra la Macedonia e l' Albania.
- Stimpfale nella Morea.

*Qual' è il Governo?*

Dispostico. Il Gran Signore è padrone assoluto e indipendente della vita, e delle sostanze de' suoi Sudditi, i quali nascono tutti schiavi, e non possono ereditare senza il di lui consenso.

*Qual' è la Religione?*

La Maomettana; nei paesi soggetti a' Principi Cristiani si professa la Cattolica, e nell' Albania vi sono de' Greci parte Cattolici e parte Scismatici.

**Di**

*Di che abbonda?*

Di vini e d'olj squisiti; vi si fa gran traffico d'uve secche, di fichi, d'amandole, e d'olive; ha delle miniere diverse e de' bellissimi marmi. Li cavalli, le capre, ed altre sorta di bestiami sono d'una grande utilità a quegli abitanti.

*Quanto estendesi?*

In lunghezza 900. miglia italiane.

In larghezza 600.

La superficie è di 102. mila miglia quadrate.

*La Popolazione?*

Se la Turchia (dicono *Metel* e *Brun*) avesse realmente li 50. e per sino 53. milioni di abitanti, che i Geografi gli danno, essa terrebbe su questo rapporto il secondo rango fra gl'Imperj della terra; ma questo numero è esagerato. Non si può, dare dietro i calcoli più favorevoli, a quest'Impero più di 30. milioni circa di abitanti, cioè.

Alla Turchia Europea . 18. milioni.

A quella d'Asia . . . 9.

All' Egitto in Africa . . 2. e mezzo.

## LEZIONE XIX.

## Della REPUBBLICA DELLE SETTE ISOLE.

**D**ove confinano queste Isole?

Confinano . } coll' Adriatico .  
 } col Mar Jonio .  
 } coll' Arcipelago .

Come distinguonsi?

In sette Isole principali ,  
 cioè :

	<i>Capitali</i>	<i>Abitanti</i>
	~~~~~	~~~~~
Corfù già <i>Corcyra</i>	Corfù	47. m.
S. Maura già <i>Leucadia</i>	S. Maura	6. m.
Cefalonia già <i>Cephalenia</i>	Cefalonia	9. m.
Zante già <i>Zacynthus</i>	Zante	2. m.
Cerigo già <i>Citera</i>	Cerigo	
Teaki già <i>Dulichium</i> , o piccola Cefalonia		4. m.
Paxo ed Antipaxo		

In questa Repubblica si contano altre Isole di minor considerazione?

Si annoverano le seguenti:

Fanu e Merlera al Nord di Corfù.

Samathraci con altre cinque al Nord.

Vido e tre Scogli all'Est.

Lagudia e quattro altre al Sud-Ovest.

Megalonisi al Sud della precedente.

Candella, vicina all'Acarnia.

Jotaco, o Jataco, già *Itaca*, patria d'Ulisse, al Nord-Est

della piccola Cefalonia.

Al-

106 *EUROPA Turchia Rep. 7. Isole.*

'Atoco al Sud-Est di Teaki.

Le Gurzolari, cioè le Echinadi degli Antichi, cinque Iso-

lette presso l'imboccatura dell'Aspro Potamo,

Strivali, già *Strophades*, due Isolette.

Cerigetto con Pori, ed altre Isolette,

Qual è il Governo?

Aristocratico-Elettivo. La Repubblica paga un tributo di 75. mila Piastre alla Turchia, e gode la protezione della Russia.

La Religione?

Greca - Scismatica,

Di che abbondano queste Isole?

Di grani, vini, uve, olive, olj, fichi, limoni, melaranci, amandole, cedrati, legumi, lepri, volatili, e di eccellenti falconi; e vi si trovano nell'Isola di Corfù delle Saline di grande considerazione.

Quant' è l'Estensione, la Circonferenza, e la Popolazione?

	in lungh.	largh.	circonf.	Popol.
Corfù.	miglia 70.	. 20.	. 120.	. 50. m.
S. Maura	30.	. 16.	. 48.	. 7. m.
Cefalonìa	50.	. 30.	. 170.	. 60. m.
Zante	24.	. 19.	. 60.	. 30. m.
Cerigo 60.	. 60.	. 9. m.
Teaki, o piccola Cefalonìa 4. m.

Pinkerton fa ascendere la Popolazione delle 7. Isole principali a 170. mila abitanti.

ELEMENTI DI GEOGRAFIA

PARTE TERZA

DELL' ASIA, DELL' AFRICA,
E DELL' AMERICA SEPARATAMENTE,

CAPO I. DELLE PARTI DELL' ASIA.

LEZIONE I.

Della TURCHIA ASIATICA.

Dove confina la Turchia d' Asia?

Confina al Nord col Mar Nero, e colla Tartaria Russa;
all' Est colla Persia.

al Sud coll' Arabia, e col Mar di Levante.

all' Ovest coll' Arcipelago, e col Mar Mediterr.

Come divideasi?

In cinque parti, cioè:

	<i>Capitali</i>	<i>Abitanti</i>
	~~~~~	~~~~~
Natolia, già Asia Minore . . .	<i>Smirne</i> . . .	100. m.
Soria, già Siria . . . . .	<i>Alep</i> . . .	240. m.
Diarbeck, già Mesopotamia . .	<i>Diarbekir</i>	20. m.
Turcomania, già Armenia Mag.	<i>Erzerum</i> .	
Georgia, o Gurgistan . . . . .	<i>Scandar</i> .	

Qua-

Quali sono le Isole principali dipendenti dalla Turchia Asiatica?

	Capitali	Abitanti
Scio, che conta 110. m. abit.	Scio. . . .	30. m.
Cipro . . . . 40. m. . . .	Nicosta . . . .	16. m.
Rodi . . . . 30. m. . . .	Rodi . . . .	
Samò . . . . 12. m. . . .	Samo . . . .	
Metelino già Lesbo . . . .	Metelino . . . .	7. m.

Quali le Montagne?

L' Olimpo, il Tauro, l' Anti-Tauro, il Caucaso, l' Ararat, il Libano, e l' Ermon.

Quali i Capi?

Karèmpi, Jasun, Haromsa.

Li Fiumi, ed i Laghi?

L' Eufrate, il Tigre, l' Oronte, il Meandro, il Sarabat, il Kara, ed il Giordano.

Il Lago Van nella Turcomania.

Qual è il Governo?

Monarchico, dipendendo ogni Provincia del Turco, o della Persia come suddita, o tributaria.

Qual' è la Religione?

Maomettana della Setta d' Omar; ma vi sono in ogni parte delle Chiese Cattoliche, e Scismatiche.

Di che abbonda?

D' ogni sorta di frutti, di bestiami, di preziosi vini. La razza de' cavalli turchi, ed arabi è la migliore d' ogn' altra al mondo; le sorgenti, ed i bagni sono assai medicinali; vi si fa gran traffico di ciambellotti, di marocchini, di galla, e di sapone.

Quant' è l' estensione?

In lunghezza 1320. miglia italiane.

In larghezza 1080.

La sua superficie è di 173. mila, e 670. miglia quadrate.

La Popolazione?

Comeiras, il meno esagerato in confronto degli Autori riportati da *Beaufort*, gli ha dati 8. milioni d' abitanti

*Mentel* gli dà 9. milioni.

LE-

## LEZIONE II.

## Dell' ARABIA,

**D**ove confina l' Arabia?

Confina al Nord con la Siria.

all' Est co' Golfi Persico, e d' Ormus.

al Sud con l' Oceano Indiano.

all' Ovest col Mar Rosso.

Come si divide?

Capitali

In tre parti, cioè:

Arabia Petrea . . . Suez.

Arabia Deserta . . . MECCA.

Arabia Felice. . . Aden.

Quali sono le Montagne principali?

Il Sinai, l' Oreb, nell' Arabia Petrea.

Gabel-el-Ared nell' Arabia Felice.

Quali i Capi?

Capo d' Aden, Fratach, nell' Arabia Felice.

Capo Rasalgate, Mosandon, nell' Arabia Deserta.

Li Fiumi?

L' Eufrate, che bagna le sue frontiere al Nord.

Qual è il Governo?

Ha molti Sovrani, ma dipendenti per la maggior parte, e come sudditi, o come tributarij del Turco, e del Sofi.

Qual' è la Religione?

La Maomettania viene professata in generale; una gran parte degli Arabi del Deserto sono ancora Pagani.

Di che abbonda?

D' incenso, mirra, aloè, ed altri balsami, e profumi; di cera, mele, e del miglior caffè. Gli animali più utili



utili agli Arabi sono i cammelli, ed i dromedarij: nel Regno di Sunnaa, ov'è Moka, v'è la più bella specie di cavalli.

*Quanto estendesi?*

In lunghezza 1575. miglia italiane.

In larghezza 1410.

La sua superficie è di 133. mila, e 340. miglia quadrate.

*Quant' è la Popolazione?*

Vi si contano 12. milioni d'abitanti al più.

### LEZIONE III.

## Della GRAN TARTARIA.

**D**ove confina la Gran Tartaria?

Confina al Nord col Mar Glaciale.

all' Est coll' Oceano Pacifico.

al Sud colla China, l' India, e colla Persia.

all' Ovest colla Russia Europea.

*Come dividesi?*

In tre gran parti, cioè:

Tartaria Russa.

Tartaria Chinesa.

Tartaria Indipendente.

*Qual è la parte formante la Tartaria Russa?*

Quella che comprende li seguenti cinque Governi, secondo l' antica divisione:

	<i>Capitali</i>	<i>Abitanti</i>
Astracan . . . . .	Astracan	75. m.
Casan . . . . .	Casan.	
Orenburg . . . . .	Orenburg.	
Siberia propria . . . . .	Tobolk	20. m.
Irkutsk, il qual comprende il Kamschatka . . . . .	Irkutsk	

Quali sono le Provincie della Tartaria Chinesa?

Capitali



Chen-Yang . . . . .	Chenyang, o Mougdon
Kirin . . . . .	Kirin.
Teitcicar . . . . .	Teitcicar.

Come si divide la Tartaria Indipendente?

In Calmachia, o Eluths . .	Harcas.
Tibet . . . . .	Escherdou, o Tibet.
Turkestan . . . . .	Turkestan.
Paese degli Usbecki . .	Samarcand.
Daghistan . . . . .	Tarcou.
Circassia . . . . .	Terki.

Quali sono le Montagne principali?

- Il Monte Caucaso nella Circassia.
- Imaus o Imavo
- Poutala nel Tibet.
- Bogdo, Altai, e Kaintesse.

Quali sono i Mari?

Senza contar quelli che servono di confine, vi è il Mar Caspio, che alcuni credono che abbia comunicazione per canali sotterranei col Seno Persico.

Li Fiumi?

- Il Volga, il Tobol, l'Irtich, il Jenissei.
- L'Oby, il Burrampouter, il Lena, e l'Argun.

Qual è il Governo?

Parte dipende dalla Moscovia, parte dalla China, parte si regge per Orde, o Assemblee, ognuna delle quali ha il suo Capo,

La Religione?

- Pagana all'Est.
- Maomettana della Setta di Odoman al Sud.
- Greca-Scismatica all'Ovest.

Di

*Di che abbonda?*

D'armellini, e di zibellini. Nell' Astracan vi sono le uve le più grosse, e più belle del mondo. La Siberia ha miniere d'oro, d'argento, di rame, di ferro, di lapis-lazzuli, e di calamita.

*Quanto estendesi?*

In lunghezza 5100. miglia italiane.

In larghezza 900 miglia.

La superficie è di 2. milioni, 939. mila, e 640. miglia quadrate.

*Quant' è la Popolazione?*

Quella della Tartaria Indipendente, secondo *Pinkerton* potrebbe andare a 720. mila abitanti, ma è più probabile ch'essa non arrivi a più di un mezzo milione.

Alla Tartaria Russa vengono dati da *Bertin* 6. milioni d'abitanti.

## LEZIONE IV.

### Della C H I N A .

*Dove confina la China?*

Confina al Nord colla Tartaria Chinese.

all' Est col Mar Pacifico.

al Sud col Mar della China.

all' Ovest col Tonquin, Provincie di Tartaria, e Montagne del Tibet; e di Russia.

Co.

Come si divide?

In quindici Provincie, cioè:

Shan-sée Capit.	Tai-yen-fou . . .	} al Nord .
Shen-sée . . .	Si-ngnan-fou . . .	
Pé-ché-lée . . .	PEKIN . . .	
Shan-tung . . .	Tsi-nan-fou . . .	
Ho-nan . . .	Cai-song-fou . . .	} nel mezzo .
Kiang-nan . . .	Nankin . . .	
Tehe-kiang . . .	Hang-theou-fou . . .	
Se-chuen . . .	Tchiug-tou-fou . . .	
Hou-quang . . .	Vou-tang-fou . . .	
Kiang-sée . . .	Nant-tchan-fou . . .	} al Sud .
Fo-cheng . . .	Fou-theou fou . . .	
Yu-nan . . .	Yohan-fou . . .	
Koei-choeu . . .	Koci-yang . . .	
Quang-sée . . .	Quei-ting-fou . . .	
Quang-tung . . .	Canton . . .	

Quali Stati, o Provincie mancano a formare l'intero ed antico Impero della China?

Le Provincie della Tartaria Chinesa.

Gli Stati sudditi, o tributarj della China, ne quali è compresa la Penisola di Corea la cui Capitale è *King-ki-tao*.

Quali sono i Laghi?

Poyang è il più considerabile.

Li Fiumi principali?

L'Amur } formanti confine tra la Tartaria Russa

L'Argun } e la Chinesa.

L'Hoang, o sia Wambo, o Fiume Giallo.

Il Kiam, o Fiume Bleu.

Il Tsy.

**Le principali Baje?**

Quella di Nankin, e di Canton.

**Li Golfi?**

Di Cochinchina nel Regno }  
Di Perchell nella Provincia } dello stesso nome.

**Li Capi?**

Nimpo, sulla costa orientale della China.

Batang, Pangan, Varela, sulla costa orientale della Cochinchina.

**Qual è il Governo?**

La China ha un Imperatore.

La Penisola Corea ha un Re tributario della China.

**La Religione?**

Pagana; le altre Religioni vi sono tollerate. Vi si contano da 120. mila Cristiani.

**Di che abbonda?**

D'ogni cosa; soprattutto di grano, riso, vino, frutti eccellenti, e di cotone. Vi sono miniere d'oro, d'argento, di rame, di stagno, e d'argento vivo. Vi si raccolgono thé, zucchero, muschio, ed ogni sorta di spezierie.

**Quanto estendesi la China?**

In lunghezza 1650. miglia italiane.

In larghezza 1500.

La sua superficie è di 432. mila, e 666. miglia quadrate.

**La Popolazione?**

Nell'antichissimo Impero propriamente detto della China vi si contano 198. milioni 214. mila 555. abit., secondo la relazione de' Missionarj Francesi colà dimoranti, e l'enumerazione legale fatta nel 1761.; Secondo poi la relazione dell'ambasciata di Lord Macartney fatta nel 1794. la Popolazione di quest'Impero, co' Popoli tributarj, si fa ascendere a 333. milioni.

Le

LEZIONE V.  
Dell' INDIA.

**D**ove confina l' India?

Confina al Nord colla Tartaria Usbeka ed il Tibet.  
all' Est colla China, e col Mar del Sud.  
al Sud con l' Oceano Indiano.  
all' Ovest con la Persia e col Mare d' Arabia.


Come dividesi?

In tre gran parti, cioè:  
Impero del Mogol, o Indostan, la cui capit. è **AGRA**.  
Penisola Occidentale } del Gange.  
Penisola Orientale }

Che comprende l' Indostan, o Impero del Mogol?

Capitali

<p>Li Paesi Maratti-Berard . . . . . poco cogniti agli Europei.</p>	}	<p>Nagpour. Balasore. Cuttak. Ougein. Indoor.</p>
<p>Li Maratti-Poonah del Nord.</p>	}	<p>Calpy. Sagur.</p>
<p>Il Territorio di Tippe-Sultan, ora degl' Inglesi.</p>	}	<p>Seringapatam.</p>
<p>Il Regno di Meissour . . . . .</p>	}	<p>Mangalor.</p>
<p>— di Canara . . . . .</p>	}	<p>Bednore.</p>
<p>Bednore . . . . .</p>	}	<p>Bednore.</p>

*La Penisola Occidentale , o di quà del Gange ?**Capitali*


Il Regno Ji Visapour . . . . .	<i>Visapour .</i>
———— di Golconda . . . . .	<i>Golconda .</i>
———— di Bisnagar . . . . .	<i>Bisnagar .</i>
Tanjaor sulla costa di Coromandel	<i>Tanjaor .</i>
Calicut sulla costa di Malabar . .	<i>Calicut .</i>

*La Penisola Orientale , o di là del Gange ?*

Il Regno di Ava . . . . .	} Impero Birman .	<i>Ummerapoura .</i>
———— d' Aracan . . . . .		<i>Aracan .</i>
———— di Pegu . . . . .		<i>Rangou .</i>
———— di Siam . . . . .		<i>Siam .</i>
———— di Camboja . . . . .		<i>Camboja .</i>
———— di Laos . . . . .		<i>Langione .</i>
———— di Tonquin . . . . .		<i>Kecho , o Cacao .</i>
———— di Cochinchina . . . . .		<i>Hué .</i>
La Penisola di Malaca . . . . .		<i>Malaca .</i>

*Quali sono i Golfi ?*

Del Sindi , o di Guzarate	} nel Mogol .
Di Camboja . . . . .	
Di Bengala tra le due Penisole .	
Di Martaban nel Pegu .	
Di Siam al Sud del Regno stesso di Siam .	
Di Cochinchina all' Est del Regno stesso di Cochinchina .	

*Quali gli Stretti ?*

Della Sonda tra l' Isola di Sumatra e quella di Java .
Di Banch tra l' Isola dello stesso nome , e Sumatra .
Di Macassar tra Borneo , e l' Isola di Celebes .
Di Malaca , e di Sinca pura , tra l' Isola Sumatra e la Penisola di Malaca .
Di Manar tra l' Isola di Ceylan e la costa di Coromandel .

Quo-

*Quali sono i Capi, o Punte?*

- |                                                      |   |                                                   |
|------------------------------------------------------|---|---------------------------------------------------|
| Capo Batang . . .                                    | } | sulla costa or. della Cochinchina;                |
| — Pangan . . .                                       |   |                                                   |
| — Varela . . .                                       |   |                                                   |
| Punta di Camboja .                                   | } | nel Regno di Camboja .                            |
| Capo di Liante . .                                   |   |                                                   |
| Punta di Cin . . .                                   | } | nel Regno di Siam .                               |
| — di Cornom . . .                                    |   |                                                   |
| Capo di Patani . .                                   | } | sulla costa orient. della Penisola<br>di Malaca . |
| — di Romania . . .                                   |   |                                                   |
| Punta di Negrais sulla costa al Sud Ovest del Pega . |   |                                                   |
| Capo Cagliamera sulla costa di Coromandel .          |   |                                                   |
| — Comorin alla punta occ. della Penisola del Gange : |   |                                                   |

*Quali sono i Monti?*

I Monti di Gatain, o sia le Gatte, che traversano la Penisola di quà del Gange ,

*I Fiumi principali?*

- |                                          |   |                                         |
|------------------------------------------|---|-----------------------------------------|
| L'Indo, che dà il nome all'India . . .   | } | si perdono<br>nell'<br>Oceano Indiano , |
| Il Gange, de' più rispettabili del mondo |   |                                         |
| Menan, Pegu, e Menanchion . . . . .      |   |                                         |

*Qual è il Governo?*

Shah-Allum di Sovrano ch'egli era di questo grande Impero, presentemente non lo è che di nome, non possedendo che un piccolissimo Territorio, ove trovasi Delhi sua residenza, essendo diviso questo vasto paese in Possedimenti Britannici: in Stati Alleari della Gran Bretagna: in Territorio di Tipposaib: in Stati Maratti, e loro Territorj: e Territorio di Souban di Deçan,

Nel-



Nelle Penisole vi sono varj Re o assoluti, o tributarj: eccettuate alcune piazze degli Europei verso le spiagge.

### La Religione?

La Maomettana della Setta d'Omar è la dominante nel Mogol.

Nell'India vi regnano l'Idolatria, ed il Maomettismo, ma in ogni parte vi sono de' Cristiani.

### Di che abbonda?

Di miniere fecondissime in oro, argento, diamanti, e pietre preziose, ed è copiosamente provveduta di seta, cotone, salnitri, aranci, pepe, cannella, e bestiami d'ogni sorta; abbonda inoltre di cavalli, rinoceronti, elefanti, camelli, leoni, tigri, leopardi. Le scimie vi sono pure in gran numero, e devastano le campagne.

### Quanto estendesi?

In lunghezza 2400. miglia italiane.

In larghezza 1965. miglia.

### La Popolazione?

L'eccellente e veritiero storico M. Orme dice che li Maomettani, chiamati Mori dell'Indostan, si valutano circa 10. milioni.

E gl'Indiani. . 100. milioni.

Bertin dà all'India 160. milioni.

Da Mentel e Brun. vengono dati all'India di quà del Gange 80. milioni.

Ed all'India di là 24.

LEZIONE VI.  
Della P E R S I A .

**D**ove confina la Persia?

Confina al Nord colla Tartaria Indipendente;

all' Est coll' India,

al Sud coll' Oceano Indiano.

all' Ovest colla Turchia Asiatica e Golfo Persico.

Come divideasi?

In quindici Provincie,  
cioè:

Capitali

	Capitali	
Schirvan . . . . .	Chamaki.	} al Nord
Armenia Persiana . . . . .	Erivan .	
Ghilan . . . . .	Recht .	
Masanderan . . . . .	Ferabad	
Aderbijan . . . . .	Tauris .	
Korasan . . . . .	Hérat .	
Sigistan . . . . .	Zarang .	
Sablestan . . . . .	Bost .	
Candahar . . . . .	Candahar .	
Yrac-Agemi . . . . .	ISPAHAN .	
Kusistan . . . . .	Suster .	
Farsistan . . . . .	Schiras .	
Laristan . . . . .	Lar .	
Kerman . . . . .	Kerman .	
Mecran . . . . .	Guie .	

Qua

**Quali sono i Monti?**

Caucaso }  
Ararat } chiamati Montagne del Daghistan.

**I Golfi?**

Il Persico, o di Bassora, il quale si può scorrere da un capo all'altro in sei giorni, e traversarlo in uno.

**I Fiumi, ed i Laghi?**

Kur, e Aras, che si gettano nel Mar Caspio.

Lago d'Urmia nell'Aderbijan.

**Qual è il Governo?**

Assoluto e Monarchico; ed è ereditario ne' maschj; i Sovrani chiamansi Sofi.

**La Religione?**

La Maomettana è la dominante, insegnata da Alì, nipote di Maometto, diversa in molti punti dall'Alcorano; non vi mancano però de' Cristiani sparsi in più provincie.

**Di che abbonda?**

Di seta, cotone, cavalli, camelli, e perle; ha miniere di ferro, di rame, di piombo, e sopra tutto di turchino, il quale trovasi nel Korasan.

**Quanto estendesi?**

In lunghezza 1470. miglia italiane.

In larghezza 1050. miglia.

La sua superficie è di 266. mila, e 667. miglia.

**La Popolazione?**

Gli vengono dati 19. milioni d'abitanti,



## LEZIONE VII.

## Delle ISOLE DELL' ASIA.

**D**ove trovansi le Isole appartenenti all' Asia?

Ve ne sono nel Mediterraneo.

nell' Arcipelago o Mare Egeo.

nel Mare dell' Indie.

nell' Oceano Orientale, o Mare del Sud,  
e nell' Arcipelago del Nord, tra il

Kamtschatha e l' America Meridionale;

**Quali sono le Isole nel Mediterraneo?**

## Capitali

Cipro . . .	Nicosia . . .	} adjacenti alla Natolla.
Rodj . . .	Rodi . . .	

**Quelle dell' Arcipelago?**

Scarpanto . . .	Scarpanto	} dipendenti dalla Natolla.
Stampalia : . .	Stampalia	
Lango . . .	Lango . . .	
Samo . . .	Samo . . .	
Palmosa . . .	Palmosa . . .	
Scio . . .	Scio . . .	
Metelino . . .	Metelino . . .	
Tenedo . . .	Tenedo . . .	

**Quali sono quelle del Mare dell' Indie?**

Le Laquedive, le quali sono 19. al Nord delle Maldive.  
Le Maldive, il cui numero è incerto, contandone alcuni  
mille, altri sino 12. mila, Malé è la più grande.

Cey.

Capitali



Ceylan . . . . .	} nel Golfo di Bengala		Candy.		
Le d' Andaman . . . . .					
Le Nicobar . . . . .					
Della Sonda, cioè	}	Sumatra . . . . .	Achen.		
		Java . . . . .	Bantam		
		Borneo . . . . .	Borneo		
		Bali . . . . .	Bali .		
		Madura . . . . .	Madura		
		Banca . . . . .	Banca		
		Lomboc			
<i>le Grande Molucche, cioè:</i>					
Le Molucche con 2. milioni d' abitanti.	}	Celebes . . . . .	Celebes .		
		Gilolo . . . . .	Gilolo .		
		Ceram . . . . .	Ceram .		
		Burro . . . . .	Burro .		
		Amboina . . . . .	Amboina .		
		Banda . . . . .	Banda .		
		Timor .			
		<i>le piccole Molucche proprie, cioè :</i>			
			}	Ternate . . . . .	Malaga .
				Tidor . . . . .	Tidor .
Makian, la più fertile delle Molucche.					
Motir					
Bachian					
Le Filippine, che sono da 1100. e contano 3. milioni d' abitanti.	}	Lusson, o Manilla . . . . .	Manilla .		
		Mindanao . . . . .	Mindanao .		
		Cebu . . . . .	Nome di Gesù		
		Semar o Tendaye . . . . .	Guigan .		
		Mindora . . . . .	Mindora .		
		Panay . . . . .	Iloilo .		
Paragoya					

Le Caroline ossia Nuove Filippine o di Palaos .

Quelle

Quelle dell' Oceano Orientale o Mar del Sud?

Le Marianne, o de' Ladroni, che sono 14.,  
Guam è la primaria ed ha 4. mila abit. *Agadua* .

Hainan . . . . .	}	della Chiaa .	<i>Kou-Cheou</i> .
Sancian, o Chang-Tohuen . . . . .			<i>Tajouan</i> .
Formosa . . . . .			<i>Kintchin</i> .
Le Lequios . . . . .			

Del Giappone . . . . .	}	Nifon la più grande .	<i>Yedo</i> .
		Sikofk, o Kicoco .	<i>Tosa</i> .
		Saicoock, o Ximo .	<i>Nangazaki</i> .
		Likeo .	

Quali sono le Isole dell' Arcipelago del Nord?

Beerigh . . . . .	}	presso la Tartaria .
Le Kuriles, che sono 24.		
Sagalien o d' Amur . . . . .		
Jeso o Jedso . . . . .		
Matsumai . . . . .		
Isola degli Stati . . . . .		
Terra della Compagnia		
Terra di Gama . . . . .		

## LEZIONE XVIII.

Della SCOPERTA, APPARTENENZA,  
RELIGIONE E PRODOTTI  
DELLE ISOLE DELL' ASIA,

**D**a chi; e quando furono scoperte queste Isole, qual è la loro appartenenza, Religione, e principali prodotti?

*Le Isole del Mediterraneo, e dell' Arcipelago* appartengono al Turco. La Religione che vi si professa è la Greca - Scismatica. Abbondano di vini preziosi, co' quali quegli abitanti fanno gran traffico, e di tutto ciò ch' è necessario alla vita.

*Le Laquedive e le Maldive*, scoperte nel 1507. dal figlio d'Almeida Portoghese, dipendono da un Sovrano, che si chiama Sultano di 12. mila Isole. La Religione è la Maomettana. Il prodotto principale è il cocco, o noce d'India, e vi è del pesce in quantità.

Il dominio dell' *Isola di Ceylan* è diviso tra il Re di Candy, e gl'Inglese. I Popoli di quest' Isola sono Idolatri, o Maomettani. Abbona di pietre preziose, di oro, di droghe d'ogni sorta. La sua cannella è la migliore del mondo.

*Le Isole d' Andaman* hanno degli abitanti che sono crudeli ed antropofagi, cioè mangiatori d'uomini.

*Le Isole di Nicobar* sono varie: (Nicobar è la principale, la quale non è abitata che sulle coste; in essa si trovano i papagalli che parlano meglio.

Le

*Le Isole della Sonda* hanno molti Re, ma gli Olandesi vi sono potentissimi, e vi posseggono le migliori Piazze. I Nazionali sono Idolatri. Abbondano di pepe, cassia, ed altre droghe, di oro e di diamanti.

*Le Molucche*, state scoperte da Ferdinando Magellano nel 1520. sono soggette agli Olandesi. Le Religioni più comuni di questi Popoli sono l'Idolatra, e la Maometrana. Abbondanvi droghe, cannella, garofani, noci moscade, di cui fanno tutto il traffico gli Olandesi.

*Le Filippine*, scoperte da Magellano nel 1520., sono degli Spagnuoli, e que' che vi si sono stabiliti, come anche molti de' nazionali convertiti da' Missionarj, professano la Religione Cattolica. Gli altri vivono ancora nelle tenebre dell'Idolatria. Il prodotto consiste in frumento, biade, zucchero, cotone. In Manila vi si trova qualche miniera d'oro e d'argento.

*Le Caroline*, o *Nuove Filippine* sono state scoperte nel 1783. dove un paquebot Inglese fece naufragio. Producono canne da zucchero, cotone, e cacao.

*Le Isole de' Ladroni*, o sia di *Maria-Anna*, scoperte da Ferdinando Magellano nel 1520., dipendono dalla Spagna, la quale non ne ricava gran vantaggio. Abbondano di cacao, e di vulcani. Gli abitanti sono idolatri, ed assai superstiziosi.

*Hainan* appartiene a' Chinesi, ed abbonda in miniere d'oro e d'argento, e vi si pescano delle perle.

*Formosa* dipende al presente da' Chinesi, i quali scacciarono gli Olandesi nel 1661. Abbonda di tutto ciò ch'è necessario alla vita.

*Sapcian*, famosa per la morte di S. Francesco Saverio, il quale vi abbordò nel 1552. andando a predicarvi il vangelo; il di lui corpo fu trasportato a Goa.

*Le*



**Le Isole Lequios**, sei sono le principali, ma tutte tributarie del Regno di Saxuma; gli abitanti si governano con le loro proprie Leggi, e col loro Dairo. Vi si fa gran commercio di grosse conchiglie, delle quali i Giapponesi se ne servono in vece di vetri.

**Le Isole dell' Impero del Giappone** scoperte da' Portoghesi nel 1542. ubbidiscono ad un potentissimo Imperatore da cui dipendono molti altri piccoli Sovrani. La Religione dominante è l' Idolatria piena di mille superstizioni. Oltre al necessario alla vita si cava in abbondanza da quel terreno argento, rame, stagno e ferro. Le porcellane finissimé, che vi si fabbricano sono in grandissimo pregio presso gli Europei.

**Le Kuriles** sono 34. Isole; quelle del Nord sono sommesse alla Russia, e quelle del Sud rendono omaggio all' Imperatore del Giappone; alcune di queste abitate, e le più piccole sono intieramente deserte.

Nell' *Isola Sagalien* o d' *Amur* vi approdarono i Russi nel 1728. e vi stabilirono una pesca di perle. Vi si prende anche una quantità grande di martori zibellini.

**L' Isola di Jeso** fu in parte riconosciuta dagli Olandesi nel 1643. i quali cercavano il passaggio dal Nord al disopra del Giappone; è governata da un Principe tributario dell' Imperatore del Giappone.

**L' Isola di Matsumai** dipende essa pure dal Giappone.

**L' Isola degli Stati** fu scoperta e così nominata dagli Olandesi nel 1643.

**La Terra della Compagnia** fu così chiamata dagli Olandesi che ne riconobbero una costa. Le navigazioni Russe ci fecero conoscere che quest' era un' Isola.

**La Terra di Giovan di Gama** porta il nome d' un Capitano Spagnuolo, che la vide andando dalla China al Messico. Alcuni la confondono con Jeso.

DEL

# DELLE PARTI DELL' AFRICA

## CAPO II.

### LEZIONE I.

## Dell' EGITTO.

### *D*ove confina l' Egitto?

Confina al Nord col Mediterraneo.

all' Est col Mar Rosso.

al Sud colla Nubia, e coll' Alta Etiopia.

all' Ovest col Deserto di Barca, e le parti incognite dell' Africa.

### Come dividesi?

In tre gran parti, cioè:

Alto Egitto, o Said . . . . .

Egitto di Mezzo, o Vostani . . . . .

Basso Egitto, o Bahri . . . . .

### Capitali

Girgé.

GRAN CAIRO.

Alessandria.

### Quali sono i Monti principali?

Il Monte Ramilié, o sia Arenoso all' Ovest del Nilo.

Porfido . . . . .

Kolzim . . . . .

} vicino al Mar Rosso.

### Quali i Golfi?

Il Golfo degli Arabi.

### Quali i Capi?

Il Capo Darasi vicino al Golfo suddetto.

Quali

*Quali sono i Fiumi, ed i Laghi principali?*

Il Nilo, che straripa ogni anno 80. giorni a fecondare le campagne dal Sud al Nord nel Mediterraneo.

Il Lago di Buchiara, già Palude Mareotide.

*Qual è il Governo?*

L'Egitto dipende dal Turco, il quale lo governa dispoticamente per mezzo d'un Beglierbey.

*Qual' è la Religione?*

Maomettana; ma vi sono pure molti Cristiani Copti, e Melchiti, i quali sono infetti di molti errori.

*Di che abbonda?*

Di formento, riso, sena, cassia, dattoli, olive, e di erbe medicinali. Vi si trova molto bestiame, soprattutto delle capre, e lungo il Nilo v'ha una quantità di cocodrilli mostruosi.

*Quanto estendesi?*

In lunghezza 600. miglia italiane.

In larghezza 252. miglia.

La sua superficie è di 46. mila, e 902. miglia quadrate.

*La Popolazione?*

Due milioni, e mezzo di abitanti.

## LEZIONE II.

### Della NUBIA.

**D**ove confina la Nubia?

Confina al Nord con l'Egitto.

all'Est, parte col Mar Rosso e parte colla Costa d'Abex.

al Sud colla Cafreria.

all'Ovest col paese sconosciuto della Nigrizia.

*Come*

*Come divideasi?*

E' divisa in due Regni dal fiume Nilo,  
e sono: *Capitali*

Regno di Sennar all'Ovest : SENNAR 100. m.

— di Dongola all'Est : Dongola.

*Qual è il Governo?*

La Nubia è sotto il dominio del Re di Fungi, il quale conquistò il Regno di Sennar, che aveva un Re particolare, tributario dell'Imperatore degli Abissinj.

*Qual' è la Religione?*

E' un misto di Maomettismo, e di Giudaismo.

*Di che abbonda?*

Di muschio, avorio, polve d'oro, canne da zucchero, e di molti animali feroci.

*Quanto estendesi?*

In lunghezza 942. miglia italiane.

In larghezza 600.

La sua superficie è di 88. mila miglia quadrata.

### LEZIONE III.

## DELL' ABISSINIA

od ALTA ETIOPIA.

**D**ove confina l'Abissinia?

Confina al Nord colla Nubia.

all'Est col Mar Rosso.

al Sud colla Caffreria pura.

all'Ovest col paese sconosciuto della Nigrizia.

I

Come

*Come dividesi?*

Bruce assicura ch' essa comprende le dodici seguenti Provincie, cioè:

Masuah.  
Tigré.  
Samen.  
Bagember.  
Amhara.  
Walaka.  
Gojam.  
Darnot.  
Maisha.  
Dambea.  
Kuara.  
Nara.

*La-Croix* la divide co' Regni e Provincie seguenti:

Regno di Tigré.  
—— di Dambea.  
Provincia di Bagemder.  
—— di Gojam.

La Capitale dell' Abissinia  
è **GONDAR.**

*Quali sono i Fiumi?*

L' Abawi.  
Il Tacuse.  
Il Moreb.  
L' Hawash.

*I Laghi?*

Il Lago di Tzana.  
—— di Gooderoo.  
—— di Court-Ohha.

*Qual è il Governo?*

Dispotico, ed il suo Governatore ha il titolo d'Imperatore, e chiamasi il *Gran Negus.*

*La Religione?*

E' simile di quella della Nubia, cioè una setta scismatica di Cristiani, che mischiano nel loro culto molta idolatria, e giudaismo.

*Di che abbonda?*

Di formento, avena, riso, frutti di più qualità; di cotone, di bel lino, e di piante medicinali, cioè aloè, mirra,

mirra, cassia, miele, cera; e non v' ha forse paese al mondo in cui siavi sì grande quantità di quadrupedi docili, e feroci.

*Quanto estendesi?*

In lunghezza 900. miglia italiane.

In larghezza 800.

La superficie è di 142. mila miglia quadrate.

**LEZIONE IV.**

**D E L C O N G O . . .**

***D*** *ove confina il Congo?*

Confina al Nord colla Nigrizia.

all' Est coll' Etiopia.

al Sud colla Caferia.

all' Ovest coll' Oceano Atlantico, o Mare del Nord;

*Come dividesi?*

In quattro parti,  
cioè:

*Capitali*

<b>Regno di Loango</b> . . . . .	<b>LOANGO.</b>
— di Congo proprio . . . . .	<b>S. Salvatore.</b>
— di Angola . . . . .	<b>S. Paolo di Boanda.</b>
— di Benguela . . . . .	<b>Benguela.</b>

*Quali sono i Fiumi?*

Questo Regno è irrigato da varj Fiumi, quello di Zaira è ripieno di cocodrilli, di cavalli marini, e d'ogni specie di pesci.

*Quali*

*Quali sono i Capi?*

Capo S. Caterina.

— Ledo.

— di S. Bras.

— Negro.

*Qual è il Governo, e quale la Religione?*

Lo stesso che nella Guinea, e nella Nigrizia.

*Di che abbonda?*

Di miele, pepe, e di canne da zucchero. Vi sono varie miniere di ferro, e di rame. Si trasporta da questo paese una grande quantità di Schiavi. Vi abbondano gli elefanti, i cervi, i buffali, le scimie, ed i papagalli.

*Quanto estendesi?*

In lunghezza 2190. miglia italiane.

In larghezza 1419.

## LEZIONE V.

### Della CAFRERIA, delle COSTE DI ZANGUEBAR, e del MONOMOTAPA.

*Dove confina la Cafreria?*

Confina al Nord con la Nigrizia, e l'Abissinia.  
all'Est col Mare.

al Sud col Capo di Buona Speranza.

all'Ovest con parte della Guinea, Congo, e Mare.  
Come

Come divideſi?

In due parti, cioè:

Casreria pura, e questa in . . .	}	Settentrionale.
		Meridionale.
Casreria Miſta.		Oriente.

Quali Regni, o Popoli comprende la Casreria Settentrionale?

Il Regno di Mujac.

_____ di Biafara .

_____ di Gingiro, o Gingirbomba .

_____ di Macoco, o d'Ansico .

_____ di Monomoegi .

Li Popoli Jagas uniti co' Mumbos ed i Zimbas .

Il Regno di Maravi, ove ſono i Borori .

_____ d'Abutua .

Le Terre del Muzumbo-Acalunga .

Che comprende la Casreria pura Meridionale?

Il Capo di Buona Speranza .

_____ Falso, o Forcuſo .

_____ delle Aiguille .

Quali Regni comprende la Casreria pura Orientale?

	<i>Capitali</i>
Il Regno di Monomotapa . . . . .	<u>Zambèze</u> .
_____ di Manica . . . . .	<u>Manica</u> .
_____ di Quitéve, o di Sofala . . . . .	<u>Sofala</u> .
_____ di Sabia . . . . .	<u>Manbone</u> .
_____ d'Inhambane . . . . .	<u>Tonga</u> .

Che comprende la Casreria Miſta?

La Coſta di Zanguebar che comprende li Regni	}	di Mozambicco .	<u>Mozambicco</u> .
		di Moruca .	
		di Mongala . . . . .	<u>Mongala</u> .
		di Quilloa . . . . .	<u>Vecchio Qui loo</u> ,
		di Monbaze . . . . .	<u>Monbaze</u> .
La Coſta d'Ajan . . . . .	}	di Melinda . . . . .	<u>Melinda</u> .
		di Magadoxo . . . . .	<u>Magadoxo</u> .
		d'Adel . . . . .	<u>Zeila</u> .
		Repub. di Brava	<u>Brava</u> .



*Quali sono le Montagne principali?*

Il Monte Lupata, o sia la Spina del Mondo, che traversa la Cafreria.

—— Fura, ricchissimo d'oro.

*Quali i Fiumi, ed i Laghi?*

Il Manica, o Riviera dello Spirito Santo.

Il Sofala, che sorge ne' Monti di Manica.

Il Zambese, o Cuama.

Il Lago Maravi.

*Qual è il Governo?*

La Cafreria pura ha i suoi proprj Sovrani con titolo d'Imperatori.

La Cafreria Mista ha varj Re assoluti, ed altri tributarj.

*Quale la Religione?*

Quasi del tutto Maomettana, ed Idolatra, eccettuate alcune Piazze, che posseggono i Portoghesi nella costa di Zanguebar, che sono Cattoliche.

*Di che abbonda?*

Di riso, miglio, frutti, canne da zucchero nel Monomotapa: di oro finissimo, le cui miniere sono ne' monti della Manica. Vi si trova gran numero di struzzi, elefanti, e bovi.

*Quanto estendesi?*

In lunghezza 2400. miglia italiane.

In larghezza 1200. miglia.

*La Popolazione?*

La Colonia del Capo di Buona Speranza indipendentemente della Città del Capo dà 15. mila abitanti.



## LEZIONE VI.

Della BARBARIA,  
e BILEDULGERID.

**D**ove confina la Barbaria?

Confina al Nord col Mediterraneo.

all'Est coll'Oceano Atlantico.

al Sud col Deserto di Saara, comprendendo il  
Biledulgerid.

all'Ovest coll'Egitto.

Come divideasi?

In due parti,  
cioè:

*Capitali*

Barbaria propria che comprende il	}	Deserto di Barca	<i>Derne.</i>
		Regno di Tripoli	<i>Tripoli.</i>
		Rep. di Tunisi .	<i>Tunisi.</i>
		Regno d'Algeri .	<i>Algeri.</i>
		Imp. di Marocco	<i>MAROCCO.</i>
		Regno di Fez . .	<i>Fez..</i>
		— di Sus . .	<i>Sus, o Tarudan</i>
Biledulgerid. .	}	— di Tafilet .	<i>Tafilet .</i>
		Rep. Sugelmese .	<i>Sugelmese .</i>
		Il Tegerarin .	
		Il Zab . . . . .	<i>Pascara .</i>
		Il Biledulgerid pr.	<i>TOUSEKA, o TOSER.</i>
		Il Regno di Faisan	<i>Moursouck .</i>
		Tocorte . . . . .	<i>Tocorte .</i>
Guargala . . . . .	<i>Guargala .</i>		
Gadume . . . . .	<i>Gadume .</i>		

*Que-*

*Quali sono le Montagne principali?*

Il Monte Atlante, che traversa tutta la Barbaria.

—— Sarvai } nel Deserto di Barca.  
 —— Meis }

*Quali sono i Golfi?*

Della Goletta, o di Tunisi } nel Regno di Tunisi.  
 Di Cabes, o Sirta Minore . }

Di Sidra, o Sirta Maggiore, nel Regno di Tripoli.

*Quali sono i Capi?*

Capo Rameda, I uco } nel Deserto di Barca.

—— Roxatin, Razat }

—— Carcorella, Liconda . } nel Regno di Tunisi.  
 —— Canan, o sia di Mezrata }

—— Mabra, Bugaroni }

—— Temensfust . . } nel Regno d'Algeri.  
 —— Ferrat, Hon . }

—— Tres-Forcas, e Spartel nel Regno di Fez.

—— Blan, Cantin }

—— Ger, Agulon } nel Regno di Marocco.

*Quali sono i Laghi?*

Farsoun, nel Regno di Tunisi.

Melgig, nella Barbaria.

*Qual è il Governo?*

Fez, e Marocco hanno un Imperadore: Barca dipende dal Turco, le altre sono Repubbliche sotto la protezione de' Turchi.

*Qual' è la Religione?*

La Maomettana è la dominante, ma vi si tollerano il Cristianesimo, ed il Giudaismo.

*Di che abbonda?*

Di datteri, fichi, uve, amandole, peri, ciriage, prugne, limoni ecc.; Algeri produce una grande quantità di sale eccellente. Li cavalli di questi paesi erano una volta assai stimati, la razza s'è degenerata.



## LEZIONE VII.

**Del DESERTO DI SAARA,  
o di BARBARIA.**

**D**ove confina il Deserto di Saara?

Confina al Nord colla Barbaria .

all' Est coll' Egitto, e colla Nubia .

al Sud colla Nigrizia .

all' Ovest coll' Oceano Atlantico .

**Come dividesi?**

In cinque Deserti, cioè:

Deserto di Zanhaga.

—— di Zuenziga.

—— di Targa.

—— di Lemta.

—— di Berdoa.

**Quali i Capi?**

Capo Nun.

—— di Bajardor.

**Quali i Golfi?**

Il Golfo di S. Cipriano.

—— d' Arguin.

**Li Fiumi, ed i Laghi?**

Senegal.

Gambia.

Lago Cayar.

**Qual è il Governo?**

A ciascun paese presiede il suo Sovrano particolare.

*Qual*

*Qual' è la Religione?*

Alcuni di questi Popoli seguono la Maomettana, altri vivono a lor capriccio, senza veruna legge a guisa di bruti.

*Quanto estendesi?*

In lunghezza 3399. miglia italiane.

In larghezza 660. miglia.

---

## LEZIONE VIII.

### Della NIGRIZIA.

---

*Dove confina la Nigrizia?*

Confina al Nord col Deserto di Saara.

all' Est colla Nubia.

al Sud colla Guinea, e Terre ancora incognite.

all'Ovest coll'Oceano Atlantico.

*Come dividesi?*

In varj Regni, i principali sono i seguenti,  
cioè:

*Capitali*

---

Regno di Mandinga. . . .	<i>Sango.</i>
— di Tombut . . . .	<i>Tombut.</i>
— d'Agades . . . .	<i>Agades.</i>
— di Borno, o Bournon . .	<i>Borno.</i>
— di Woulli . . . .	<i>Medina.</i>
— di Bambara . . . .	<i>Sego.</i>
— di Houssa . . . .	<i>Houssa.</i>

*Qua*

*Quali sono i Monti?*

Il Monte Cafas, da cui scaturisce il Senegal.

Il Monte della Luna ove nasce il Nilo.

Il Monte o Valle Garamantica.

Il Monte Tala.

*Quali sono i Laghi?*

Lago o Palude Nigrite.

— di Gana.

— il Bornoo.

— o Palude Chelonide.

— Kanga.

— Couir.

*Li Fiumi?*

Il Niger, che dà il suo nome alla Contrada.

Il Senegal.

Il Gambia.

Il Rio-Grande.

*Qual è il Governo?*

Sono governati questi paesi da diversi Despoti, gli uni elettivi, gli altri ereditarj.

*Qual' è la Religione?*

Quella de' Negri, che abitano verso il Mare, è la Maomettana; gli altri vivono brutalmente.

*Di che abbonda?*

Di riso, di lino, di cotone, e di miniere d'oro. L'avorio è un ramo di commercio pei negri, siccome lo è de' schiavi.

*Quanto estendesì?*

In lunghezza 2199. miglia italiane.

In larghezza 840.



LEZIONE IX.

Della GUINEA.

**D**ove confina la Guinea?

Confina al Nord colla Nigrizia.

all' Est col Congo.

al Sud . }  
all' Ovest } coll' Oceano Atlantico.

Come dividesi?

In due parti, Settentrionale, e Meridionale, le quali comprendono i Regni, o Provincie seguenti:

Guinea Settentr. }  
Regno d' Ouale, o di Brac.  
— de' Foules, o Siratique.  
— di Galam.

Guinea Meridion. }  
Malaghetta.  
Guinea propria in cui trovasi:  
la Costa de' Denti.  
la Costa d' Oro,  
Regno di Benin.  
— d' Acombou.

Quali sono le Montagne della Guinea?

Monte di Sierra-Leona.

— Arse-Hill.

Quali sono i Golfi, o le Baje?

La Baja d' Yof, vicina al Capo-Verde.

— di Sierra-Leona formata de' Capi Verga, e Ledo.

Il Golfo di Guinea.

Quali sono i Capi?

Capo-Verde, Roxo, Verga, Tagrin o Ledo, e Meserado,  
sulla costa Occidentale.

Capo delle Palme . . .	} sulla costa Meridionale.
— delle Tre Punte . . .	
— Fermoso . . .	
— S. Giovanni . . .	
— di Lope Gonsalves . . .	

*Quali i Laghi?*

Di Panie-Foule . . .	} comunicano col Senegal .
Di Goumel . . .	

Saper, coperto di canne.  
Maberia .

*Li Fiumi?*

Senegal .  
Gambia .  
Rio Grande .

*Qual è il Governo?*

Regio sotto varj Sovrani; ma sulle coste, gli Europei vi hanno fatto molti stabilimenti .

*Qual' è la Religione?*

Vi professano l' Idolatria .

*Di che abbonda?*

Di riso, pepe, canne da zucchero, e di varie sorta di frutti eccellenti; vi si fa gran traffico di polve d'oro, di cera, di gomma, d'ambra, di cotone, di cuoi, e di denti d'elefanti. Vi si trovano delle miniere d'oro, e diverse specie d'animali e d'uccelli, de' papagalli, paoij ecc.

*Quanto estendesi?*

In lunghezza 1800. miglia italiane.  
In larghezza 360.



LEZIONE X.

Delle ISOLE DELL' AFRICA.

**D**ove trovansi le Isole appartenenti all' Africa?

Ve ne sono nell' Oceano Occidentale, o Atlantico, nell' Oceano Orientale, o Indiano, e nel Mare Medirreaneo.

Quali sono le Isole dell' Oceano Occidentale?

Madera che ha 64. mila abit. e capit. *Funchal*.

Porto Santo al Nord delle suddette.

	Teneriffa capit. <i>S. Croce</i> .	
	Gran Canaria con 2. m. abit.	
Canarie cioè:	Del Ferro . . . 4. m.	sulle coste della Barbaria.
	Forteventura . . . 8. m.	
	Lancerotta . . . 8. m.	
	Gomera . . . 7. m.	
	Palma . . . 10. m.	
	S. Jago . . . capit. <i>Riberia</i> .	
Di Capo Verde	Del Sale . . . . .	sulla costa Occidentale dirimpetto al Senegal.
	Bonavista . . . . .	
	Mayo . . . . .	
	Fuego . . . . .	
	Brava . . . . .	
	S. Niccola . . . . .	
	S. Lucia . . . . .	
	S. Vincenzo, e S. Antonio	
S. Luigi, o Senegal . . . . .		
Gorca . . . . .	vicina al Capo Verde	
De' Bisagos . . . . .	Formosa . . . . .	sulla costa della Guinea Settentrionale.
	Carache . . . . .	
	Cagara . . . . .	
	Mel . . . . .	

- Fernand Po . . . . .
- Del Principe . . . . .
- S. Tommaso , la capit. è *Pavoacan* } nel Golfo di Guinea .
- Roles . . . . .
- Annobon . . . . .
- S. Matteo . . . . . nel Mare di Guinea .
- Ascensione . . . . . tra l'Africa ed il Brasile .
- S. Elena . . . . . dirimpetto alla Cafreria .

**Quali sono le Isole dell'Oceano Orientale?**

Madagascar , o S. Lorenzo , che conta un milione e mezza di abitanti.

S. Maria abitata da circa 6. mila Negri .

Borbon , o della Riunione con 32. m. abt. } all'Est di Madagascar.

Di Francia , già Maurizia con 42. m.

Rodriguez . . . . .

- Le Comorre . }
  - Anjouan . . . . .
  - Mohilla . . . . .
  - Comorra . . . . .
  - Angasey . . . . .
  - Magotta . . . . .
 } dirimpetto alla costa di Zanguebar .

Le Amirante sono 7. Isole , delle quali Sechelle , o sia Mahé è la primaria . . . . .

Socotora , la cui capitale è *Tamarin* , tra l'Arabia felice e l'Africa .

Babel-Mandel , già *Diodorus* , all'ingresso del Mar Rosso .

Le Azore , o Tercere , venendo queste Isole ordinariamente da' Geografi nominate fra quelle dell'America Settentrionale , verranno descritte in quella Lezione .

**Quali sono le Isole del Mediterraneo adjacenti all'Africa?**

- Lampedosa . } all' Est di Tunesi .
- Linosa . . . }



## LEZIONE XI.

SCOPERTA, APPARTENENZA,  
RELIGIONE E PRODOTTI  
DELLE ISOLE DELL'AFRICA.

**D**a chi, e quando furono scoperte le Isole dell'Africa, qual' è la loro appartenenza, Religione, e prodotti principali?

*Madera* fu scoperta da Roberto Manchin Inglese nel 1344. e conquistata nel 1431. da Gio. Gonzalez e Tristan Vaz Portoghesi. La Religione che vi si professa è la Cattolica. Abbonda di biade, di frutti, di zucchero, ed è rinomata pe' suoi vini eccellenti.

*Porto Santo*, scoperta nel 1418. da' Portoghesi a' quali è pure soggetta, è fertile di cacciagione e di bestiami.

*Le Canarie*, o stano *le Fortunate* di Tolomeo, che appartengono agli Spagnuoli, ed abbondano di frutti delicati, di zucchero, di biade, e di vini preziosi, sono state scoperte in diversi tempi e da varie persone, cioè:

*Teneriffa* fu scoperta nel 1496. dallo Spagnuolo Ferdinando di Lugo; in quest' Isola vi si trova il famoso *Pico di Teide*, una delle più alte montagne della terra, cui si vede in mare 120. miglia in distanza.

*Canaria* nel 1483. dallo Spagnuolo Pietro di Vera.

*Ferro* } nel 1445. da Ferdinando Peraza Spagnuolo.

*Gomera* }  
*Fortaventura* } nel 1417. da Gio. di Betancourt Francese.  
*Lancerotta* }

*Le Isole di Capo Verde*, le quali sono le *Gorgades* o le *Esperidi* degli antichi, furono scoperte nel 1460. dal Genovese Antonio Noli, trovandosi al servizio della Corona di Portogallo, la quale le possiede tutt'ora, e vi mantiene un Vescovo ed un Vice-rè. L'aria vi è calda e malsana. Varie di queste Isole sono sassose e sterili, le altre producono del riso, del maiz, o sia grano d'India, de' banani, limoni, cedri, melaranci, melagrani, fichi e meloni. Vi si trova ancora del cotone e delle canne da zucchero. Le capre vi danno spesso tre volte in un anno tre o quattro capriuoli alla volta. Il più gran commercio di queste Isole consiste in sale, ed in pelli di capra, le quali vi vengono apparecchiate assai bene. Eccone un'idea delle sette primarie; cioè:

*S. Jago*, così chiamata per essere stata scoperta il primo di Maggio, giorno di S. Giacomo, è la più grande; e la più popolata di queste Isole.

*Buona vista*, presenta la più bella prospettiva per le sue bianche montagne.

*Brava* è inabitata per esser mal sana; produce una quantità grande di pelli.

*Del Sale* ha un gran numero di cavalli selvatici.

*Mayo*, oltre i cavalli, ha quantità di capre e del sale in abbondanza.

*S. Antonio* ha due montagne poco dissimili del Pico di Teneriffe.

*Fuego* o *del Fuoco* è così nominata perchè vi si trova un vulcano considerabile.

*Gorea* passò sotto il dominio degli Europei, per la prima volta, con la cessione che ne fece Briam Re del Capo Verde agli Olandesi nel 1617., e dopo varj cambiamenti di dominio venne sotto quello della Francia nel 1783. Essa è di grande importanza per la sua fama e prossimità della costa.

K

*S. Luis*

*S. Luigi o Senegal*, appartiene alla Francia, paese assai caldo e mal sano.

*Le Isole de' Bisagos*, scoperte dal Portoghese Ferdinando Po, sono varie Isole fertili di vino, olio, cera ecc.

*Fernand Po*, scoperta da Ferdinando Lopez, appartiene a' Portoghesi, e produce ogni sorta di piante, e molte capre selvatiche. Li vitelli e lions marini vi abbondano, e questi ultimi sono così grassi che delle volte ne cavano cinquecento pinte d'olio.

*L' Isola del Principe* fu scoperta da' Portoghesi a' quali appartiene, e vi si raccolgono ananas, banani, manioche, patate ecc. Li Cappuccini Italiani vi hanno un ospizio.

*S. Tommaso* fu scoperta nel 1405. da' Portoghesi a' quali appartiene. Abbonda di canne da zucchero, l'aria vi è mal sana e nociva agli stranieri pel gran caldo che vi si soffre.

*Roles* è fertile di pomi, di limoni, e d'ananas.

*Annobon* fu scoperta da' Portoghesi nel 1526, i quali nel 1779. la cedettero alla Spagna, da cui è pur' ora governata. Gli abitanti sono quasi tutti negri, assai attaccati alla Religione Cattolica. La principal rendita dell'Isola è in cotone, vi si trovano de' cocodrilli in quantità.

*S. Matteo* appartiene a' Portoghesi, che la scoprirono e l'abbandonarono; ora è inabitata, ed ha un lago d'acqua dolce.

*L' Ascensione*, scoperta da' Portoghesi, ovvero da Tristan Acuna nel 1508., è montuosa, sterile, inabitata; vi si trovano delle tartarughe d'una prodigiosa grandezza.

*S. Elena* fu scoperta da Giovan di Noya Portoghese nel 1502.,

1502.; se ne sono impadroniti gl' Ingleſi nel 1673. Abbondanvi frutti, legumi, melaranci, limoni, cedri ecc., vi ſi trovano bovi, porci, volatili, ed oche in quantità; l'aria che vi ſi respira è ſaniſſima, ed è chiamata l'albergo de' Marinaj.

*Madagascar*, che è l'Isola non ſolo la più grande dell' Africa, ma di tutte le Iſole dell' Universo, avendo circa 700. miglia italiane di lunghezza, 350. di larghezza, e credeſi che abbia da 2200. miglia di circonferenza, fu ſcoperta da' Portogheſi nel 1500.. Eſſa è ricca di ebano, di braſile, di ſandal, e di pietre prezioſe ecc. ecc. Abbraccia molti Regni e Provincie, ognuna delle quali ha il ſuo Sovrano particolare che ſta quaſi ſempre in guerra col ſuo vicino. La Religione di queſti Popoli è una ſciocca Idolatria.

*S. Maria* è fertile ſopratutto di riſo. I Franceſi vi ſi erano ſtabiliti, ma l' inſalubrità dell' aria li forzò a ritirarſi.

*Borbon*, o *della Riunione*, fu ſcoperta dal Portogheſe Mſcarenhas nel 1505., ora appartiene alla Francia, ed abbonda di grano, riſo, pepe bianco, buon caffè, tabacco, aloè ecc. Vi ſi trova un vulcano conſiderabile, ed è popolata di 6. mila bianchi, e 26. mila negri.

*L' Isola di Francia*, o *Maurizia*, fu ſcoperta da' Portogheſi nel 1505., ſe ne impoſſeſſarono gli Olandeſi nel 1598., ed ora è un Dipartimento della Francia unita all' Isola ſeſguente. Vi ſi trova cotone, grano, tabacco, riſo, indico ecc.

*Rodriguez*, ſcoperta da Diego Rodriguez, appartiene a' Franceſi, i quali vi mandano dall' Isola di Francia a prendervi delle tartarughe da mare per ſervire di rinfreſco agli equipaggi.

Le

*Le Comorre*, scoperte dall' Inglese Tommaso Rowe nel 1615., hanno de' piccoli Principi Pagani o Maomettani, i quali sono tributarj de' Portoghesi. Queste cinque Isole producono de' frutti eccellenti, del zucchero, cocco ecc. Vi si veggono molti animali domestici simili a quelli d' Europa.

Nelle *Amirante*, o *Sechelles*, vi si trovano alcuni coloni Francesi, i quali vi coltivano con molto buon successo le spezierie delle Molucchie.

*Socotora* fu scoperta dal Portoghese Pereira nel 1503. ed appartiene al Re di Farlac in Arabia, il quale professa la Religione Maomettana, come i suoi sudditi. Abbonda di riso, datteri, incenso, aloè ecc.

*Babelmandel*, la *Diodorus* degli antichi, è al presente spopolata, deserta e di poca considerazione.

*Lampedosa* è incolta ed inabitata; la chiesa di S. Maria, che vi si trova è divisa in due parti, una è consagrada a' Cristiani, ed è visitata da' Pellegrini che vi portano delle offerte; l'altra parte è del pari visitata con offerte da' Maomettani; vi si pesca molto tonno, e del corallo.

*Linosa* non ha nemmeno un luogo comodo dove i vascelli vi possano approdare.



DELLE PARTI DELL' AMERICA  
CAPO III.

AMERICA SETTENTRIONALE

LEZIONE I.

Della NUOVA BRETTAGNA  
Del CANADA' . . . .  
Della NUOVA SCOZIA , e  
Della NUOVA BRUNSWICH

AMERICA  
INGLESE.

*D*ove confina quest' America Inglese?

Confina al Nord con le Terre Incognite, e col Mar Glaciale.

all' Est col Mare Atlantico.

al Sud con gli Stati Uniti.

all' Ovest collé Terre Incognite.

*In quante parti si divide?*

In quattro, cioè:

Nuova Brettagna , o Terra di Labrador	} Provincia di Galles	} Settentr. Meridion.
Canadà proprio, la cui Capitale è		
Nuova Scozia, o Acadia . . . .		Halifax.
Nuova Brunswick . . . . , . . .		Shelburne.



**Le Montagne?**

Quelle della Nuova Bretagna sono prodigiose, e spaventevoli per le continue nevi, pei venti, e per l'eccessivo freddo.

**Quali sono le Baje, ed i Stretti principali?**

La Baja d'Hudson, di Fundy, di Chenigto, Verte ecc.  
Lo Stretto d'Hudson, di Davis, di Bell'Isola.

**Li Capi?**

Sono molti, i quali portano i nomi de' loro scopritori.

**Li Fiumi?**

S. Lorenzo }  
Mississipi . } li quali ne ricevono molti altri.  
Lutawas, Cambley ecc.

**Quali i Laghi?**

Lago Astchikou-nipi, o sia del Lupo Marino.  
— de' Gran Mistassini.  
— di S. Giovanni.  
— Nipi-Sirmis, o de' Stregoni.  
— Huron ecc.

**Qual è il Governo?**

Queste contrade, che si denominavano per Nuova Francia furono tolte dagl'Inglese a' Francesi da' quali dipendevano; le Popolazioni interne, o sono senza Governo, o pure hanno un Governo Democratico.

**Qual' è la Religione?**

Pagana; ma vi si trovano anche de' Cristiani.

**Di che abbonda?**

Di lino, legami, ludrie, castori, grano, tabacco, carbon di terra, pelletterie, cigni, oche ecc.

**Quanto estendesi in miglia italiane?**

	lunghezza	larghezza	superficie a miglia quadrate
La Nuova Bretagna .	1350.	900.	106,251.
Il Canada proprio .	600.	189.	33,336.
Nuova Scozia, e Nuova Brunswick }	249.	351.	19,002.

Le

La Popolazione?

Nel 1784. la Nuova Brettagna col Canada contenevano da 113 mila abitanti Inglesi, e Francesi, non compresi 10. mila Americani rifugiati e stabilitivi.

Secondo *Bertin* si può valutare 130. mila abitanti quella del Canada. I Francesi, ed Inglesi che vi si trovano, dice, che sono in numero di 20. mila.

LEZIONE II.

Degli STATI UNITI.

**D**ove confinano gli Stati Uniti?

Confinano al Nord } colla Nuova Brettagna, col Canada,  
 all'Est } e colla Nuova Scozia.  
 al Sud-Est con l'Oceano Atlantico,  
 al Sud con la Florida.  
 all'Ovest col Mississippi.

Come si dividono?

In tre gran parti, cioè:

Stati del Nord o dell'Est: del Mezzo: e del Sud.

Come si distinguono questi Stati?

Capitali

	Capitali
Stati del Nord Nuova Inghilt.	Vermont . . . . . <i>Bennington.</i>
	Nuovo-Hampshire . . . . . <i>Portsmouth.</i>
	col Distr. del Maina . . . . . <i>Portland.</i>
	Massachussets . . . . . <i>BOSTON.</i>
	Rhode-Island . . . . . <i>Newport.</i>
Connecticut . . . . . <i>Hartford.</i>	
Stati di Mezzo	Nuova Yorck . . . . . <i>Nuova Yorck.</i>
	Nuova Jersey . . . . . <i>Trenton.</i>
	Pensilvania . . . . . <i>Filadelfia.</i>
	Delaware . . . . . <i>Wilmington.</i>
	Terr. N. O. de l'Ohio . . . . . <i>Washington.</i>

		<i>Capitali</i>	
<b>Stati del Sud</b>	{	Maryland . . . . .	<i>Annapolis.</i>
		Virginia . . . . .	<i>Richemont.</i>
		Kentucky . . . . .	<i>Francfort.</i>
		Carolina del Nord . . . . .	<i>Mewbern.</i>
		Carolina del Sud . . . . .	<i>Carleston.</i>
		Georgia . . . . .	<i>Savannah.</i>
		Tenessea . . . . .	<i>Knoxville.</i>
			Territ. del Mississipi in parte.

**Quali sono i Laghi compresi negli Stati Uniti?**

Il Lago di Bois, Rainy, Superiore, Huron, Michigan, San Clair, Erie, Ontario, Champlain, Giorgio.

**Quali sono Fiumi principali?**

Il Connecticut, Tamigi, Patotuyont, Marimac ecc. ecc.

Li Capi, gli Stretti, e le Baje si ommettono stante il loro gran numero.

**Qual è il Governo?**

Ogni Provincia è una Repubblica che manda de' Deputati ad un' Assemblea Generale, o Congresso, in cui si trattano tutti gli affari che interessano la federazione e le imposte.

**Qual' è la Religione?**

Tutte le Religioni vi sono permesse senza restrizione, ma subordinate alle Leggi Civili.

**Di che abbonda?**

Di grani, farine, frutti, tabacchi, cuoj, carni salate, bestiami, cavalli, pesci d'ogni specie, legumi, e di miniere di quasi tutte le sorta di metalli.

**Quanta estendesi?**

In lunghezza 1670. miglia italiane.

In larghezza 1271.

La sua superficie è di 333. mila e 390. miglia quadrate.

**La Popolazione?**

Nel 1791. il numero degli abitanti era di 4. milioni circa, cioè: Abitanti Liberi 3,231,629. Negri 57,767. Schiavi 697,691. Presentemente viene portata la Popolazione di questi Stati a più di 5. milioni.

## LEZIONE III.

Della FLORIDA  
e della LUIGIANA.

**D**ove confina la Florida con la Luigiana?

Confina al Nord colla Georgia.

all' Est con lo Stretto di Bahama.

al Sud col Golfo del Messico.

all'Ovest col Fiume di Mississipi.

Come dividesi?

In tre parti, cioè:

Capitali

Florida Occidentale . Pensacola.

Florida Orientale . . . S. Agostino.

Luigiana . . . . . Nuova Orleans.

Quali sono i Fiumi principali?

Il Mississipi, uno de' più gran fiumi.

Il Mobile, l' Apa, Chicola, e S. Giovanni.

Le Baje, ed i Capi principali?

La Baja di S. Bernardo, dell' Ascensione, di Pensacola, del Delfino, di Giuseppe, d' Alapaxi, dello Spiritu Sancto, e di Carlo.

Qual è il Governo?

La Florida, e la parte Occidentale della Luigiana dipendono dagli Spagnuoli. La parte Orientale della Luigiana è stata ceduta agli Americani.

Qual' è la Religione?

La Pagana, e vi si adora il Sole.

Di

## 154 AMERICA SETT. Florida e Luigiana

**Di che abbonda?**

Di sorgo, che vi si raccoglie due volte all'anno, di frutti, legumi, cotone, argento vivo, perle, orpimento, tabacco, e selvatici.

**Quanto estendesi?**

In lunghezza 500. miglia italiane.

In larghezza 440.

La sua superficie è di 33. mila 336. miglia quadrate.

---

### LEZIONE IV.

## Del NUOVO MESSICO, e della CALIFORNIA.

---

**D**ove confina il Nuovo Messico con la California?

Confina al Nord con le Terre Incognite.

all'Est con la Luigiana.

al Sud col Vecchio Messico o Nuova Spagna.

all'Ovest col Mar Pacifico.

**Come dividesi?**

*Capitali*

In due parti, cioè:

Nuovo Messico . . . . . SANTA FE.

California . . . . . S. Giovanni.

**Qual è il Governo?**

Gli abitanti del Nuovo Messico, non soggetti agli Spagnuoli, sono governati da Capitani chiamati Cachiques, i quali sono scelti fra i bravi della Nazione.

Quelli della California sono indipendenti e selvaggi.

**Qual' è la Religione?**

L'Idolatra; ma vi si trovano molti Indiani fatti Cristiani da' Missionarj Spagnuoli.

*Di che abbondano?*

Di grano, e di frutti delicati, segnatamente delle uve;  
Nella California vi sono molti muli, cavalli, bestie  
a corna, lepri ecc.; vi si pesca molto pesce, e delle  
perle.

*Quanto estendesi?*

In lunghezza 2. mila miglia italiane.

In larghezza mille.

La sua superficie è di 200. mila miglia quadrate.

LEZIONE V.

Della NUOVA SPAGNA

o VECCHIO MESSICO.

*Dove confina la Nuova Spagna?*

Confina al Nord con il Nuovo Messico.

al Nord-Ovest col Golfo del Messico.

al Sud-Est colla Terra Ferma.

al Sud-Ovest col Mar Pacifico.

*Come dividesi?*

In tre parti, ossia tre Udienze, cioè:

*Capitali*



Galizia, o Guadalajara . . . . . Guadalajara..

Messico Proprio . . . . . MESSICO.

Guatimala . . . . . Guatimala.

*Qual è il Governo?*

Il Re di Spagna, che ne è il Padrone, vi manda un  
Vice-

## 156 AMERICA SETT. Nuova Spagna.

Vice-Re, il quale governa secondo le Leggi Monarchiche del suo paese.

*Qual' è la Religione?*

La Cattolica sola vi è permessa.

*Di che abbonda?*

Di biade, cuoj, indico, cacao, cocciniglia, zucchero, tabacco. Ha miniere d'oro, d'argento, di ferro e d'allume.

*Quanto estendesì?*

In lunghezza 1500. miglia italiane.

In larghezza 750.

La sua superficie è di 106. mila miglia quadrate.

---

### AMERICA MERIDIONALE

---

### LEZIONE VI.

### Della TERRA FERMA

NELL' AMERICA SPAGNUOLA.

---

**D**ove confina la Terra Ferma, o Castiglia d'Oro?

Confina al Nord }  
all' Est } col Golfo del Messico.

al Sud col Paese delle Amazzoni e col Perù.

all'Ovest col Golfo e coll'Istmo di Panama.

*Come*

# AMERICA MERID. Terra Ferma. 157

*Come dividesi?*

*Capitali*

In nove parti, cioè :

	<i>Capitali</i>
Terra Ferma Propria . . . . .	<i>Panama.</i>
Veragua . . . . .	<i>Veragua.</i>
Cartagena . . . . .	<i>Cartagena.</i>
Santa Marta . . . . .	<i>S. Marta.</i>
Rio de la Hacha . . . . .	<i>Rio de la Hacha.</i>
Venezuela . . . . .	<i>Caracas.</i>
Nuova Andalusia, o Cumana	<i>Cumana.</i>
Nuova Granata . . . . .	<i>S. FE' DE BAGOTAJ</i>
Popayan . . . . .	<i>Popayan.</i>

*Quali sono i Fiumi più considerabili?*

Rio Grande, Darien, Chagre, e Orenoco.

*Qual è il Governo?*

Dipende dal Re di Spagna, il quale vi fa osservare le sue Leggi.

*Qual' è la Religione?*

La Cattolica.

*Di che abbonda?*

Di maiz, e di frutti; vi si trovano miniere d'oro e d'argento, e degli alberi che distillano un balsamo eccellente.

*Quanto estendesi?*

In lunghezza 1400. miglia italiane.

In larghezza 765.

La sua superficie è di 433. mila, e 334. miglia quadrato.



## LEZIONE VII.

## Del PERÙ

## NELL' AMERICA SPAGNUOLA.

**D**ove confina il Perù?

Confina al Nord con la Terra Ferma.

all' Est col Paese delle Amazzoni.

al Sud con la Terra Magellanica, e col Chili.

all' Ovest col Mar Pacifico.

Come dividesi?

In tre Udienze, cioè:

Udienza di Quito . . . . .	Quito.
----------------------------	--------

—— di Lima, o Los Royes . . .	LIMA.
-------------------------------	-------

—— di Los Charcas, o de la Plata	Potosi.
----------------------------------	---------

Capitali

Quali sono le Montagne più considerabili?

Le Cordigliere, le quali sono le più alte del Globo.

Quali sono i Fiumi principali?

Grenada, Orenocco ecc.

Qual è il Governo?

Il Re di Spagna vi tiene un Vice-Re, il quale vi fa osservare le sue leggi, ed i Naturali, che non sono stati assoggettati, si sono ritirati nelle montagne.

Questa regione fu scoperta nel 1529. da Francesco Pisaro Spagnuolo.

Qual è la Religione?

La Cattolica.

Di che abbonda?

Di frumento, zucchero, vino, cotone, cavalli, montoni, frutti eccellenti, cedro, olio, acquavita, pepe,  
me-

## AMERICA MERID. Perù . 159

metalli d'oro, d'argento, e della nuova sostanza metallica chiamata platina, od oro bianco.

### Quanto estendesi?

In lunghezza 1500. miglia italiane.

In larghezza 600. miglia.

La sua superficie è di 353. mila 334. miglia quadrate.

### La Popolazione?

Gli Spagnuoli, e le razze miste che sono nel Perù devono formare più d'un milione.

Il numero degl' Indiani può arrivare a 2. milioni 250. mila individui.

---

## LEZIONE VIII.

### Della G U J A N A,

o AMERICA FRANCESE ED OLANDESE.

---

### **D**ove confina la Gujana?

Confina al Nord col Sutinam.

all' Est col Mare Atlantico.

al Sud col Paese delle Anjazzoni.

all'Ovest colla Nuova Andalusia.

### Come dividesi?

In due parti, cioè:

**Capitali**

Gujana Francese, o Cajenna . . . . *Cajenna.*

Gujana Olandese, o Surinam. . . . *Paramaribo.*

### Qual è il Governo, e quale la Religione?

I Francesi, i quali la chiamano Francia Equinoziale, vi hanno stabilito le loro Leggi, e la loro Religione. **Di**  
Stessamente gli Olandesi vi hanno stabilito le lor Leggi, e la loro Religione.

*Di che abbonda?*

D'eccezionali frutti; il zucchero, cotone, caffè, tabacco, lino, pelli, e legni per tingere formano il principale commercio.

*Quanto estendesi?*

In lunghezza 780. miglia italiane:

In larghezza 480.

---

## LEZIONE IX.

### Del PAESE DELLE AMAZZONI.

---

*Dove confina il Paese delle Amazzoni?*

Confina al Nord con la Terra Ferma.

all'Est col Brasile:

al Sud col Paraguai.

all'Ovest col Perù.

*Come si divide il Paese delle Amazzoni?*

Di questo vasto Paese non si conosce che ciò ch'è lungo il Fiume delle Amazzoni o Maragnon. Fu scoperto per quanto credesi nel 1539. da Francesco d'Orellana. I luoghi più rimarcabili che s'incontrano sulle sponde dalla sua sorgente nel Perù sino alla sua imboccatura sono i seguenti:

**Jaen**, il quale non è che un cattivo Villaggio sebbene conservi ancora il titolo di Città, e dovesse essere la residenza del Governatore.

**Sau Jago**, Borghetto, o piuttosto Casale, formato dagli avanzi d'una Città.

**Borja** o **Boria**, Città presso a poco della specie delle precedenti, quantunque sia ora Capitale del Governo di Maynat.

**Laguna**, grosso Villaggio abitato da più di mille Indiani portanti le armi, riuniti di diverse nazioni.

## AMERICA MERID. Amazzoni. 161

S. Gioachimo, Missione composta di varie nazioni Indiane, soprattutto di quelle degli Omaguas.

Pévas, o S. Ignazio, Borgata abitata dalla nazione Indiana, che porta il nome di Pévas.

S. Paolo, la prima Missione de' Portoghesi.

Coari, o Giayari è l'ultima delle sei popolate de' Missionarj Carmelitani Portoghesi.

Rio-Negro . . . . ;  
Pauxis . . . . . } tre Forti fabbricati  
Topeyos, o Tapayos } da' Portoghesi.

Curupa, o Corupa, piccola Città Portoghese, con una Fortezza fabbricata dagli Olandesi quand' erano al possesso del Brasile.

*Quali sono i Fiumi, o Riviere principali?*

Quello delle Amazzoni, o Maragnon.

Il Rio de dos Bocas, o riviera delle due Bocche, formata dell' incontro delle Riviere di Guanapu e di Pacajas.

Tocantens e Muju.

*Qual è il Governo?*

Dopo le Missioni de' Gesuiti Spagnuoli, incominciate nel 1637., la Spagna vi formò il Governo di Maynas.

Il Comandante non vi si rende mai, e non vi si vedono che alcuni Meticci Spagnuoli fissati nel Borgo di Borgia, riguardato come la Capitale della Provincia.

*Qual è la Religione?*

La Pagana nel centro del Paese abitato da' Selvaggi.

*Di che abbonda?*

Gli Europei ne traggono dell' oro e molta legna.

*Quanto estendesi?*

In lunghezza 1200. miglia italiane.

In larghezza 960.

*La Popolazione?*

Vi si contano presentemente 36. colonie, la più numerosa delle quali non ha più di mille e dugento abitanti.

## LEZIONE X.

**Del BRASILE,**  
**o AMERICA PORTOGHESE.**

**D**ove confina il Brasile?

Confina al Nord  
 all' Est } con l' Oceano.  
 al Sud }  
 all' Ovest col Paese delle Amazzoni e Paraguai.

Come divideasi?

In due Parti, cioè:

Provincie Interne, affatto incognite, e  
 Spiagge, che si dividono negli seguenti quattordici Go-  
 verni, o Capitanate.

Divisione del Nord

Capitali


Governo di Para . . . . .	:	Para o Belim.
— di Maragnan . . . . .	:	S. Luigi.
— di Siara . . . . .	:	Siara.
— di Rio Grande . . . . .	:	Tignaros.
— di Paraíba . . . . .	:	Paraíba.
— di Tamaraca . . . . .	:	Tamaraca.
— di Fernambuc . . . . .	:	Olinda.

Divisione del mezzo

— di Seregippe . . . . .	:	Seregippe.
— della Baja di tutt' i Santi	:	S. SALVADOR.


Go-

*Capitali*



<b>Governo</b> di Lios dos Ilheos . . .	<i>Paya.</i>
———— di Porto Seguro . . .	<i>Porto Seguro.</i>
———— di Spiritu Sancto . . .	<i>Spiritu Sancto.</i>

*Divisione del Sud*



———— di Rio-Janeiro . . .	<i>S. Sebastiano.</i>
———— di S. Vincenzo . . .	<i>S. Vincenzo.</i>

*Da chi fu scoperto questo Paese?*

Da Vincenzo Yanez Pinçon Spagnuolo nell'anno 1500.

*Qual è il Governó?*

Le Provincie interiori sono de' Selvaggi, i quali vivono senza Capo; e le Spiagge dipendono dal Portogallo.

*Qual' è la Religione?*

Cattolica sulle Spiagge o ne' quattordici Governi.

Pagana nell'Interno.

*Di che abbonda?*

Di canne da zucchero, tabacco, lacca, cocciniglia, cotone, legno verzino, balsamo toppaiba; vi si trovano miniere di diamanti, e quelle d'oro sono le più abbondanti della terra.

*Quanto estendesi?*

In lunghezza 2449. miglia italiane.

In larghezza 1500.

La sua superficie è di 343. mila 335. miglia quadrate.

*La Popolazione?*

Secondo l'Autore dello stato attuale del Portogallo vi vengono contati circa 430. mila abitanti, un sesto de' quali sono Portoghesi.



## LEZIONE XI.

## Del CHILI.

NELL' AMERICA SPAGNUOLA.

**D**ove confina il Chili?

Confina al Nord col Perù .  
 all' Est col Paraguai .  
 al Sud con la Terra Magellanica .  
 all' Ovest col Mare del Sud .

**C**ome divideasi?

In tre Parti, o Provincie,  
 cioè :

Capitali

Chili proprio . . . .	S. JAGO .
Imperiale . . . . .	Imperiale .
Chicuito o Cuyo . . . .	Mendoza .

**Q**uali sono le Montagne?

Le Cordigliere, che l' attraversano, le quali sono quasi tutte ripiene di vulcani e nonostante sempre coperte di neve .

**L**i Fiumi principali?

Guasco, Coquimbo, Chiapa, Baldivia, e Salado .

**C**hi lo ha scoperto?

Gli Spagnuoli nel 1539 .

**Q**ual è il Governo?

Dipende in parte da' Spagnuoli, i quali vi hanno stabilito le loro Leggi .

**Q**ual' è la Religione?

Cattolica nelle colonie Spagnuole, e Pagana ne' luoghi Selvaggi .

Di

**Di che abbonda?**

Di grani sopra tutto, di frutti, bestiame d'ogni specie; fra gli altri animali vi si distinguono delle capre sorprendenti in grossezza; vi si trovano miniere d'oro e d'argento.

**Quanto estendesi?**

In lunghezza 1200. miglia italiane.

In larghezza 500.

La sua superficie è di 68. mila 667. miglia quadrate.

**La Popolazione?**

Il numero de' Spagnuoli non sorpassa li 20. mila.

E quello degl' Indiani, Negri, e Mulatti riuniti non arriva a tre volte tanto.

**LEZIONE XII.**

**DEL PARAGUAI**

**NELL' AMERICA SPAGNUOLA.**

**D**ove confina il Paraguai, o la Plata?

Confina al Nord con il Paese delle Amazzoni,  
all' Est col Brasile e col Mare del Sud,  
al Sud con la Terra Magellanica.  
all' Ovest col Perù e col Chili.

**Come dividesi?**

In sei Provincie, cioè:

Paraguai proprio . . . . .	ASSUNZIONE.
Guaira . . . . .	Guad.-Real.
Parana . . . . .	S. Anna.
Urvaig, o Uruguai . . . . .	Los-Reyes.
Rio della Plata . . . . .	Buenos-Ayres.
Tucuman . . . . .	S. Jago.

**Capitali**

*Quali*



*Quali i Fiumi principali?*

Quello della Plata.

— di Parana.

— il Paraguai.

*Chi lo ha scoperto?*

Giovanni di Solis lo scoprì nel 1516. e vi fu mangiato da' Selvaggi, come pure i suoi disgraziati compagni.

*Qual è il Governo?*

Dipende da' Spagnuoli, ed è governato da un Vice-rè.

*Qual' è la Religione?*

La Cattolica dove non sonovi Selvaggi.

*Di che abbonda?*

Di zucchero, cotone, frutti, grani, tabacco, montoni, bovi, cavalli, e dell'erba preziosa chiamata Paraguai.

*Quanto estendesi?*

In lunghezza 1500. miglia italiane.

In larghezza 999. miglia.

La sua superficie è di 333. mila, e 330. miglia quadrate.

## LEZIONE XIV.

### Della TERRA MAGELLANICA

#### o PATAGONIA

**D**ove confina questa punta più Meridionale dell'America?

Confina al Nord col Paraguai.

all' Est con l'Oceano Meridionale.

al Sud con lo Stretto di Magellano.

all'Ovest col Mare del Sud.

Co.

*Come dividesi?*

Questo Paese, scoperto nel 1520. da Ferdinando Magellano Portoghese, è poco conosciuto, ed è abitato da alcune nazioni barbare, la più numerosa delle quali è quella de' Patagoni, i quali sono di statura alta e ben fatta, cioè dell'altezza presso a poco di dieci piedi. Le altre Nazioni sono i Cunianis, li Huyllanes, i Cesari, i Poyas, i Pulches, i Tirumencos.

*Quali sono i Fiumi?*

Quello di S. Caterina, di S. Lazaro, di Martino.  
—— di Corza, delle Correnti, di Gallegos.  
—— di S. Domenico, de' Martiri, de' Camarones.  
—— di Angra, di S. Mattia, di S. Giuliano.  
—— de' Leoni, di Sardinias, di S. Croce.

*Qual è il Governo?*

Gli Spagnuoli la considerano come una parte o dipendenza del Chili. Questi però vi fondarono due Città nel 1579, cioè:

S. Filippo.

Il Nome di Dio.

*La Religione?*

Il Ven. P. Mascardi Gesuita fu il primo Missionario, che vi penetrasse dalla parte di Chiloe, ed annunziasse a que' barbari il Vangelo, che poi autenticò col sangue, per esservi da' medesimi stato ucciso.

*Di che abbonda?*

Di tigri, lupi, cocodrilli, vipere, scimie di più specie, papagalli, tartarughe, ed uccelli differenti di bellissimo colori. Li cavalli, le vacche, ed i tori, che gli Spagnuoli vi han portati, vi hanno moltiplicato d'una maniera prodigiosa. Il clima è assai aspro, e l'aria è freddissima.



## LEZIONE XIV.

Delle ISOLE DELL' AMERICA  
SETTENTRIONALE E MERIDIONALE.

*Dove si trovano le Isole dell' America?*

*Le Azore o Terzere si trovano tra l' America Settentrionale e l' Africa.*

*Terra Nuova, con varie altre, nel Golfo di S. Lorenzo o di Guinea.*

*Le Bermude dirimpetto alla Carolina.*

*Le Antille all' Est del Golfo del Messico ed al Nord dell' America Meridionale.*

*Poche altre sono adjacenti all' America Meridionale.*

*Come si distinguono le Isole principali dell' America Settentrionale, ed a quali Potenze di Europa appartengono?*

	Capitali	Appartenenza
Le Azore o Terzere, cioè:		
Terzera, che ha 10. m. abit.	Angra . . . . .	} a' Portoghesi.
Flores . . . . .		
Fogal . . . . .	S. Croce . . . . .	
Pico . . . . .	S. Matteo . . . . .	
Graziosa con 4. m. . . . .	S. Croce . . . . .	
S. Maria . . . . . 3. m.	S. Maria . . . . .	
S. Michele . . . . . 30. m. abit.	Fagal . . . . .	
S. Giorgio . . . . .	S. Giorgio . . . . .	
Corvo . . . . .		Ter-

	<i>Capitali</i>	<i>Appartenenza</i>
Terra Nuova . . . . .	<i>Piacenza .</i>	} alla Gran Bretagna .
Capo Bretton . . . . .	<i>Louisburg .</i>	
S. Giovanni . . . . .	<i>Carlotta Town</i>	
Anticosti . . . . .	nel Golfo di S. Lorenzo . . . . .	} alla Francia
Belle Isle . . . . .	o di Guinea . . . . .	
Miquelon . . . . .	. . . . .	
S. Pietro . . . . .	. . . . .	

**Le Bermude, o di Summers, cioè:**

Bermuda, che è la primaria . . . . .	<i>Grand-Sund .</i>
S. Giorgia . . . . .	<i>S. Giorgia .</i>

**Le Antille, già Caribi, cioè:**

**Le Lucaje o di Bahama, che alcuni fanno ascendere a 500.**

Lucajone, o sia la Provvidenza . . . . .	
Bahama . . . . .	
Cigateo, o Alebaster . . . . .	
Guanahami, o S. Salvatore . . . . .	
Isola Lunga, o Yuma . . . . .	
Magane . . . . .	
Grande e Piccola Inaque . . . . .	
————— Cayque . . . . .	
Tortue . . . . .	
Aklin . . . . .	
Krooked . . . . .	
Exuma . . . . .	

} alla Gran Bretagna .

**Grandi Antille, cioè:**

Giamaica con 150. m. abit. . . . .	<i>Kingstown .</i>
Cuba . . . . . 10. m. . . . .	<i>Havane .</i>
Porto Ricco . . . . . 2. m. . . . .	<i>S. Giovanni .</i>
S. Domingo 375. m. . . . .	} <i>S. Domingo .</i>
	} <i>Porto Republ. .</i>

} alla Spagna .

} alla Francia .

} *Pica*

## Capitali

## Appartenenza

Piccole Antille, o sia di Barlovento  
o di Sopravento, quali sono le  
vere Antille, cioè:

Martinica con 82 m. abit.	<i>Forte S. Pietro.</i>	} alla Francia.
Guadalupa . . . . . 96 m. . . . .	<i>Bassa Terra.</i>	
Le Sante, che sono 3. . . . .	. . . . .	
Desirade . . . . .	. . . . .	
Maria Galande con 13. m. abit.	. . . . .	
S. Lucia . . . . .	. . . . .	
Tabago con 13. m. Negri . . . . .	<i>Georges-Town.</i>	
S. Martino . . . . . in parte.	. . . . .	
S. Bartolommeo . . . . .	. . . . .	
Anguilla o Isola Serpente.	. . . . .	
Barbuda . . . . . con 1500. abit.	<i>Michales-Town.</i>	} alla Gran Bretagna.
Antigoa . . . . .	<i>S. Giovanni.</i>	
S. Cristoforo con 42. m. abit.	<i>Bassa Terra Town.</i>	
Nieves . . . . .	<i>Charles-Town.</i>	
Montserrat . . . . .	<i>Plymouth.</i>	
Dominica . . . . .	<i>Borgo di Canne.</i>	
Barbada . . . . . con 90. m. abit.	<i>Bridge Town.</i>	
S. Vincenzo . . . . .	<i>Kings-Town.</i>	
Granata . . . . .	<i>Porto Reale.</i>	
Le Vergini, che sono 12. o 13. cioè:		
S. Tommaso è la primaria . . . . .	. . . . .	
S. Giovanni . . . . .	. . . . .	
S. Croce . . . . .	<i>Basseend.</i>	
Tortoga . . . . .	. . . . .	
Vergin Gorda . . . . .	. . . . .	
Boriquen o Crab . . . . .	. . . . .	
Saba . . . . .	. . . . .	
S. Eustachio . . . . .	<i>la Baja.</i>	
		Di.

# AMERICA Isole.

	<i>Capitali</i>	<i>Appartenenza</i>
<i>Di Sotto Vento, altre Piccole Antille, cioè:</i>		
Curacao . . . . .	<i>S. Pietro</i>	} alla Repubblica Batava.
Buon' Aria . . . . .		
Aruba . . . . .		
Margherita . . . . .		} alla Gran Bretagna
Trinità . . . . .	<i>S. Giuseppe</i>	

*Quali sono, e dove si trovano le Isole adiacenti all'America Meridionale?*

Le Gallapago . all'Ovest del Perù . . . . . a' Portoghesi

Puna . . nel Golfo di Guayaquil .

Isole del Re o delle Perle, sono 14. nella Baja di Panama.

Juan Fernandez . 9. miglia distante } dal Chili. alla Spagna.  
Paques . . . . . tre gradi distante }

Chiloe . . . } sulla Costa della Terra Magellanica.  
S. Martino . }

Terra del Fuoco . . . } all'estremità Merid. alla Gran Bretta  
Le Malovine o Falkland }

Fernand Norona . sulla costa del Brasile . . . a' Portoghesi.

Quest'ultima trovasi nell'Oceano Atlantico o del Nord.  
Le altre sono nel Mare Pacifico o del Sud.



## LEZIONE XV.

### SCOPERTA, E PRODOTTI DELLE ISOLE DELL' AMERICA SETTENTRIONALE, e MERIDIONALE.

**D**a chi, e quando sono state scoperte le Isole dell' America, e quali sono i loro principali prodotti?

*Le Azore* o *Tercere* furono scoperte sul principio del secolo XV. da certi Mercanti Fiamminghi, ma non si curarono di stabilirvisi. Verso il 1449. vi approdò Gonsalvo Velho, e ne prese possesso a nome del Re di Portogallo. Producono molto riso, vino, frutti; vi abbonda il bestiame, e vi si trova una quantità grande di sparvieri, e di falconi.

*Terra Nuova*, scoperta da pescatori Biscaïni nel 1495., e vuolsi altresì scoperta nel 1497. da' due Cabotti, oppure da Sebastiano Tabor Veneziano: è una delle più grandi dell' America, ed è piena di montagne e di boschi; la pesca del merluzzo, che è abbondantissimo, è il principal vantaggio che ne traggono.

*Capo-Breton*, o *Isola Reale*, scoperta da pescatori Bretoni, ha una cacciagione, ed una pesca capace di mantenere gli abitanti una gran parte dell' anno.

*S. Giovanni*, scoperta verso il 1518., oltrecchè ha molta cacciagione, ha buoni pascoli, e delle coste abbondantissime di pesce.

An.

*Anticosti*, o *Isola dell' Assunzione*, ha un terreno ripieno di rocche, ed una pesca di merluzzi assai grandi e belli.

*Bellisle*, *Miquelon*, e *S. Pietro*, queste tre piccole Isole nel 1783. furono rese dagli Inglesi alla Francia, alla quale appartenevano sino dal 1763.

Le *Bermude*, così chiamate dallo Spagnuolo Bermudo, che le scoprì nel 1517. e dal naufragio poi che vi soffersse nel 1609. Giorgio Summers Inglese, vengono ancor dette *Isole di Summers*. Di quattro che sono le primarie, Bermuda è la più considerabile, ed è fertilissima, facendovi due raccolte per anno; vi si raccoglie tabacco, e della seta in quantità.

Le *Antille*, chiamate già *Caribi*, che è lo stesso che *Cannibali*, o divoratori di uomini, per esser questi i primi naturali loro abitatori, furono scoperte dal Genovese Cristoforo Colombo nel 1492. al 1495. Nelle Piccole Antille (le quali ci sono indicate per le vere Antille) avvi l'Isola di S. Vincenzo e vicina quella di Becouya, nelle quali tutt'ora vi si trova il restante de' Caribi rifugiativi dacchè furono scacciati dagli Europei. Abbandano di grano, zucchero, indico, tabacco, cotone, e caffè, che vi fu trasportato. Vi si contano tre sole stagioni, non essendovi Inverno, e gli alberi sono sempre verdi.

Le *Lucaje*, o di *Bahama*, sono state le prime scoperte che fece Colombo nell'America, il quale scendendo nell'Isola di Guanahami la chiamò S. Salvatore e vi piantò la croce. Dodici, delle 500. che si vuole che siano, sono grandi e fertili, e le altre quasi deserte. Gl'Inglesi che ne sono i padroni non si sono stabiliti che nell'Isola chiamata la Provvidenza.

In *Cuba*, una delle Grandi Antille, scoperta nel  
1494.



## 174 AMERICA Isole .

1494. dal suddetto Colombo, vi si stabilirono gli Spagnuoli nel 1511. sotto Giacomo Velasquez. I di lei prodotti sono pelli e tabacco di grana, di cui fanno gran traffico gli Stranieri, vi si trovano molti papagalli, pernici, tortori ecc.

*S. Domingo*, scoperta nel 1492, prese questo nome da una città eretravi dagli Spagnuoli nel 1494. dedicata a *S. Domenico*, chiamandosi prima *Ispaniola*. È fertilissima di ogni sorta di biade, abbonda d'oro, argento, rame, talco, pelli, cristallo, zucchero, cacao, e indico.

*Porto Ricco*, scoperta nel 1493., ha un terreno pur fertile in biade ed in pasture per gli animali d'ogni genere, de' quali abbonda. Il zucchero, il cotone ed il lino sono di un grande vantaggio a quegli abitanti.

*Giamaica*, scoperta nel 1494., rende molto zucchero, tabacco, cotone, cacao, e dell'indico.

*Guadalupa* è abitata da' Francesi dal 1635., è pur essa fertile; produce tutti i suddetti generi, e del zenzero.

*Barbuda*, che vuol si da alcuni scoperta dagli Inglesi solo nel 1625., è la colonia la più considerabile che questi abbiano nelle Antille; è fertilissima in canne da zucchero, indico, e zenzero.

*S. Cristoforo*, scoperta nel 1443., è fertile soprattutto in frutti, ed in canne da zucchero, cotone, zenzero; ed è abitata da 6. mila bianchi e 36. mila negri.

*Le Vergini*, sono 12. o 13. Isolette assai alte, nelle quali si trovano de' fondi assai proprj per gettarvi l'ancora; eccettuate quattro, le altre sono inabitate.

*Curacao* è la sola Isola considerabile e comoda pel commercio che hanno gli Olandesi nelle Indie Occidentali,  
non-

nonostante che essa sia arida, e che vi si abbia bisogno di pioggia per aver dell'acqua.

*Margherita* scoperta nel 1493., è così chiamata per la quantità di perle, che vi si pescano lungo le sue coste.

*Nell' America Meridionale.*

*Le Gallapago*, o delle *Tartarughe*, furono scoperte dal Cap. Inglese Cowley nel 1684, sono esse inhabitate; vi si trovano degli uccelli in quantità, e delle eccellenti tartarughe.

In *Puna* il primo Capitano che vi andò fu Francesco Pizarro nel 1530., v'ha una città dello stesso nome, ed è abitata da Indiani, i quali sono quasi tutti Marinaj.

*Le Isole del Re*, scoperte nel 1519. da Gasparo Morales, sono quasi tutte quattordici coltivate, e vi si gode di un clima piacevole e sano. Vi sono alcuni Spagnuoli e Negri pescatori di perle, delle quali una volta si faceva abbondante pesca.

*Juan Fernandez*, fu scoperta nel 1563. da Giovan Fernandez, il quale vi mise tre o quattro capre, e queste si moltiplicarono talmente che l'Isola presto ne fu ripiena; è famosa per aver dato la nascita al rinomato Romanzo di Robinson Crusòè, il quale non è che la Storia di *Alessandro Selkirk*, Marinajo Scozzese, cha fu abbandonato su quella terra dal suo Capitano, e vi visse per alcuni anni sinchè venne scoperto nel 1709. dal Capitano Woodes Rogers, e passato in Inghilterra, diede delle memorie a Daniele Defoe, il quale con l'ajuto di queste, e con la sua viva immaginazione trasformò *Alessandro Selkirk* in Robinson Crusòè.

*Paques*, scoperta nel 1722., ha un suolo pieno di rupi, e non produce grand'alberi. Gli abitanti ciò nonostante vi sono numerosi, e si cibano di zucche bianche, di patate e di volatili. Chi.

*Chiloe*, la cui capitale è S. Giacomo di Castro, ha all'intorno circa 40. altre Isole, 25. delle quali sono popolate e coltivate. Abbondano di conchiglie, di pesci delicati, e vi si trova molt'ambra grigia od odorosa.

*La Terra del Fuoco*, è così chiamata dal famoso Capitano Spagnuolo che ne fece la scoperta nel 1520. perchè vide sortire delle fiamme da un Vulcano che trovasi nella sua parte più Meridionale. Si sono convinti i Geografi che quest'è un ammasso di varie Isole, separate da canali. Questo paese è pieno di montagne ed è miserabilissimo. Gli abitanti sono bianchi, assai brutti, barbari, ed antropofagi, cioè mangiatori d'uomini.

Le *Malovine*, o *Falkland*, scoperte nel 1594, da Riccardo Kawkins Inglese, sono due Isole grandi, e moltissime piccole, con un canale fra le due grandi.

*Fernand Norona* è stata scoperta dal Portoghese Ferdinando Norona nel 1517. ed è occupata da' Portoghesi affine d'impedire le altre nazioni dal farne un luogo di riposo per passare alle Indie.

*Ditemi ora qualche cosa rapporto alla estensione delle Isole?*

Le Isole Britanniche di questo continente, e le Indie Occidentali hanno una estensione di 15. mila e 642. miglia quadrate.

*È circa la Popolazione?*

Secondo i calcoli più recenti le Isole dell'America Settentrionale non contengono più di 700. a 800. mila abitanti, tanto Europei, che Mulatti e Negri schiavi.

# INDICE

## PARTE PRIMA.

*Del Globo Terraqueo , e delle sue  
Parti in Generale . . . . .* Pagina 1

<b>L</b> EZIONE I. Alcune Nozioni Generali . . . . .	1
——— II. Del Globo Terraqueo . . . . .	3
——— III. Dell' Europa in Generale . . . . .	7
——— IV. Dell' Asia in Generale . . . . .	12
——— V. Dell' Africa in Generale . . . . .	17
——— VI. Dell' America in Generale . . . . .	20
——— VII. Delle Terre Polari Incognite . . . . .	25
——— VIII. Delle Nuove Scoperte . . . . .	26

## PARTE SECONDA

*Delle Parti dell' Europa sepa-  
ratamente . . . . .* 29

<b>L</b> EZIONE I. Della Gran Brettagna , ovvero Isole Britanniche , o Regno Unito . . . . .	29
——— II. Degli Stati di Danimarca . . . . .	33
——— III. Della Svezia . . . . .	36
——— IV. Della Russia , o Moscovia . . . . .	38
——— V. Della Francia , ossia Impero Francese . . . . .	41
——— VI. De' Paesi Bassi , o Belgio . . . . .	52
——— VII. Delle Provincie Unite , o Rep. Batava . . . . .	54

LE-

<b>LEZIONE</b>	<b>VIII. Della Svizzera, ovvero della</b>	<b>Pagina</b>
_____	<b>Repubblica Elvetica . . . . .</b>	_____
_____	<b>IX. Dell' Alemagna, o Germania . . . . .</b>	_____
_____	<b>X. Del Regno di Boemia . . . . .</b>	_____
_____	<b>XI. Dell' Ungheria, e degli Stati dell'</b>	_____
_____	<b>Austria situati all' Est . . . . .</b>	_____
_____	<b>XII. Della Polonia . . . . .</b>	_____
_____	<b>XIII. Degli Stati di Prussia . . . . .</b>	_____
_____	<b>XIV. Del Portogallo . . . . .</b>	_____
_____	<b>XV. Della Spagna . . . . .</b>	_____
_____	<b>XVI. Dell' Italia . . . . .</b>	_____
_____	<b>XVII. Della Repubblica Italiana . . . . .</b>	_____
_____	<b>XVIII. Della Turchia Europea . . . . .</b>	_____
_____	<b>XIX. Della Repubblica delle Sette Isole . . . . .</b>	_____

## PARTE TERZA

*Dell' Asia, dell' Africa, e dell' America separatamente . . . . .*

### CAPO I

*Delle Parti dell' Asia . . . . .*

<b>LEZIONE</b>	<b>I. Della Turchia Asiatica . . . . .</b>	<b>I</b>
_____	<b>II. Dell' Arabia . . . . .</b>	<b>I</b>
_____	<b>III. Della Gran Tartaria . . . . .</b>	<b>I</b>
_____	<b>IV. Della Cina . . . . .</b>	<b>I</b>
_____	<b>V. Dell' India . . . . .</b>	<b>I</b>
_____	<b>VI. Della Persia . . . . .</b>	<b>I</b>
_____	<b>VII. Delle Isole dell' Asia . . . . .</b>	<b>I</b>
_____	<b>VIII. Scoperte, Appartenenze, Religione, e Prodotti delle Isole suddette . . . . .</b>	<b>I</b>

CAPO II.

Delle Parti dell' Africa . . . . . Pagina 127

<b>L</b> EZIONE I. Dell' Egitto . . . . .	127
— II. Della Nubia . . . . .	128
— III. Dell' Abissinia, od Alta Etiopia . . . . .	129
— IV. Del Congo . . . . .	132
— V. Della Casreria, delle Coste di Zanguebar, e del Monomotapa . . . . .	132
— VI. Della Barbaria, e Biledulgerid . . . . .	135
— VII. Del Deserto di Saara, o di Barbaria . . . . .	137
— VIII. Della Nigrizia . . . . .	138
— IX. Della Guinea . . . . .	140
— X. Delle Isole dell' Africa . . . . .	142
— XI. Scoperta, Appartenenza, Reli- gione, e Prodotti delle Isole suddette . . . . .	144

CAPO III.

Delle Parti dell' America . . . . . 149

America Settentrionale .

<b>L</b> EZIONE I. Della Nuova Brettagna Del Canada . . . . . Della Nuova Scozia e Della Nuova Brunswich	} America Ingl. 149	
— II. Degli Stati Uniti . . . . .		151
— III. Della Florida, e della Luigiana . . . . .		153
— IV. Del Nuovo Messico, e della California . . . . .		154
— V. Della Nuova Spagna, o Vecchio Messico . . . . .	155	

Ame-

<b>LEZIONE</b> VIII. Della Svizzera, ovvero della Repubblica Elvetica . . . . .	Pagina	57
IX. Dell' Alemagna, o Germania . . . . .		61
X. Del Regno di Boemia . . . . .		67
XI. Dell' Ungheria, e degli Stati dell' Austria situati all' Est . . . . .		69
XII. Della Polonia . . . . .		71
XIII. Degli Stati di Prussia . . . . .		73
XIV. Del Portogallo . . . . .		77
XV. Della Spagna . . . . .		79
XVI. Dell' Italia . . . . .		82
XVII. Della Repubblica Italiana . . . . .		97
XVIII. Della Turchia Europea . . . . .		100
XIX. Della Repubblica delle Sette Isole . . . . .		105

## PARTE TERZA

Dell' Asia, dell' Africa, e dell' America separatamente . . . . .	107
----------------------------------------------------------------------	-----

### CAPO I.

Delle Parti dell' Asia . . . . .	ivi
----------------------------------	-----

<b>LEZIONE</b> I. Della Turchia Asiatica . . . . .	107
II. Dell' Arabia . . . . .	109
III. Della Gran Tartaria . . . . .	110
IV. Della China . . . . .	112
V. Dell' India . . . . .	115
VI. Della Persia . . . . .	119
VII. Delle Isole dell' Asia . . . . .	122
VIII. Scoperta, Appartenenza, Reli- gione, e Prodotti delle Isole suddette . . . . .	124

CAPO II.

*Delle Parti dell' Africa . . . . .* Pagina 127

**L**EZIONE I. Dell' Egitto . . . . . 127

———— II. Della Nubia . . . . . 128

———— III. Dell' Abissinia, od Alta Etiopia . . . 129

———— IV. Del Congo . . . . . 132

———— V. Della Casreria, delle Coste di  
Zanguebar, e del Monomotapa . . . 132

———— VI. Della Barbaria, e Biledulgerid . . . 135

———— VII. Del Deserto di Saara, o di Barbaria 137

———— VIII. Della Nigrizia . . . . . 138

———— IX. Della Guinea . . . . . 140

———— X. Delle Isole dell' Africa . . . . . 142

———— XI. Scoperta, Appartenenza, Reli-  
gione, e Prodotti delle Isole suddette . 144

CAPO III.

*Delle Parti dell' America . . . . .* 149

America Settentrionale.

**L**EZIONE I. Della Nuova Brettagna }  
Del Canada . . . . . } America Ingi. 146  
Della Nuova Scozia e }  
Della Nuova Brunswich }

———— II. Degli Stati Uniti . . . . . 151

———— III. Della Florida, e della Luigiana . . . 153

———— IV. Del Nuovo Messico, e della California 154

———— V. Della Nuova Spagna, o Vecchio Messico 155

Ame-



## America Meridionale .

LEZIONE VI. Della Terra Ferma . . . . .	Pagina 156
———— VII. Del Perù . . . . .	158
———— VIII. Della Gujana . . . . .	159
———— IX. Del Paese delle Amazzoni . . . . .	160
———— X. Del Brasile . . . . .	162
———— XI. Del Chili . . . . .	164
———— XII. Del Paraguai . . . . .	165
———— XIII. Della Terra Magellanica . . . . .	166
———— XIV. Delle Isole dell' America Setten- trionale e Meridionale . . . . .	168
———— XV. Scoperta e Prodotti delle Isole suddette .	171









**THE NEW YORK PUBLIC LIBRARY  
REFERENCE DEPARTMENT**

**This book is under no circumstances to be  
taken from the Building**

17 509


form 410